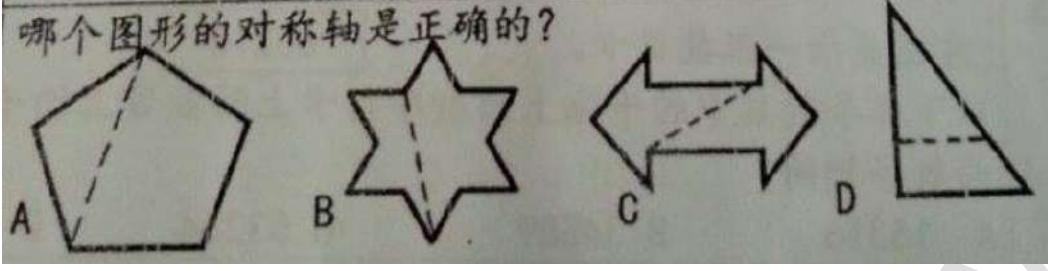


康乐华小 2016 年四年级数学评审 (一)

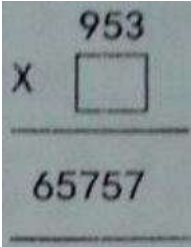

试卷 (一)

1.	8099 的十位近似值是 A. 8000                      B. 8100                      C. 8080                      D. 8200				
2.	以下哪个数目被化为百位近似值后, 百位的数位是最小的? A. 27960                      B. 34759                      C. 75816                      D. 83462				
3.	下图显示四张顺序排列的数目卡。卡 F 的数目没有显示出来。 <table border="1" style="margin-left: auto; margin-right: auto;"> <tr> <td style="text-align: center;">29306</td> <td style="text-align: center;">48311</td> <td style="text-align: center;">F</td> <td style="text-align: center;">63003</td> </tr> </table> 哪个数目代表 F? A. 36766                      B. 45983                      C. 54862                      D. 75218	29306	48311	F	63003
29306	48311	F	63003		
4.	下列哪一组数目以逆序排列? A. 97013, 31790, 64251, 38651 B. 64251, 38651, 97013, 31790 C. 97013, 64251, 38651, 31790 D. 97013, 31790, 64251, 38651				
5.	<table border="1" style="margin-left: auto; margin-right: auto;"> <tr> <td style="text-align: center;">63218</td> </tr> </table> 上图显示一张数目卡。 以下哪个数目中的千位上的数字与卡上的数目上的千位上的数字相同? A. 15316                      B. 34589                      C. 53264                      D. 71203	63218			
63218					
6.	$26558 + 42351 =$ A. 69909                      B. 68909                      C. 68809                      D. 68800				
7.	<table border="1" style="margin-left: auto; margin-right: auto;"> <tr> <td style="text-align: center;">32931, 61394, 32745, 60264</td> </tr> </table> 以上显示四个数目。最大和最小数的和是多少? A. 94325                      B. 94139                      C. 93009                      D. 65676	32931, 61394, 32745, 60264			
32931, 61394, 32745, 60264					
8.	下列哪项的和最大? A. $4250 + 94723$ B. $38457 + 50529$ C. $5984 + 69990$ D. $34990 + 13250$				
9.	下图显示一条数目线, 找出 P 的值  A. 63660                      B. 63670                      C. 63680                      D. 63700				
10.	选出正确的说明 A. 棱柱体只有曲面, 没有平面。 B. 正方棱柱体有 6 个平面。 C. 圆柱体是棱柱体, 因为它的底面形状相同。 D. 正方棱柱体有 8 条边。				
11.	正六边形有多少条对称轴? A. 6                              B. 12                              C. 18                              D. 24				

12.	<p>哪个图形的对称轴是正确的?</p> 								
13.	<p>45 个千 - 8 个千 - 15 个十</p> <p>A. 44050                      B. 36985                      C. 36850                      D. 26950</p>								
14.	<p><math>56000 - 1300 =</math></p> <p>A. 55700                      B. 54700                      C. 49000                      D. 43000</p>								
15.	<p>什么数目减去 52310 后是 23150?</p> <p>A. 29160                      B. 38260                      C. 64560                      D. 75460</p>								
16.	<p><math>78000 - 6293 - 45237 =</math></p> <p>A. 71707                      B. 30167                      C. 26470                      D. 15070</p>								
17.	<p><math>N - 53416 = 12807</math>              N 的值是多少?</p> <p>A. 66223                      B. 662113                      C. 41509                      D. 40609</p>								
18.	<p>下列哪一项是不正确的?</p> <p>A. <math>305 \times 100 = 30500</math>              B. <math>4258 \times 10 = 42580</math>              C. <math>6239 \times 0 = 62390</math>              D. <math>82 \times 1000 = 82000</math></p>								
19.	<p>下表显示一家工厂在三个月生产的饼干的数量。</p> <table border="1" data-bbox="638 1366 1021 1534"> <thead> <tr> <th>月份</th> <th>饼干的数量 (罐)</th> </tr> </thead> <tbody> <tr> <td>1 月</td> <td>59500</td> </tr> <tr> <td>2 月</td> <td>比 1 月少 12300</td> </tr> <tr> <td>3 月</td> <td>36500</td> </tr> </tbody> </table> <p>工厂在 2 月和 3 月生产的饼干的数量相差多少罐?</p> <p>A. 48800                      B. 47200                      C. 23000                      D. 10700</p>	月份	饼干的数量 (罐)	1 月	59500	2 月	比 1 月少 12300	3 月	36500
月份	饼干的数量 (罐)								
1 月	59500								
2 月	比 1 月少 12300								
3 月	36500								
20.	<p>张副校长将 28000 份表格分开系绑, 每 100 份绑成一扎, 共有多少扎?</p> <p>A. 28                      B. 208                      C. 280                      D. 2800</p>								
21.	<p><math>45045 \div 5 =</math></p> <p>A. 9090                      B. 9009                      C. 999                      D. 909</p>								
22.	<p><math>12 \times 854 =</math></p> <p>A. 10248                      B. 9148                      C. 8540                      D. 2562</p>								
23.	<p>把 3, 6, 5 排成最大的数三位数, 然后乘 21</p> <p>A. 13713                      B. 11823                      C. 7665                      D. 7476</p>								

24.	<p>丽怡原有 46 粒玻璃弹子, 哥哥又给了他几粒, 现在他共有 53 粒玻璃弹子。                      用字母 <math>W</math> 来表示未知数, 写出以上情况的加法算式。</p> <p>A. <math>46 + W = 53</math>    B. <math>W + 7 = 53</math>    C. <math>W - 53 = 46</math>    D. <math>53 + 46 = W</math></p>								
25.	<p>76 与 96 的积是多少?</p> <p>A. 7296    B. 6296    C. 4140    D. 1110</p>								
26.	<p><math>1165 \div 25</math> 的余数是多少</p> <p>A. 15    B. 46    C. 100    D. 150</p>								
27.	<p>下列哪一个数除以 35 没有余数</p> <p>A. 10000    B. 12700    C. 16200    D. 27300</p>								
28.	<p><math>81037 - 25194 + 12046 =</math></p> <p>A. 66179    B. 66289    C. 67789    D. 67889</p>								
29.	<p><math>Q \div 13 = 419</math> 余 8  <math>Q =</math></p> <p>A. 5551    B. 5455    C. 4252    D. 3352</p>								
30.	<p>紫萱计算一道五位数除以 4 的题目时, 把被除数百位上的 8 错看成 0, 得到的商是 14755。正确的商是什么?</p> <p>A. 15855    B. 14955    C. 13855    D. 13955</p>								
31.	<p>以下哪项的答案介于 60000 至 70000 之间?</p> <p>A. <math>35620 + 5000 \div 5</math>                      B. <math>15000 \div 4 \times 10</math>                      C. <math>5200 \times 10 + 13550</math>                      D. <math>60000 + 66000 \div 3</math></p>								
32.	<p>8 辆罗里分别装着 42400 个柚子。5 辆同样的罗里可装着多少个柚子?</p> <p>A. 5300    B. 8480    C. 15900    D. 26500</p>								
33.	<p>下图显示一个旅游景点三天的游客人数</p> <table border="1" style="margin-left: auto; margin-right: auto;"> <thead> <tr> <th>日期</th> <th>游客人数</th> </tr> </thead> <tbody> <tr> <td>星期六</td> <td>30600 人</td> </tr> <tr> <td>星期日</td> <td>比星期六多 650 人</td> </tr> <tr> <td>星期一</td> <td>28425 人</td> </tr> </tbody> </table> <p>这三天的游客人数是多少?</p> <p>A. 31250    B. 59675    C. 61851    D. 90275</p>	日期	游客人数	星期六	30600 人	星期日	比星期六多 650 人	星期一	28425 人
日期	游客人数								
星期六	30600 人								
星期日	比星期六多 650 人								
星期一	28425 人								
34.	<p>工厂员工每天生产 36600 支手电筒, 每一打装一盒, 每 10 盒装一箱, 一共可以装多少箱?</p> <p>A. 3660    B. 3050    C. 366    D. 305</p>								

如果这考卷对您有帮助，请考虑提供您所拥有的考卷，让其他人也受惠  
您可电邮至 [30commy@gmail.com](mailto:30commy@gmail.com) 或 PM 我们的 Facebook 专页: [fb.com/sjkcmv](https://fb.com/sjkcmv)

35.	12696、6457 与 11600 的和是多少? A. 88866                      B. 52753                      C. 30753                      D. 2313
36.	方格子中应该填上什么数目?  A. 9                      B. 69                      C. 79                      D. 80
37.	统计表上的  多少 A. 4                      B. 5                      C. 6                      D. 7
38.	900 和 30 的商是 A. 30                      B. 903                      C. 2700                      D. 27000
39.	语文出版社的华语课本存量为 1568 本，而各校定下了 9850 本，语文出版社决定再印 12000 本。语文出版社把华语课本送给各校后，还有多少本存货? A. 7082                      B. 3718                      C. 1582                      D. 582
40.	成功制衣厂每天制成 4500 件衬衫，3 个星期可制成多少件衬衫? A. 1350                      B. 9450                      C. 13500                      D. 94500