

康乐华小

2016 年四年级设计与工艺和信息与通信技术评审 (一)

(一) 是非题: 对的画✓, 错的画 X。 (8 x 2% = 16%) -

1. 用了工具后, 我们应该把工具放回工具架。------( )
2. 巡察员进入工艺室时, 不必把领带塞进围裙里。------( )
3. 当工艺室里发生意外, 我们应该马上通知老师。------( )
4. 描绘草图之前, 我们可以阅读课外读物以搜集资料。------( )
5. 哈山没有开口扳手, 但他可以用螺丝起子来锁紧螺母和螺栓。------( )
6. 电脑可称为计算机。------( )
7. 伺服器不是一种电脑。------( )
8. LINUX 是其中一种操作系统。------( )

(二) 选择题: 圈出正确的答案 (6 X 2% = 12%)

1. 下列哪项是管理组织中的职员和他们的任务搭配是正确的?

	职员	任务
A.	工头	根据值日生表执行各自的任务。
B.	组长	协助老师管理工艺室。
C.	助理工头	协助工头减轻工头的负担。
D.	组员	确定组员们的穿着符合安全标准。

2. 文斌要弯曲和夹断铁丝。 他应该使用哪种工具?

A. 尖嘴钳                      B. 两用扳手                      C. 开口扳手                      D. 一字螺丝起子

3. 下列哪一项是电脑的种类?

A. 风扇                      B. 驱动器                      C. 电子游戏机                      D. 交互式键盘

4. 永健要参加线上作文比赛。最适合永健使用的软件是

A. 試算表                      B. 文字处理                      C. 演示文稿                      D. 防毒软件

如果这考卷对您有帮助，请考虑提供您所拥有的考卷，让其他人也受惠  
您可电邮至 30commy@gmail.com 或 PM 我们的 Facebook 专页: fb.com/sjkcmy

5. 除了安装和卸载软件，操作系统也能举动软件。一下哪些是操作系统的其它功能？

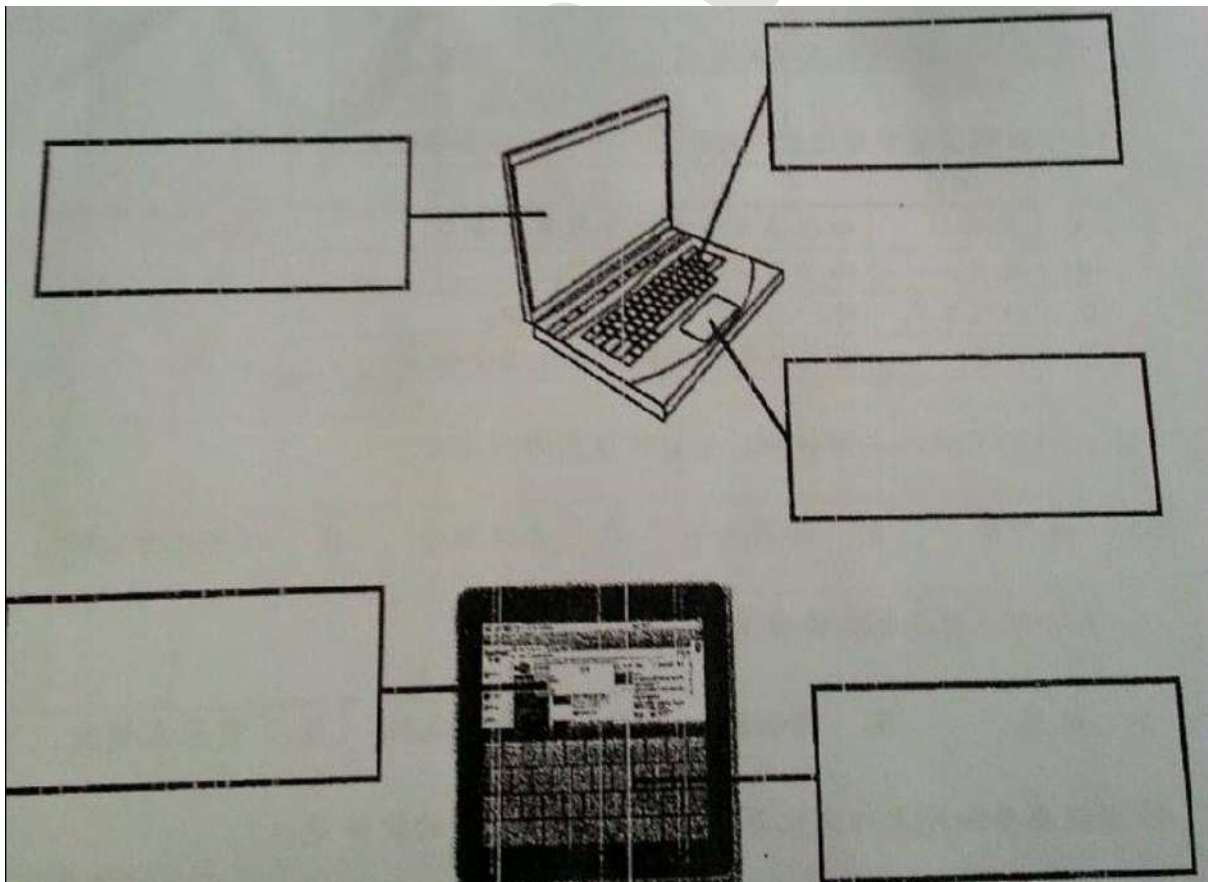
- I. 储存软件
  - II. 管理记忆空间
  - III. 复制和恢复所储存的资料
  - IV. 为用户提供良好的使用界面
- A. I, II, III      B. I, II, IV      C. I, III, IV      D. II, III, IV

6. 防毒软件如何处理电脑病毒？

- A. 重整电脑病毒
- B. 隔离电脑病毒
- C. 储存电脑病毒
- D. 压缩电脑病毒

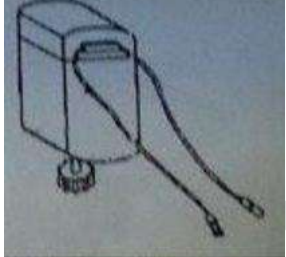
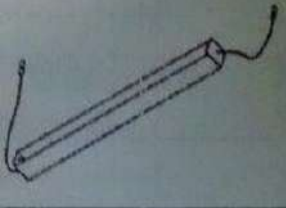

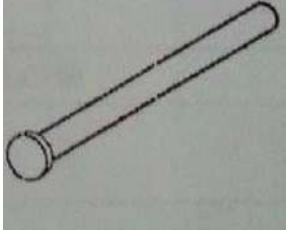

(三) 根据电脑的主要部分，填写正确的答案。(5 X 2% = 10%)

键盘	荧幕	触摸板	触摸屏	交互式键盘
----	----	-----	-----	-------



如果这考卷对您有帮助，请考虑提供您所拥有的考卷，让其他人也受惠  
 您可电邮至 30commy@gmail.com 或 PM 我们的 Facebook 专页: fb.com/sjkcmy

(四) 画线连一连： (5 X 2% = 10%)

1	装置干电池	 <p>电动机</p>
2	使模型转动	 <p>干电池匣</p>
3	带动轮转动	 <p>轮</p>
4	改变轮转动的方向和速度	 <p>轮轴</p>
5	将电能转换成功能，使模型转动	 <p>齿轮</p>

如果这考卷对您有帮助，请考虑提供您所拥有的考卷，让其他人也受惠  
 您可电邮至 [30commy@gmail.com](mailto:30commy@gmail.com) 或 PM 我们的 Facebook 专页：[fb.com/sjkcmly](https://fb.com/sjkcmly)

(五) 将以下的输入和输出设备进行归类。(6 X 2% = 12%)

		
条码扫描仪	扬声器	耳机
		
光笔	网络摄像头	显示器

输入设备	输出设备