

加影育华华文学校

2016 年第一学期三年级数学评审

( ) -3-2016 时间: 75 分钟

姓名: \_\_\_\_\_ ( )




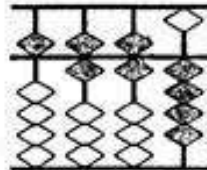
成绩: \_\_\_\_\_/100

班级: 3 ( A )

家长签阅: \_\_\_\_\_


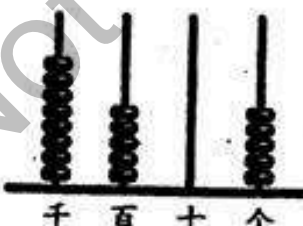

选择题: 选出正确的答案, 并把英文字母填写在空格里。 (20x2%=40%)

号数	题目	答案															
1.	4715 写成文字是 ( )。 A) 四千七百一十五 B) 四七一五 C) 四千七百十五 D) 四千七一五																
2.	<div style="border: 1px solid black; padding: 5px; display: inline-block;">3895, 9853, 5839, 3859</div> 根据上图, 哪一个数字的数值和数位是相同的? A) 3            B) 9            C) 5            D) 8																
3.	以下数目的百位近似值都是 8400, 除了 A) 8383            B) 8449            C) 8453            D) 8362																
4.	以下哪一项是正确的? A) 1000 有 100 个 10 B) 7 个千, 3 个百和 8 个十是 7308 C) 6879 的十位近似值是 6870 D) 4062 中的 0 是十位																
5.	( ) $\div$ 5 = 5 A) 1            B) 5            C) 10            D) 25																
6.	以下哪一项是正确的? A) 3908 比 3809 小 B) 5741 比 6870 大 C) 4628 比 4839 小 D) 5005 比 5050 大																
7.	<div style="border: 1px solid black; padding: 5px; display: inline-block;">2040, X, Y, 2190, 2240</div> X 和 Y 的值各是什么? <table border="1" style="margin-left: 20px;"> <thead> <tr> <th></th> <th>X</th> <th>Y</th> </tr> </thead> <tbody> <tr> <td>A)</td> <td>2090</td> <td>2140</td> </tr> <tr> <td>B)</td> <td>2070</td> <td>2100</td> </tr> <tr> <td>C)</td> <td>2090</td> <td>2130</td> </tr> <tr> <td>D)</td> <td>2100</td> <td>2150</td> </tr> </tbody> </table>		X	Y	A)	2090	2140	B)	2070	2100	C)	2090	2130	D)	2100	2150	
	X	Y															
A)	2090	2140															
B)	2070	2100															
C)	2090	2130															
D)	2100	2150															

8.	一辆北上檳城的货车上, 每名乘客分得 2 瓶水。如果共分了 8 瓶水, 那么货车上有多少名乘客? A) 4                      B) 6                      C) 10                      D) 16	
9.	在 7456 中, 5 的数值是 (      )。 A) 5                      B) 50                      C) 500                      D) 5000	
10.	以下哪项是正确的? A) $16 \div 3 = 5$ B) $16 \div 4 = 6$ C) $18 \div 2 = 6$ D) $24 \div 3 = 8$	
11.	以下哪个算盘图显示加法算式? $725 + 1528 + 983 =$ (A)  (B)  (C)  (D) 	
12.	3999 和 2999 的和数是在 A) 3000 和 4000 之间                      B) 4000 和 5000 之间 C) 5000 和 6000 之间                      D) 6000 和 7000 之间	
13.	把 3824 和 1907 的和数写成百位近似值。 A) 5700                      B) 5730                      C) 5800                      D) 6000	
14.	$3465 + 2198 + 1991 =$ (      ) A) 6635                      B) 7654                      C) 8038                      D) 9006	
15.	哪项算式的答案相等于算盘上所显示的数目? A) $4253 + 1411$ B) $3867 + 1701$ C) $3292 + 2375$ D) $3032 + 2545$ 	
16.	 数目线显示以下的哪项算式? A) $8 - 2 - 2 - 2 = 2$ B) $4 \times 2 = 8$ C) $8 \div 4 = 2$ D) $2 + 6 = 8$	
17.	以下哪项的值最大? A) $8 \times 2$ B) $5 \times 5$ C) $9 \times 4$ D) $0 \times 10$	

18.	802 和 195 相差多少? A) 997      B) 950      C) 850      D) 607	
19.	以下哪一项的答案是正确的? A) $46 + 28 = 74$ B) $38 + 101 = 137$ C) $268 - 24 = 245$ D) $357 - 47 = 311$	
20.	(      ) + 780 = 3266 + 1734 A) 7292      B) 4724      C) 4220      D) 3340	

作答题: 依照提示填写答案。(45%)

1.	<div style="display: flex; justify-content: space-around; align-items: center;"> <div style="border: 1px solid black; padding: 2px 5px;">4</div> <div style="border: 1px solid black; padding: 2px 5px;">0</div> <div style="border: 1px solid black; padding: 2px 5px;">8</div> <div style="border: 1px solid black; padding: 2px 5px;">3</div> </div> <p>a) 把以上的数字排成一个最小的四位数的数目。 b) 写出 (a) 项答案中数字 4 的数值。</p> <div style="display: flex; justify-content: flex-end; margin-top: 10px;"> <div style="border: 1px solid black; padding: 5px; margin-right: 20px;">a)</div> <div style="border: 1px solid black; padding: 5px;">b)</div> </div>	2
2.	<p>写出积木所代表的数目。</p> <div style="text-align: center; margin: 10px 0;">  </div> <p>文字: (      )</p>	1
3.	<p>以数字写出算珠所代表的数目。</p> <div style="text-align: center; margin: 10px 0;">  </div> <p>数字: (      )</p>	1
4.	<div style="text-align: center; margin: 10px 0;">  </div> <p>R 和 S 的差数是 (      )</p>	1





10. 两个数目的差数是 653, 如果其中一个数目是 139, 另一个数目是多少?

2

11. 下表显示一项常识比赛的分数榜。

同学	俊林	文丽	立志
分数	326	( ? )	( ? )

6

a) 俊林的分数比文丽的分数少 58 分, 文丽的分数是 \_\_\_\_\_。

b) 立志的分数比文丽多 32 分, 立志的分数是 \_\_\_\_\_。

c) 俊林, 文丽和立志的总分是 \_\_\_\_\_。

5


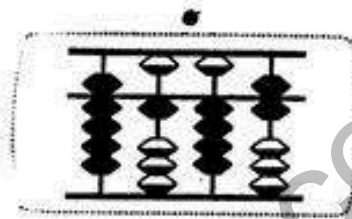
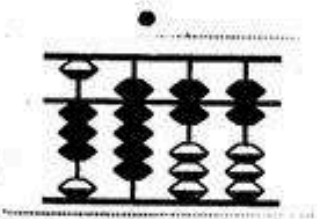
12. 拨一拨, 根据答案搭配正确的算盘。

6

$$2325 + 1641$$

$$4079 + 3590$$

$$5617 + 3529$$



13. 根据指示, 选出两个适当的数目加一加。

4

2509

3927

486

9073

658

6588

1296

a) 最大的数目和最小的数目。

b) 两个数目的百位数都是5。

6

	<p>c) 一个数目的个位数是7, 另一个数目的十位数是9。</p> <div data-bbox="657 318 1018 672" style="border: 1px solid black; width: 226px; height: 158px; margin: 20px auto;"></div>	2
14	<p>以竖式计算下列各题。</p> <div style="display: flex; justify-content: space-around; align-items: flex-start;"><div style="text-align: center;"><p>a)</p><math display="block">\begin{array}{r} 700 \\ - 289 \\ \hline \\ \hline \end{array}</math></div><div style="text-align: center;"><p>b)</p><math display="block">\begin{array}{r} 43 \\ 585 \\ + 7036 \\ \hline \\ \hline \end{array}</math></div><div style="text-align: center;"><p>c)</p><math display="block">\begin{array}{r} 1360 \\ 2033 \\ + 3799 \\ \hline \\ \hline \end{array}</math></div></div>	3

应用题: (15%)

1	<p>美香蛋糕店在12月里卖出了798块草莓蛋糕, 草莓蛋糕比芝士蛋糕的销售量少35块。这两种蛋糕共卖出了多少块?</p> <div data-bbox="236 1556 885 1639" style="border: 1px solid black; width: 407px; height: 37px; margin: 20px auto;"></div> <p>答: _____</p>	3
---	---------------------------------------------------------------------------------------------------------------------------------------------------------------------------------------------------------	---



2	<p>开心农场原有 800 个鸡蛋, 丢掉了 38 个坏的鸡蛋, 卖出了 650 个鸡蛋。农场里还有多少个鸡蛋?</p> <div data-bbox="263 369 922 459" style="border: 1px solid black; height: 40px; width: 413px; margin: 10px 0;"></div> <p>答: _____</p>		3
3	<p>玲玲和小欣各有 1782 枚邮票。家乐的邮票比他们两个人的邮票多 319 枚。家乐有几枚邮票?</p> <div data-bbox="255 779 898 869" style="border: 1px solid black; height: 40px; width: 403px; margin: 10px 0;"></div> <p>答: _____</p>		3
4	<p>陈老师买了 36 本书, 他找了 4 位图书管理员帮忙包书。问每个管理员平均要包多少本书?</p> <div data-bbox="247 1182 890 1272" style="border: 1px solid black; height: 40px; width: 403px; margin: 10px 0;"></div> <p>答: _____</p>		3
5	<p>小强一天刷牙两次, 一星期里, 他共刷牙多少次?</p> <div data-bbox="239 1529 882 1619" style="border: 1px solid black; height: 40px; width: 403px; margin: 10px 0;"></div> <p>答: _____</p>		3