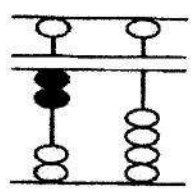
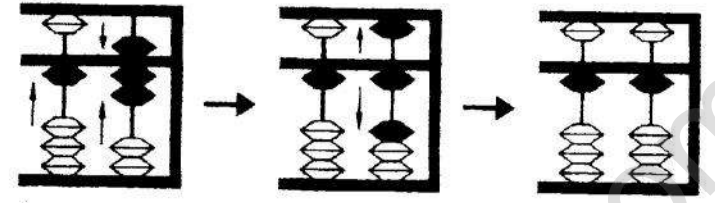
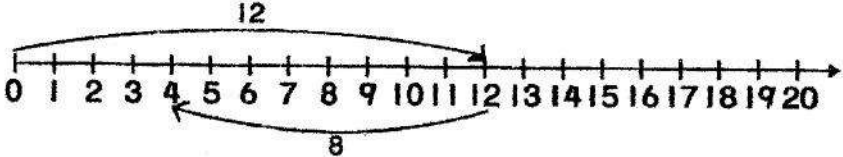


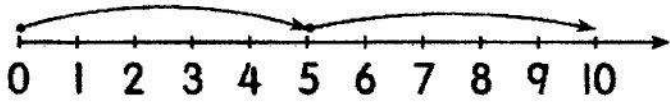




6	<p>以下算盘所显示的数目是</p>  <p>A 2 B 12 C 20</p>	
7	<p>哪项答案是对的?</p> <p>A $12 + 6 = 18$ B $12 + 6 = 14$ C $12 + 6 = 12$</p>	
8	 <p>根据上图, 下列哪项算式是正确的?</p> <p>A $17 - 15 = 2$ B $17 - 11 = 6$ C $17 - 6 = 11$</p>	
9	<p>什么数目比 15 多 3?</p> <p>A 12 B 18 C 20</p>	
10	<p>(), 1, 2, 3, 4</p> <p>() 中应该填上什么数字?</p> <p>A 0 B 1 C 2</p>	
11	<p>2 和 4 之间是 <input type="text"/>。</p> <p>A 2 B 3 C 4</p>	
12	<p>七加八等于</p> <p>A 十七 B 十五 C 十三</p>	

13	十减六可以写成 A $10 - 5$ B $10 - 6$ C $10 - 9$	
14	 <p>根据上图, 下列哪项算式是正确的?</p> A $12 - 8 = 4$ B $12 - 4 = 8$ C $12 + 8 = 4$	
15	下列哪项是正确的? A 14 的上一个数目是 15 B 14 的下一个数目是 15 C 14 的下一个数目是 13	
16	 <p>图中蛋糕的数量是_____。</p> A 13 B 14 C 15	
17	 <p>根据数轴的线, 空格里应填上什么数字?</p> A 4, 6 B 5, 6 C 5, 7	
18	姐姐买了 20 粒巧克力。她把 10 粒分给妹妹, 她还剩下多少粒巧克力? A 20 B 10 C 0	

19	空格里应填上什么数字?  A 9 B 8 C 7	
20	下列哪项是正确的? A 9 比 10 小 B 8 比 9 大 C 7 在 8 和 10 之间	
21	顺序排列以下数目。  A 5, 6, 7, 8, 9 B 6, 7, 8, 9, 5 C 9, 8, 7, 6, 5	
22	玛丽亚有 7 个洋娃娃, 丽娜有 5 个洋娃娃。她们一共有多少个洋娃娃? A 2 B 5 C 12	
23	草地上有 16 只鸡和 8 只鸭。鸡和鸭相差多少只? A 16 B 10 C 8	
24	文杰有 9 盒牛奶, 文康只有 3 盒。文杰的牛奶比文康多了多少盒? A 9 B 6 C 3	
25	子康有 8 本故事书, 哥哥的故事书比他多 9 本。哥哥有多少本故事书? A 8 B 9 C 17	

26	 <p>以上的答案是_____。</p> <p>A 5 B 10 C 15</p>	
27	 <p>食堂里有 13 杯果汁, 卖了 4 杯, 还剩下多少杯?</p> <p>A 3 B 5 C 9</p>	
看图回答问题。(第 28 - 30 题)		
28	<p>鱼缸里原本有多少条鱼?</p>  <p>A 6 B 7 C 8</p>	
29	<p>小花再放进多少条鱼?</p> <p>A 6 B 7 C 8</p>	
30	<p>鱼缸里一共有多少条鱼?</p> <p>A 1 B 12 C 13</p>	

答案

- | | |
|-------|-------|
| 1. C | 16. A |
| 2. C | 17. C |
| 3. B | 18. B |
| 4. A | 19. A |
| 5. C | 20. A |
| 6. C | 21. A |
| 7. A | 22. C |
| 8. C | 23. C |
| 9. B | 24. B |
| 10. A | 25. C |
| 11. B | |
| 12. B | |
| 13. B | |
| 14. A | |
| 15. B | |