
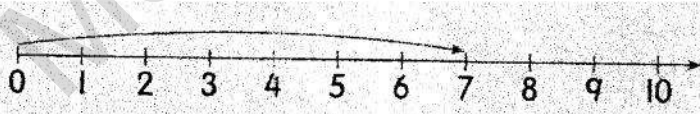
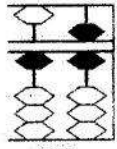
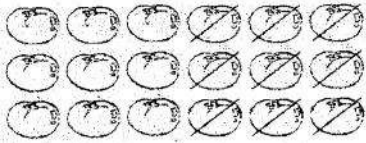
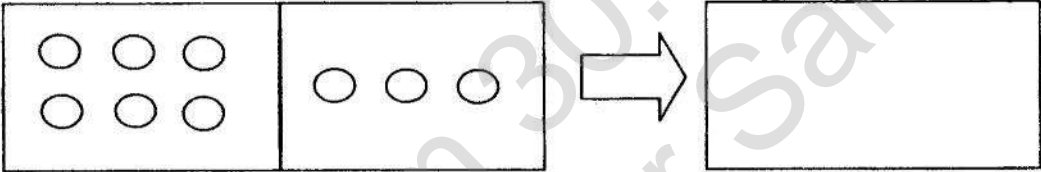
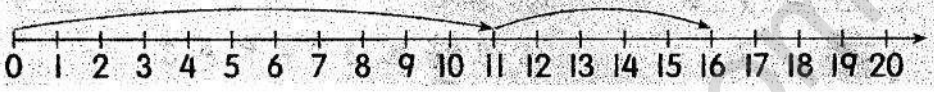


士毛月新国民型华文小学		数学一	/ 60
一年级数学 (二) 评审 2016年5月		数学二	/ 40
姓名: _____	班级: 1 ()	总分	/ 100
编号: ()	日期: _____		
分数: _____ / 40	家长签名: _____		

1	根据下图, 以文字写出正确的数量。  ()	1分
2	在横线上填上中间的数字。 7, _____, 9	1分
3	写出数轴所显示的数目。  ()	1分
4	把二十写成数字。 _____	1分

5	<p>以数字写出算盘所代表的数目。</p>  <p>()</p>	1分					
6	<p>根据下图, 写出减法算式。</p>  <p>() - () = ()</p>	2分					
7	<p>画小圆圈及写正确的算式。</p>  <p>() + () = ()</p>	2分					
8	<p>15 17 18 16 14</p> <p>逆序排列:</p> <table border="1" data-bbox="193 1442 1398 1503"> <tr> <td style="width: 20%; height: 20px;"></td> <td style="width: 20%;"></td> <td style="width: 20%;"></td> <td style="width: 20%;"></td> <td style="width: 20%;"></td> </tr> </table>						2分
9	<p>填上正确的答案。</p> <p>i) $12 - 7 = ()$</p> <p>ii) $9 + 8 = ()$</p>	2分					

10	<p>完成以下的算式。</p> <p>i) 以数字写出算式。</p> <table border="1" style="width: 100%; border-collapse: collapse;"> <tr> <td style="width: 50%; text-align: center;">八减五等于三</td> <td style="width: 50%; text-align: center;">() - () = ()</td> </tr> </table> <p>ii) 以文字写出算式。</p> <table border="1" style="width: 100%; border-collapse: collapse;"> <tr> <td style="width: 50%; text-align: center;">$6 + 3 = 9$</td> <td style="width: 50%; text-align: center;">() 加 () 等于 ()</td> </tr> </table>	八减五等于三	() - () = ()	$6 + 3 = 9$	() 加 () 等于 ()	2分
八减五等于三	() - () = ()					
$6 + 3 = 9$	() 加 () 等于 ()					
11	<p>根据以下的数轴, 写出加法的算式。</p>  <p style="text-align: center;">() + () = ()</p>	2分				
12	<p>根据数字三角, 完成以下的算式。</p> <div style="display: flex; align-items: center; justify-content: center; gap: 20px;"> <div style="text-align: center;">  </div> <div style="text-align: center;"> <p>() + 8 = ()</p> <p>() - 7 = ()</p> </div> </div>	2分				
13	<p>对的画√, 错的画×。</p> <p>i) 8 比 10 大 ()</p> <p>ii) 5 比 4 多 1 ()</p>	2分				

14	<p>哪项是上图的正确算式？ () - () = ()</p>	
15	<p>用心算加一加，填上正确的答案。</p>	2分
16	<p>哈山有6本书，小光有4本书。他们共有多少本书？</p> <div style="border: 1px solid black; width: 150px; height: 30px; margin: 10px 0;"></div> <p>答：他们共有()本书。</p>	3分
17	<p>公公买了10个鸡蛋，不小心打破了4个鸡蛋。公公还剩下多少个鸡蛋？</p> <div style="border: 1px solid black; width: 150px; height: 30px; margin: 10px 0;"></div> <p>答：公公还剩下()个鸡蛋。</p>	3分

18	<p>课室里有 17 位学生。其中 9 位是女生。男生有多少位?</p> <div data-bbox="252 443 826 539" style="border: 1px solid black; height: 43px; width: 360px; margin: 10px 0;"></div> <p>答: 男生有 () 位。</p>	3 分
19	<p>姐姐有 15 枝铅笔, 妹妹有 7 枝。她们的铅笔相差多少枝?</p> <div data-bbox="260 904 834 1001" style="border: 1px solid black; height: 43px; width: 360px; margin: 10px 0;"></div> <p>答: 相差 () 枝。</p>	3 分
20	<p>伟明有 5 张颜色纸。小丽的颜色纸比伟明多 7 张。小丽有多少张颜色纸?</p> <div data-bbox="276 1420 866 1516" style="border: 1px solid black; height: 43px; width: 370px; margin: 10px 0;"></div> <p>答: 小丽有 () 张颜色纸。</p>	3 分