

士毛月新国民型华文小学

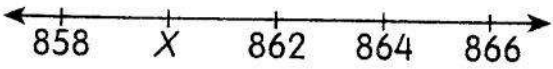

二年级数学(一)评审

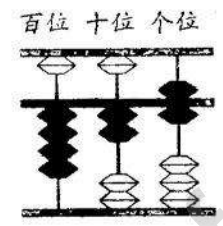
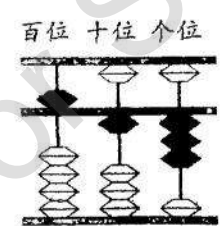
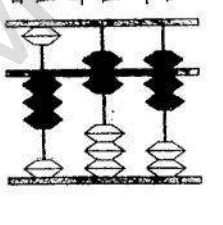
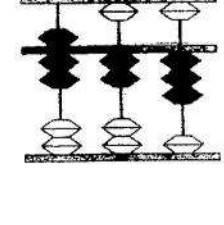
2016年5月

姓名: _____ 班级: 2 () 编号: () 日期: _____

分数: _____ 家长签阅: _____

把正确的答案的英文字母写在空格里。

1	<p>根据数值分析 107。</p> <p>A $10 + 7$ B $1 + 0 + 7$ C $100 + 70$ D $100 + 7$</p>	
2	<p>下图显示一条数轴。</p>  <p>X 的值是多少?</p> <p>A 859 B 860 C 861 D 863</p>	
3	<p>下列哪一个的百位近似值是 500?</p> <p>A 399 B 499 C 599 D 600</p>	
4	<p>下图显示一条数轴。</p>  <p>哪项是以上数轴的乘法算式?</p> <p>A $2 \times 2 = 4$ B $2 \times 4 = 8$ C $4 \times 2 = 8$ D $1 \times 8 = 8$</p>	
5	<p>391, 390, 392, 389</p> <p>以逆序排列以上的数目。</p> <p>A 389, , 390, 391, 392</p> <p>B 389, 391, 390, 392</p> <p>C 392, 390, 391, 389</p> <p>D 392, 391, 390, 389</p>	

6	<p>以下哪一个数字的值最大？</p> <p>A 178 B 187 C 781 D 871</p>	
7	<div style="display: flex; align-items: center;"> <div style="margin-right: 20px;"> $\begin{array}{r} 55 \\ + \quad \square \\ \hline 289 \end{array}$ </div> <div> <p>空格内应填上什么数目？</p> <p>A 342</p> <p>B 243</p> <p>C 234</p> <p>D 214</p> </div> </div>	
8	<p>$(X) \times (Y) = 45$</p> <p>A $X = 3$ $Y = 5$</p> <p>B $X = 4$ $Y = 5$</p> <p>C $X = 5$ $Y = 5$</p> <p>D $X = 9$ $Y = 5$</p>	
9	<p>$454 + 59 =$</p> <div style="display: flex; justify-content: space-around;"> <div style="text-align: center;"> <p>A</p>  </div> <div style="text-align: center;"> <p>B</p>  </div> </div> <div style="display: flex; justify-content: space-around; margin-top: 20px;"> <div style="text-align: center;"> <p>C</p>  </div> <div style="text-align: center;"> <p>D</p>  </div> </div>	
10	<p>二年级有 94 名学生。3 年级的学生比二年级的学生多了 48 名。这两级的学生共有多少人？</p> <p>A 142 B 190 C 236 D 263</p>	

11	雪丽、小玲和文文各买了 2 杯果汁。他们共买了多少杯果汁？ A 3 B 4 C 5 D 6	
12	弟弟有 350 枚邮票。他比哥哥少 63 枚。后来哥哥又买进 25 枚邮票。哥哥共有多少枚邮票？ A 438 B 384 C 348 D 312	
13	$2 \times 0 =$ A 20 B 2 C 1 D 0	
14	$758 - 46 =$ A 708 B 710 C 712 D 714	
15	$\begin{array}{r} 900 \\ - 159 \\ \hline \end{array}$ A 851 B 751 C 741 D 714	
16	$84 + 7 + 65 =$ A 156 B 157 C 219 D 259	
17	弟弟每天学写 4 个生字。一个星期里他共写了多少个生字？ A 4 B 16 C 28 D 32	
18	$4 \times 2 =$ A $4 + 4$ B $3 + 3$ C $2 + 2$ D $1 + 1$	
19	两个数目的和数是 258。如果其中一个数目是 58, 另一个数目是什么？ A 500 B 400 C 300 D 200	
20	阿里叔叔卖出 66 个山竹后，还剩下 277 个山竹。阿里叔叔原有多少个山竹？ A 211 B 343 C 353 D 355	

21	<p>下列哪个差数最小？</p> <p>A 452 - 217 B 525 - 323</p> <p>C 673 - 425 D 789 - 563</p>							
22	<table border="1" data-bbox="252 387 724 611"> <thead> <tr> <th>星期</th> <th>数量 (个)</th> </tr> </thead> <tbody> <tr> <td>星期六</td> <td>138</td> </tr> <tr> <td>星期日</td> <td>297</td> </tr> </tbody> </table> <p>上表显示陈老板在两天里所售卖的水果数量。他共卖了多少个的水果？</p> <p>A 345 B 435 C 453 D 534</p>	星期	数量 (个)	星期六	138	星期日	297	
星期	数量 (个)							
星期六	138							
星期日	297							
23	<p>$5 + 5 + 5 + 5 + 5 + 5 =$</p> <p>A 5×6 B 6×5 C 5×5 D 4×5</p>							
24	<p>$152 - (\quad) = 67$</p> <p>A 95 B 85 C 75 D 65</p>							
25	<p>哪一个 是 下图的 乘法算式？</p> <div data-bbox="248 1182 1193 1317" style="text-align: center;"> </div> <p>A $2 \times 6 = 12$ B $4 \times 3 = 12$</p> <p>C $6 \times 2 = 12$ D $3 \times 4 = 12$</p>							
26	<p>591 和 256 相差多少？</p> <p>A 307 B 317 C 327 D 335</p>							
27	<p>下列哪一个组合是正确的？</p> <p>A 684 → 六百八十四 B 684 → 六八四</p> <p>C 684 → 八百六十四 D 684 → 四百八十六</p>							

28

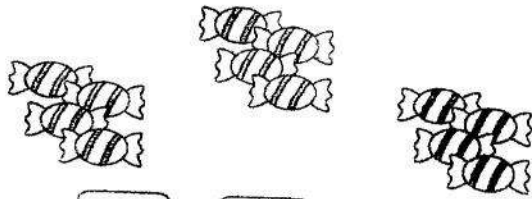
下表显示人民书局在三天里所卖出的书的数量。

天	卖出的书的数量
星期一	374 本
星期二	比星期一少 150 本
星期三	比星期二少 80 本

人民书局在星期三卖了多少本书？

- A 144 B 224 C 524 D 604


29



$$\boxed{3} \times \boxed{4} = \boxed{\quad}$$

- A 10 B 12 C 10 D 8

30



数一数，共有多少个格子？

- A 243 B 253 C 254 D 263

答案

- | | | |
|-------|-------|-------|
| 1. D | 11. D | 21. B |
| 2. B | 12. A | 22. B |
| 3. B | 13. D | 23. B |
| 4. C | 14. C | 24. B |
| 5. D | 15. C | 25. C |
| 6. D | 16. A | 26. D |
| 7. C | 17. C | 27. A |
| 8. D | 18. A | 28. A |
| 9. B | 19. D | 29. B |
| 10. C | 20. B | 30. B |

More from [30.com.my](https://www.facebook.com/sjkemy)
Not for Sale