

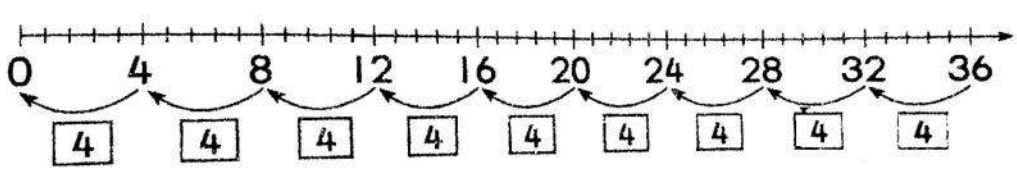


士毛月新国民型华文小学	数学一	/ 60
二年级数学评审 (试卷二) 2016年5月	数学二	/ 40
姓名: _____ 班级: 2() 编号: () 日期: _____	总分	/100
家长签名: _____		

作答说明: 这份试卷有 20 道题, 请回答所有的试题, 并把计算的步骤清楚地写出来, 有助于获取分数。

序	题目	
1.	下图显示一个图形。将以下图形的 $\frac{7}{10}$ 涂上颜色。 	1
2.	填写正确的答案。 <div style="border: 1px solid black; display: inline-block; padding: 2px;">0.3</div> <div style="border: 1px solid black; display: inline-block; padding: 2px;">0.7</div> () 比 () 小	1
3.	<div style="border: 1px solid black; display: inline-block; padding: 2px;">305, 310, Q, 320</div> 左图显示一条数列。Q 的值是什么?	1
4.	将正确的答案填写在 () 里。 () $\times 5 = 30$	1
5.	写出以下钱币的值。  <div style="border: 1px solid black; display: inline-block; width: 150px; height: 30px; margin-left: 20px;"></div>	1

6.	500-83-109 =	2										
7.	十六除以二等于_____	2										
8.	将以下的分数写成小数。 a) $\frac{3}{10} = \square$ b) $\frac{8}{10} = \square$	2										
9.	填写以下数目的十位与百位近似值。 <table border="1" style="margin: 10px auto; border-collapse: collapse;"> <thead> <tr> <th style="width: 15%;"></th> <th style="width: 25%;">十位近似值</th> <th style="width: 25%;">百位近似值</th> </tr> </thead> <tbody> <tr> <td style="text-align: center; padding: 5px;">795</td> <td></td> <td></td> </tr> </tbody> </table>		十位近似值	百位近似值	795			2				
	十位近似值	百位近似值										
795												
10.	填写钱币的正确数量。 <table style="margin: 10px auto;"> <tr> <td style="border: 1px solid black; padding: 5px; text-align: center;">RM 73.50</td> <td style="border: 1px solid black; padding: 5px; text-align: center;">RM 50</td> <td style="border: 1px solid black; padding: 5px; text-align: center;">RM 10</td> <td style="border: 1px solid black; padding: 5px; text-align: center;">RM 1</td> <td style="border: 1px solid black; padding: 5px; text-align: center;">50 sen</td> </tr> <tr> <td></td> <td style="border: 1px solid black; padding: 5px; text-align: center;">() 张</td> <td style="border: 1px solid black; padding: 5px; text-align: center;">() 张</td> <td style="border: 1px solid black; padding: 5px; text-align: center;">() 张</td> <td style="border: 1px solid black; padding: 5px; text-align: center;">() 枚</td> </tr> </table>	RM 73.50	RM 50	RM 10	RM 1	50 sen		() 张	() 张	() 张	() 枚	2
RM 73.50	RM 50	RM 10	RM 1	50 sen								
	() 张	() 张	() 张	() 枚								
11.	完成以下的除法算式。  <div style="text-align: center; margin-top: 20px;"> () ÷ () = () </div>	2										

12. 根据指示, 排列数目。

938

659 982

800

顺序

逆序

2

13. 根据涂黑的部分, 以数字和文字写出分数。

数字

文字

2

14. 根据珠算盘, 填写相关数字代表的数位和数值。

8 的数位:	
8 的数值:	

2

15. 公园里有 3 个小朋友要平分 21 个苹果。每个小朋友可分得多少个苹果?

答: _____

2

16. 小星给了弟弟 88 张游戏卡后, 还剩 126 张游戏卡。小星原有多少张游戏卡?

答: _____

3

17. 致轩购买所选的食品后, 他一共须付多少钱?



RM1.25



80 sen



50 sen




RM1.80



RM1.10



RM1.50



答:

3

18. 一个学生有 10 张卡通贴纸, 苏仁和 4 个同学共有多少张贴纸?

答:

3

19. 仁爱书局在星期一卖了 80 本故事书。星期二比星期一多卖了 45 本。书局在这两天内共卖了多少本故事书?

答:

3

20. 下表显示三家文具店的文具盒价格。

文具店	X	Y	Z
价格	RM 12.50	RM 7.80	RM 14

可瑄买了最低价格的文具盒。和最高文具盒的价格相比, 她省了多少钱?

答:

3