

2016年第一学期三年级数学评审

13 - 5 - 2016 时间: 75 分钟


姓名: \_\_\_\_\_ ( )

成绩: \_\_\_\_\_ /100

班级: 3 ( )

家长签阅: \_\_\_\_\_









选择题: 选出正确的答案, 并把英文字母填写在空格里。(20 x 2% = 40%)

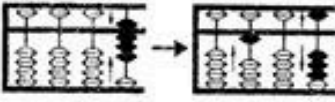
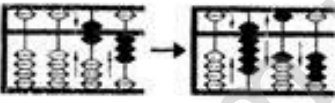


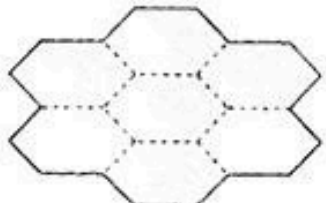

号码	题目	答案	
1	哪项的千位近似值不是 6000? A) 5400      B) 5500      C) 6200      D) 6300		
2	<table border="1" style="display: inline-table; vertical-align: middle;"><tr><td>6931</td></tr></table> 以上的数目卡中, 9 的数值是多少? A) 9      B) 90      C) 900      D) 9000	6931	
6931			
3	以下显示三个数目 5178, 3999, 7461 计算最大与最小数目的差。 A) 3462      B) 3471      C) 3562      D) 4561		
4	美乐客轮上原本有 2519 名游客, 当 1423 名游客下船后, 该客轮上还有多少名游客? A) 1086      B) 1096      C) 1196      D) 3942		
5	( ) - 1829 = 4215 A) 2386      B) 2516      C) 5518      D) 6044		
6	6209 - 1367 - 843 = A) 3999      B) 3888      C) 4999      D) 5109		
7	9672 ÷ 4 的余数是多少? A) 0      B) 2      C) 4      D) 2418		
8	找出 279 与 9 的商数? A) 288      B) 270      C) 2511      D) 31		
9	 数目线显示以下哪项算式? A) 6 + 6 + 6 + 6 = 24      C) 24 ÷ 4 = 6 B) 6 × 4 = 24      D) 24 ÷ 6 = 4		
10	林老师把 290 张卡片平分给 8 组别。过后他把剩余的卡片分给第一组。问第一组可获得多少张卡片? A) 34      B) 36      C) 38      D) 282		
11	计算 7 个千、8 个百和 5 个一的和数是( )。 A) 7850      B) 7801      C) 7805      D) 7851		



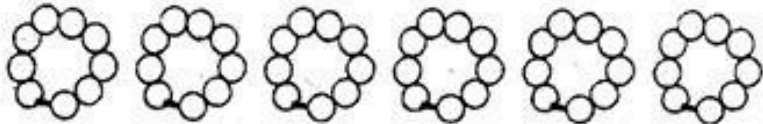

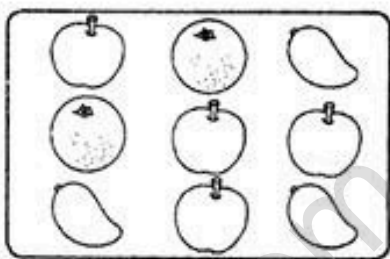
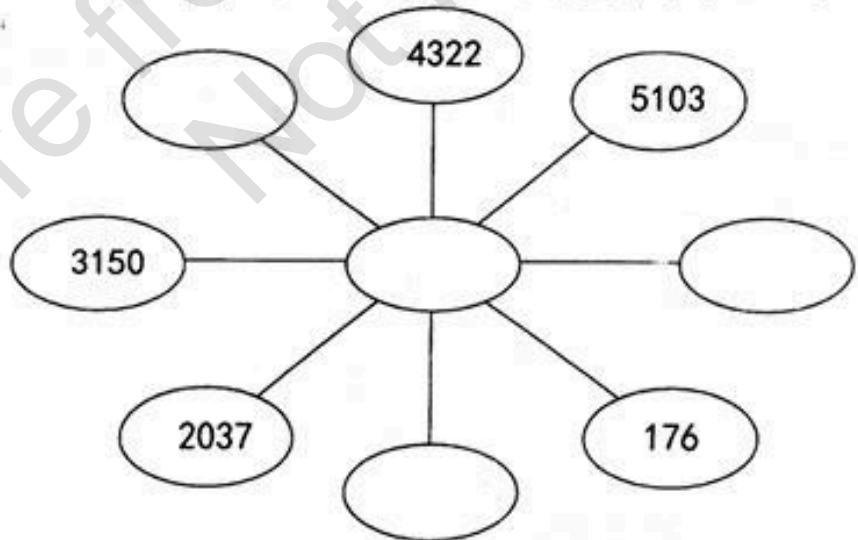
12	( ) + 2315 + 408 = 3988, 在空格里应该填上什么数目? A) 265      B) 1265      C) 2265      D) 6711	
13	下图显示四张数字卡 <div style="display: flex; justify-content: space-around; align-items: center;"> <div style="border: 1px solid black; padding: 5px; margin: 2px;">3</div> <div style="border: 1px solid black; padding: 5px; margin: 2px;">6</div> <div style="border: 1px solid black; padding: 5px; margin: 2px;">8</div> <div style="border: 1px solid black; padding: 5px; margin: 2px;">2</div> </div> 把以上数字组成最小的数目, 再加 1637 等于多少? A) 4015      B) 4005      C) 4905      D) 4915	
14	7549 + 816 = ____。之后, 再将答案化为百位近似值。 A) 8365      B) 8300      C) 8400      D) 8370	
15	以下哪项的值最大? A) 7 x 8      B) 6 x 7      C) 4 x 9      D) 8 x 6	
16	下图是一条数目线 <div style="text-align: center;"> </div> P 乘 7 等于多少? A) 31      B) 133      C) 168      D) 203	
17	以下哪项算式是 <u>正确</u> 的? A) 408 x 6 = 2408      C) 621 x 8 = 4868 B) 515 x 7 = 3605      D) 730 x 9 = 6579	
18	$\frac{3}{5}$ 应该读作 ( )。 A) 三分之五      B) 五分之三      C) 五分之二      D) 五分之五	
19	<div style="border: 1px solid black; padding: 5px; display: inline-block; margin-right: 20px;">SUCCESSFUL</div> A) $\frac{8}{2}$ B) $\frac{10}{2}$ C) $\frac{2}{10}$ D) $\frac{2}{8}$ 根据以上的英文字母, C 字母占了所有英文字母的几分之几?	
20	6 x 1000 = ( ), 在括号里填上正确的答案。 A) 6 x 10      B) 6 x 100      C) 60 x 100      D) 60 x 1000	

作答题: 依照提示填写答案 (45%)

1	根据以下算盘, 写出数位分析式 = 3 个千、( ) 和 ( )	1
2	填写数目, 然后依照顺序排列数目。 <div style="display: flex; justify-content: space-around; align-items: center;"> </div> <div style="display: flex; justify-content: space-around; align-items: center; margin-top: 10px;"> <div style="border: 1px solid black; border-radius: 15px; width: 100px; height: 20px; margin: 5px;"></div> <div style="border: 1px solid black; border-radius: 15px; width: 100px; height: 20px; margin: 5px;"></div> <div style="border: 1px solid black; border-radius: 15px; width: 100px; height: 20px; margin: 5px;"></div> <div style="border: 1px solid black; border-radius: 15px; width: 100px; height: 20px; margin: 5px;"></div> </div> 顺序 → ( ) ( ) ( ) ( )	3

3	以竖式计算。 $1355 - 405 - 378 =$		2
4	仓库内有 590 包糖，糖的数量比盐多 568 包，问仓库内有多少包盐？  横式：_____		2
5	找出四千五百一十二和三千五百二十的差。		2
6	填一填 a) (     ) $\div$ 7 = 8                  b) 27 $\div$ (     ) = 9		2
7	以竖式计算。 $5672 \div 9 =$		2
8	写出除法算式 a) 每六个一组。   b)  		2

9	<p>根据以下说明，回答问题。</p> <div style="border: 1px solid black; padding: 5px; margin: 10px 0;"> <ul style="list-style-type: none"> <li>• 这个数目的千位数的数值是4。</li> <li>• 6位于这个数目的十位数。</li> <li>• 这个数目的百位近似值是7100</li> </ul> </div> <p>a) 这个数目是什么? _____</p> <p>b) (a)项的数目须加什么数目才等于9000? _____</p>	4
10	<p>连一连</p> <p>a) <math>8 \div 8 = 1</math>    ●    ●    </p> <p>b) <math>9 \div 3 = 3</math>    ●    ●    </p> <p>c) <math>63 \div 7 = 9</math>    ●    ●    </p>	3
11	<p>写出涂黑部分所代表的分数、分子和分母。</p> <div style="display: flex; align-items: center; margin-top: 10px;">  <div style="margin-left: 20px;"> <p>分数: (    )</p> <p>分子: (    )</p> <p>分母: (    )</p> </div> </div>	3
12	<p>以竖式计算下列各题。</p> <p>a) <math>1456 + 3148 + 234 = (    )</math>    b) <math>148 \times 7 = (    )</math></p> <div style="display: flex; justify-content: space-around; margin-top: 20px;"> <div style="border: 1px solid black; width: 150px; height: 100px;"></div> <div style="border: 1px solid black; width: 150px; height: 100px;"></div> </div>	4
13	<p>根据分数，涂上颜色。</p> <div style="display: flex; justify-content: space-around; margin-top: 20px;"> <div style="text-align: center;"> <p>a)</p>  <p><math>\frac{5}{7}</math></p> </div> <div style="text-align: center;"> <p>b)</p>  <p><math>\frac{3}{8}</math></p> </div> </div>	2

<p>14</p>	<p>以文字和数字写出涂黑部分所代表的分数。</p> <p>a)  文字: ( ) 数字: ( )</p> <p>b)  文字: ( ) 数字: ( )</p>	<p>4</p>
<p>15</p>	<p>观察图片, 写出加法算式和乘法算式。</p> <p></p> <p>( ) + ( ) + ( ) + ( ) + ( ) + ( ) = ( ) ( ) x ( ) = ( )</p>	<p>2</p>
<p>16</p>	<p></p> <p>( ) x ( ) = ( )</p>	<p>1</p>
<p>17</p>	<p>下图显示一个篮子里的水果。</p> <p></p> <p>写出苹果占全部水果的分数</p> <p>( — )</p>	<p>1</p>
<p>18</p>	<p>填上正确的答案, 使每条线上的三个数目的和数都等于 9162。</p> <p></p>	<p>4</p>
<p>19</p>	<p>根据算式编写故事, 把正确的答案填写在横线上。</p> <p><math>5 \times 8 = 40</math></p> <p>朱先生买了 _____ 袋苹果。每个袋子里装有 _____ 个苹果。朱先生共买了 40 个苹果。</p>	<p>1</p>

## 应用题：(15%)

1	图书管理员把 1545 本故事书平均分成 3 堆。每堆有多少本？	3
2	美美面包店在上个星期日烘制了 4350 个面包，其中 1976 个是红豆面包，其余的都是鸡丝面包。该面包店所烘制的红豆面包和鸡丝面包相差多少个？	3
3	育才学校里有 36 名教师，学生人数是教师人数的 6 倍。计算学生的人数。	3
4	晓宣第一折了 88 颗纸星星。她第二天折的纸星星的数量与第一天相同，而第三天折的纸星星是 92 颗。晓宣共折了多少颗纸星星？	3
5	宜嘉购物商场的第 3 至第 6 层为停车场，每层可停放 968 辆汽车。停车场可停放多少辆汽车？	3