

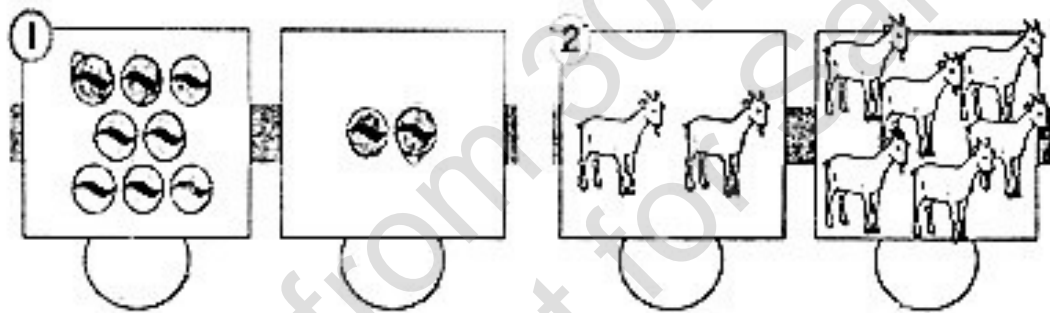
2016 年一年级数学年中评审

姓名 : _____ ()

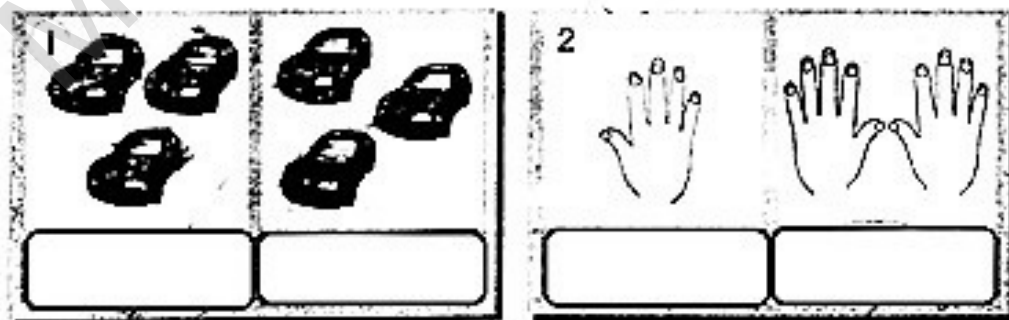
班级 : 1 ()

分数 : _____

(A) 比一比, 填写“多”或“少”。 (4%)



(B) 比一比, 圈出正确的答案。 (4%)



(C) 把对的答案圈起来。(4%)

1. 5比2 (大, 小)

3. 10比8 (多, 少) 2

2. 2比8 (大, 小)

4. 6比7 (多, 少) 1

(D) 填一填 (16%)

	数字	文字
1	9	
2		十六
3	5	
4		十九

	数字	文字
5	11	
6		十三
7		四
8	17	

(E) 写出以下物体的数量。(12%)

1.



2.



3.



4.



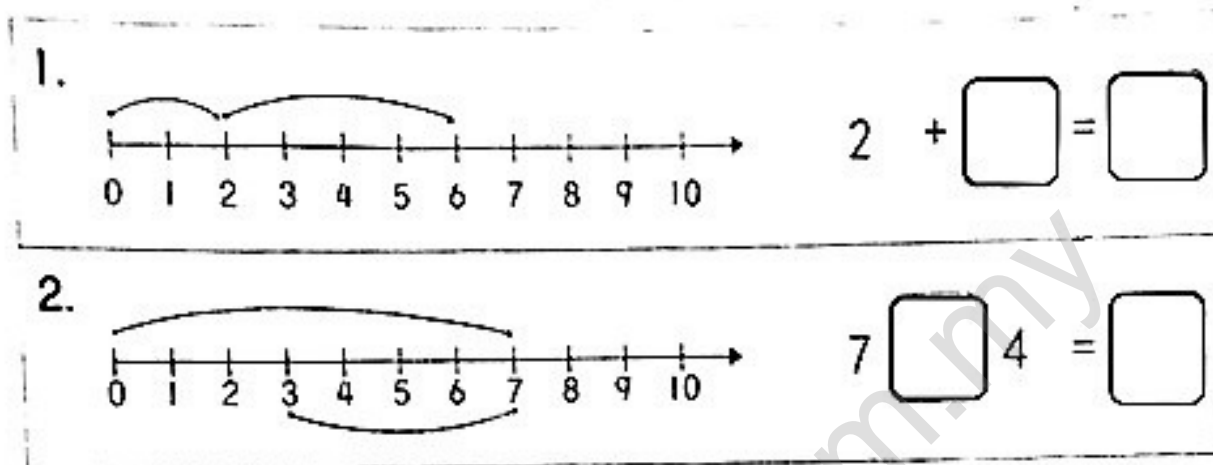
5.



6.



(F) 根据数轴, 写出空格的答案。(4%)



(G) 上一个数字是多少? 填一填。(3%)



(H) 填写下一个数字。(3%)



(I) 完成下列各题。(4%)

①

9		7
---	--	---

②

8		10
---	--	----

③

15		13
----	--	----

④

4		6
---	--	---

(J) 正确排列以下整数。(10%)

① 顺序或逆序排列下列各题。

①

4	6	3
7	5	8

 逆序

--	--	--	--	--	--

②

18	20	15
16	19	17

 顺序

--	--	--	--	--	--

③

11	16	13
14	15	12

 逆序

--	--	--	--	--	--

④

4	2	6
1	5	3

 顺序

--	--	--	--	--	--

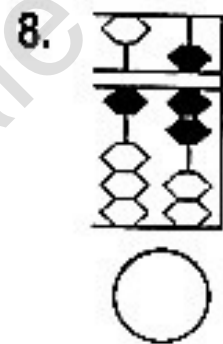
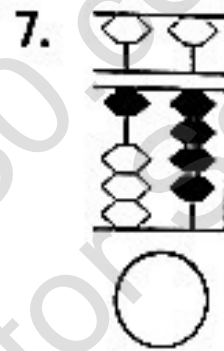
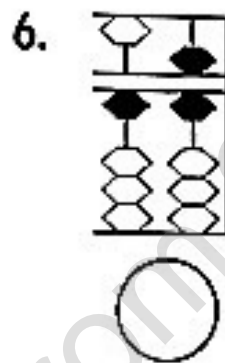
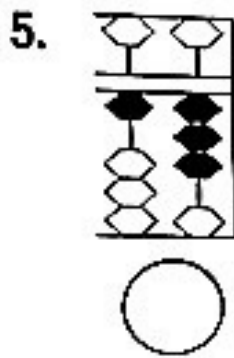
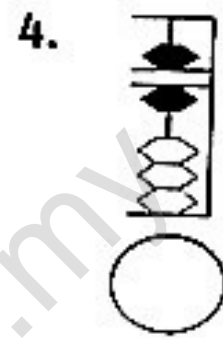
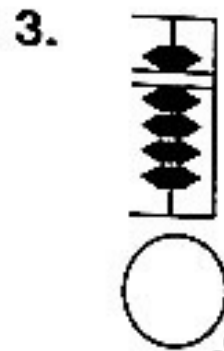
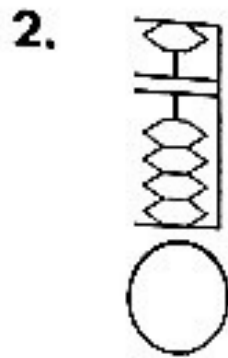
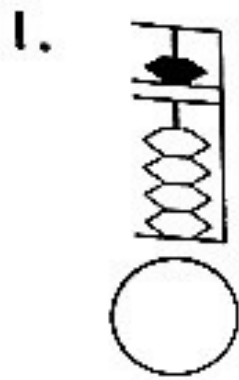
⑤

13	16	18
15	17	14

 顺序

--	--	--	--	--	--

(K) 以数字写出算盘所代表的数目。(8%)



(L) 加一加。(14%)

1) $4 + 3 = (\quad)$

5) $8 + 9 = (\quad)$

2) $7 + 7 = (\quad)$

6) $3 + 8 = (\quad)$

3) $2 + 6 = (\quad)$

7) $9 + 4 = (\quad)$

4) $1 + 5 = (\quad)$

(M) 减一减。 (14%)

1) $8 - 3 = (\quad)$

5) $18 - 6 = (\quad)$

2) $7 - 4 = (\quad)$

6) $15 - 3 = (\quad)$

3) $12 - 9 = (\quad)$

7) $19 - 4 = (\quad)$

4) $14 - 6 = (\quad)$

More from [30.com.my](https://www.30.com.my)
Not for Sale

答案:

A)

1. 多 少

2. 少 多

B)

1. 一样多

2. 不一样多

C)

1. 大

2. 小

3. 多

4. 少

D)

1. 九

2. 16

3. 五

4. 19

5. 十一

6. 13

7. 4

8. 十七

E)

1. 8

2. 6

3. 9

4. 20

5. 15

6. 12

F)

1. $2+4=6$

2. $7-4=3$

G)

1. 13

2. 15

3. 17

H)

1. 11

2. 19

3. 16

I)

1. 8

2. 9

3. 14

4. 5

J)

1. 8, 7, 6, 5, 4, 3
2. 15, 16, 17, 18, 19, 20
3. 16, 15, 14, 13, 12, 11
4. 1, 2, 3, 4, 5, 6
5. 13, 14, 15, 16, 17, 18

K)

- | | | | |
|-------|-------|-------|-------|
| 1. 5 | 2. 0 | 3. 9 | 4. 6 |
| 5. 13 | 6. 16 | 7. 14 | 8. 17 |

L)

- | | | | |
|-------|-------|-------|------|
| 1. 7 | 2. 14 | 3. 8 | 4. 6 |
| 5. 17 | 6. 11 | 7. 13 | |

M)

- | | | | |
|-------|-------|-------|------|
| 1. 5 | 2. 3 | 3. 3 | 4. 8 |
| 5. 12 | 6. 12 | 7. 15 | |