

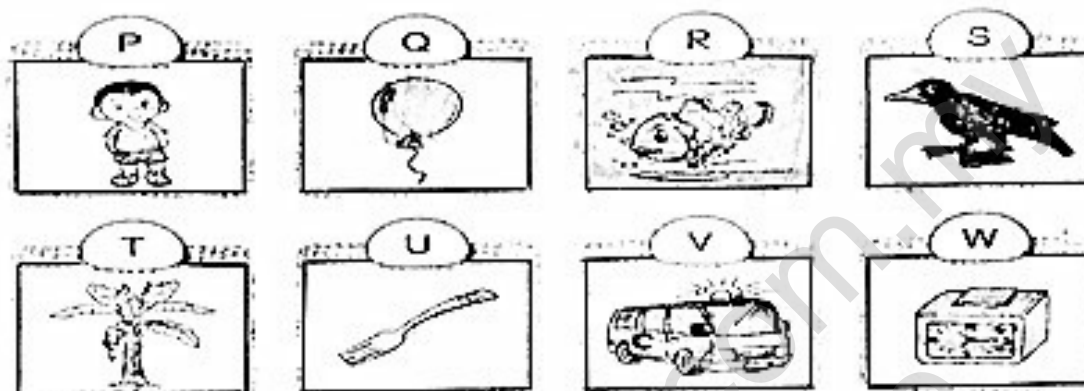
2016年一年级科学试卷
年中评审

姓名: _____


班级: 1 _____

分数: _____

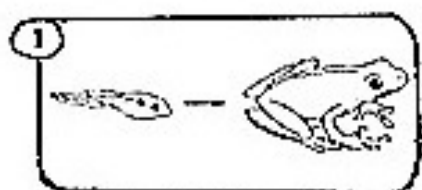
(A) 将生物和非生物分类, 把代表答案的字母填入空格里。 (8%)



(B) 将正确的答案圈起来。8%



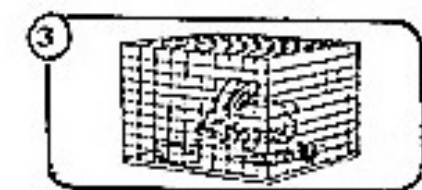
(C) 观察图片, 确认生物的特征, 然后画线连一连。 (5%)



a 生物会呼吸。



b 生物需要水和食物。



c 生物会繁殖。

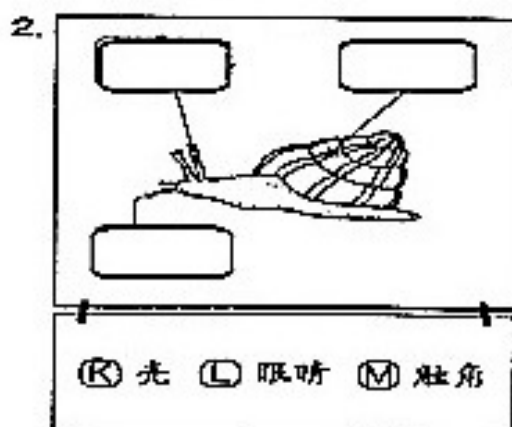
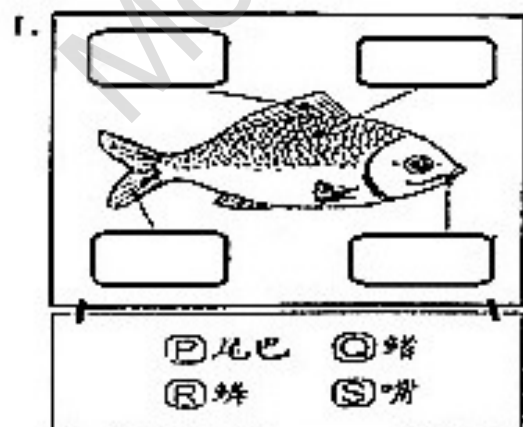


d 生物会成长。

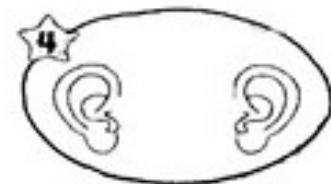


e 生物会移动。


(D) 在空格里填写代表动物身体各部位的英文字母。14%



将身体各部位和其功能连起来。 (5%)



(F) 将正确的答案涂上颜色。 (6%)











(G) 根据人的身体各部位, 在空格里填写正确代表答案的英文字母。 (8%)

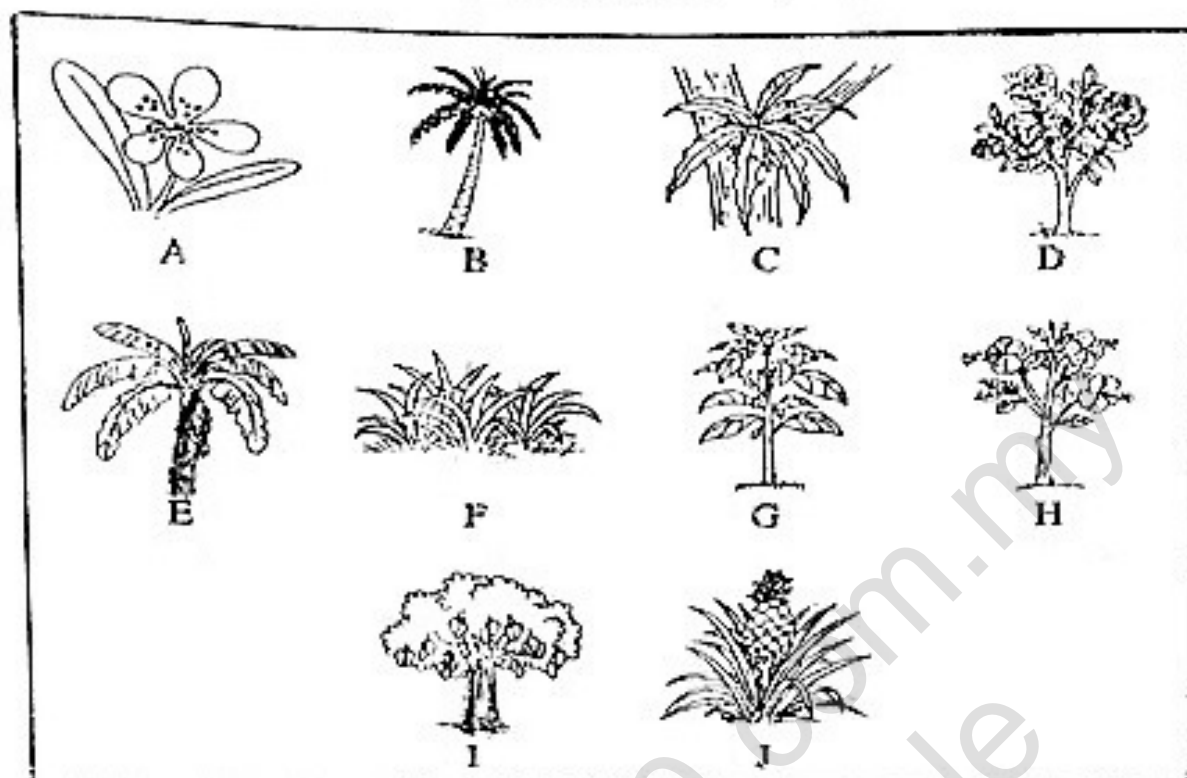
P	手	R	腿	T	眼睛	V	鼻子
Q	脚	S	嘴	U	耳朵	W	舌头

(H) 把代表动物名称的英文字母写在空格里。 (8%)

P	蝴蝶	Q	猫	R	蛇	S	鱼
T	蜗牛	U	青蛙	V	蟑螂	W	蚂蚁

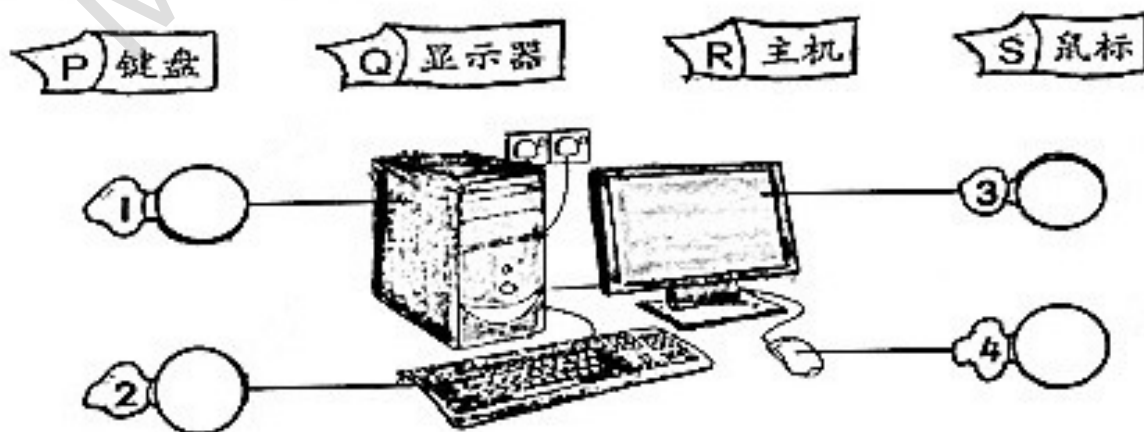
1 	2 	3 	4 
5 	6 	7 	8 

将代表植物的英文字母填在相关的空格里。 (10%)



- | | | | | | |
|-------|-------|----------------------|---------|-------|----------------------|
| 1. 玫瑰 | _____ | <input type="text"/> | 6. 蔗 | _____ | <input type="text"/> |
| 2. 椰树 | _____ | <input type="text"/> | 7. 草 | _____ | <input type="text"/> |
| 3. 木槿 | _____ | <input type="text"/> | 8. 凤仙花 | _____ | <input type="text"/> |
| 4. 兰花 | _____ | <input type="text"/> | 9. 芒果树 | _____ | <input type="text"/> |
| 5. 凤梨 | _____ | <input type="text"/> | 10. 香蕉树 | _____ | <input type="text"/> |

(J) 填写代表电脑各部分的字母。8%



(K) 根据说明, 比较和分辨图中的植物, 圈出有关的植物名称。

① 没有花的植物

② 没有叶的植物

③ 有枝的植物

桉树 木槿 蕨

向日葵 凤仙花 菜佛士花

浮萍 苹果树 仙人掌

(L) 填写以下植物部分的名称。(14%)

花	根	叶	茎	果实	嫩叶	种子
---	---	---	---	----	----	----

① ④

② ⑤

③ ⑥

⑦

答案:

A)
生物: P,R,S,T
非生物: U,V,W,Q

B)
1.游
2.飞
3.跑
4.跳

C)
1. D
2. E
3. B
4. C
5. A

D)
1)
(a) Q
(b) R
(c) P
(d) S

2)
(a) L
(b) K
(c) M

E)
1. C
2. A
3. E
4. B
5. D

F)
1. 喔喔
2. 咪咪
3. 叭叭

G)
1. T
2. S
3. W
4. R
5. U
6. V
7. P
8. Q

H)
1. S
2. R
3. P
4. U
5. W
6. T
7. V
8. Q

I)
1. D
2. B
3. H
4. A
5. J
6. C
7. F
8. G
9. I
10. E

J)
1. R
2. P
3. Q
4. S

K)
1. 蕨
2. 莱佛士花
3. 苹果树

L)
1. 嫩叶
2. 种子
3. 果实
4. 叶
5. 花
6. 茎
7. 根