

八打灵育才华文小学
2016年三年级数学试卷(一)第三次评审
PENILAIAN MATEMATIK KERTAS 1 TAHUN 3 KALI KETIGA 2016


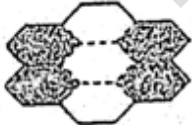



姓名: _____ ()

日期: _____

班级: 3 _____

成绩: _____ /40

1	把八千零三写成数字。 A 8030 B 8003 C 8033 D 8300								
2	下图显示数目卡上的一个数目。这个数目的每个数字分别以 PQRS 为代表。 <table border="1" style="margin-left: auto; margin-right: auto;"> <tr> <td>7</td> <td>7</td> <td>7</td> <td>7</td> </tr> <tr> <td>P</td> <td>Q</td> <td>R</td> <td>S</td> </tr> </table> 哪项代表 70? A P B Q C R D S	7	7	7	7	P	Q	R	S
7	7	7	7						
P	Q	R	S						
3	计算 $4234 + S + 1040 = 7273$ 找出 S 的百位近似值 A 1900 B 1990 C 1999 D 2000								
4	哪项算式是正确的? A $1304 + 3282 = 4586$ B $4517 + 2022 = 6359$ C $6555 + 132 = 6787$ D $1061 + 1234 = 2395$								
5	() - 2769 = 4386 把答案写成十位近似值 A 1617 B 1620 C 7155 D 7160								
6	以 2、1、7、0 组成一个最大和最小的数目, 然后找出它们的差。 A 1027 B 5103 C 6183 D 7210								

7	$43 \times (\quad) = 4300$ A 1 B 10 C 100 D 1000
8	6×78 的积和 4×78 的积相差多少? A 156 B 234 C 78 D 312
9	哪项的除法有余数 A $5120 \div 8$ B $6233 \div 7$ C $8568 \div 6$ D $9215 \div 5$
10	下图显示一个除法算式。 $96 \div 4$ 哪项的答案和以上的算式答案一样? A $184 \div 8$ B $72 \div 3$ C $95 \div 5$ D $84 \div 2$
11	下图显示一个圆。涂黑部分占全图的几分之几?  A $\frac{1}{2}$ B $\frac{1}{5}$ C $\frac{2}{6}$ D $\frac{4}{6}$
12	以下哪项的涂黑部分是七分之三? A  B  C  D 

26 哪项换算是不正确的?

A 4 升=4000 毫升 C 700 毫升=7 升
B 6 升=6000 毫升 D 8000 毫升=8 升

27 $8 \times (\quad) = 14 \text{ 升 } 776 \text{ 毫升}$
哪个液体的体积必须写在 () 里?

A 1 升 747 毫升 C 2 升 747 毫升
B 1 升 847 毫升 D 2 升 847 毫升

28 下图显示四名学生的参考书。

振辉	
勇志	
慧贤	
灿欣	

这四名学生买了 23 本参考书。慧贤的栏内应画上多少个记数符号?

A 7 C 9
B 8 D 10

29 下图显示一群学生的爱好统计表。

爱好	记数符号
阅读	
下棋	
听音乐	
游泳	

最多学生喜欢的爱好是什么?

A 阅读 C 听音乐
B 下棋 D 游泳

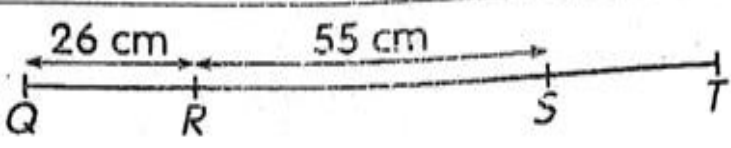
30 下表显示 3C 班学生最想去旅行的国家的数量。

英国	
日本	
新加坡	
泰国	

想去英国和泰国旅行的学生相差多少个?

A 5 C 15
B 10 D 20

31	启发小学有 1953 名学生, 明民小学的学生比启发小学的学生多 1085 名。这两间学校总共有多少名学生? A 868 B 3038 C 4123 D 4991
32	一家工厂原有 4957 个员工。由于经济不景气, 便辞退了 310 个员工, 后来又有 1120 个员工被辞退。现在该工厂有多少个员工? A 3527 B 3837 C 4647 D 6387
33	书房里有 6 个书橱。每个书橱里有 189 本漫画。小青又从书展买了 34 本漫画回来放在书橱里。书房里现在共有多少本漫画? A 1132 B 1134 C 1168 D 1169
34	妈妈把 459 个奇异果平均放进 5 个篮子, 并把剩余的奇异果给了文杰和文慧。文杰和文慧各获得多少个奇异果? A 1 B 2 C 3 D 4
35	慧心每天的零用钱是 RM 5。在一个星期里, 她只用了 RM 13.85, 其余的就储蓄起来。她一个星期储蓄了多少钱? A RM21.15 B RM22.15 C RM34.95 D RM35.00
36	卡欣从家里搭巴士至学校需要 18 分钟。她每天搭巴士来回学校需要多少时间? A 18 分钟 B 26 分钟 C 36 分钟 D 38 分钟

37	 <p>根据上图, QRST 的长度是 107cm。ST 的长度是多少 cm?</p> <p>A 18 cm C 52 cm B 26 cm D 81 cm</p>
38	<p>把 18kg 的可可粉平分成 4 包, 每包重 4 kg。过后再把剩余的可可粉平分成 4 包小包装, 每小包装有多少 g?</p> <p>A 200g C 400g B 300 g D 500g</p>
39	<p>敏俐和家人喝了 1 升 679 毫升玫瑰花茶后, 瓶子里还有 3 升 594 毫升的玫瑰花茶。瓶子里原有多少毫升的玫瑰花茶?</p> <p>A 1 升 15 毫升 C 5 升 73 毫升 B 1 升 915 毫升 D 5 升 273 毫升</p>
40	<p>哥哥每天的工钱是 RM30。如果他把他所赚到的 3 天工钱平分给 5 个弟妹, 弟妹们每人可得到多少钱呢?</p> <p>A RM 6 C RM 19 B RM 18 D RM 20</p>

Answer

1. B	5. D	9. B	13.D	17.D	21.D	25.D	29.A	32.C	37.B
2. C	6. C	10. B	14.B	18.A	22.B	26.C	30.A	34.B	38.D
3. C	7. C	11. A	15.B	19.D	23.A	27.D	31.D	35.A	39.D
4. A	8. A	12. C	16.A	20.A	24.C	28.C	32.A	36.C	40.B

More from 30.com.my
Not for Sale