
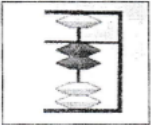
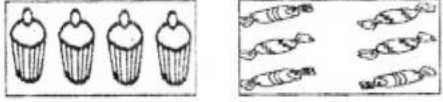



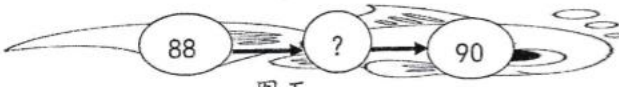
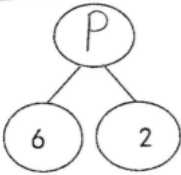
雪兰莪州康乐二校国民型华文学校

2017 年三月份归纳式评审

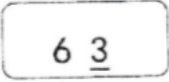

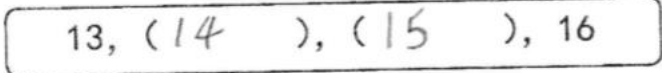
一年级数学考卷（一）

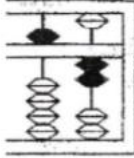

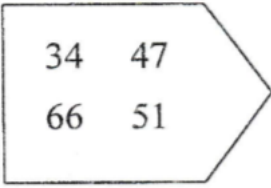
甲组（10 分）





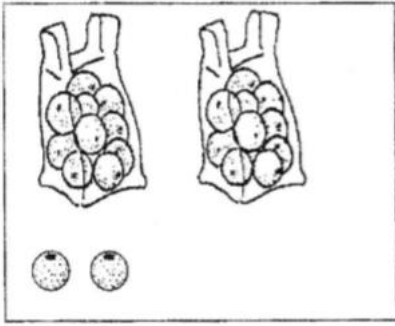
序	题目
1	以下哪一个数目最大？ A 60 B 61 C 62 D 63
2	写出 15 的文字。 A 五 B 十五 C 五十 D 五十五
3	 图一 图一有几个汤匙？ A 9 B 8 C 7 D 6
4	以下哪一个是八十八的数字？ A 8 B 18 C 80 D 88
5	 图二 根据图二的算盘，圈出所显示的文字。 A 二 B 十二 C 二十 D 三十
6	 图三 根据图三，糖果比蛋糕多了_____。 A 4 B 3 C 2 D 1
7	_____ 比 8 小。 A 6 B 9 C 10 D 11

<p>8</p>	 <p>图四</p> <p>数一数，图四有几朵花？</p> <p>A 24 B 34 C 44 D 54</p>
<p>9</p>	 <p>图五</p> <p>根据图五，鱼儿身上的 88 和 90 之间少了什么数目？</p> <p>A 85 B 87 C 89 D 91</p>
<p>10</p>	 <p>图六</p> <p>根据图六，找出 P 的值。</p> <p>A 5 B 6 C 7 D 8</p>

乙组 (30 分)

<p>1</p>	 <p>图一</p> <p>根据图一，圈出画线数字的数值。</p> <p>A 3 B 6 C 30 D 60</p>
<p>2</p>	 <p>图二</p> <p>根据图二，从 10 开始两个两个逆序地数，第三个数目是多少？</p> <p>A 8 B 6 C 4 D 2</p>
<p>3</p>	 <p>图三</p> <p>根据图三，13 和 16 之间的数目有哪些数字？</p> <p>A 14, 15 B 14, 16 C 15, 16 D 16, 17</p>

4	<div style="text-align: center;">  <p>图四</p> </div> <p>根据图四，圈出算珠里所代表的数目的数字和文字。</p> <p>A <table border="1" style="display: inline-table; vertical-align: middle;"><tr><td>数字</td><td>12</td></tr><tr><td>文字</td><td>十二</td></tr></table> B <table border="1" style="display: inline-table; vertical-align: middle;"><tr><td>数字</td><td>25</td></tr><tr><td>文字</td><td>二十五</td></tr></table> C <table border="1" style="display: inline-table; vertical-align: middle;"><tr><td>数字</td><td>21</td></tr><tr><td>文字</td><td>二十一</td></tr></table> D <table border="1" style="display: inline-table; vertical-align: middle;"><tr><td>数字</td><td>52</td></tr><tr><td>文字</td><td>五十二</td></tr></table></p>	数字	12	文字	十二	数字	25	文字	二十五	数字	21	文字	二十一	数字	52	文字	五十二
数字	12																
文字	十二																
数字	25																
文字	二十五																
数字	21																
文字	二十一																
数字	52																
文字	五十二																
5	<div style="text-align: right;">  <p>图五</p> </div> <p>根据图五，比一比青蛙和鸭子的数量。</p> <p>A 青蛙和鸭子的数量相等。 B 青蛙和鸭子的数量不相等。 C 鸭子比青蛙少。 D 青蛙比鸭子多 1。</p>																
6	<div style="text-align: center;"> <table border="1" style="margin: auto;"> <tr> <td>100,</td> <td>()</td> <td>, 80, 70, 60</td> </tr> </table> <p>图六</p> </div> <p>根据图六，十个十个地数并找出 () 里的数目。</p> <p>A 30 B 40 C 50 D 90</p>	100,	()	, 80, 70, 60													
100,	()	, 80, 70, 60															
7	<div style="text-align: center;">  <p>图七</p> </div> <p>顺序排列图七里的数目。</p> <p>A 34, 47, 66, 51 B 34, 51, 47, 66 C 66, 51, 47, 34 D 34, 47, 51, 66</p>																
8	<div style="text-align: center;"> <table border="1" style="margin: auto;"> <tr> <td>16</td> <td>20</td> <td>16</td> <td>20</td> <td>16</td> <td>?</td> <td>?</td> </tr> </table> <p>图八</p> </div> <p>根据图八，圈出接下来的数目。</p> <p>A 16, 20 B 20, 16 C 16, 17 D 17, 18</p>	16	20	16	20	16	?	?									
16	20	16	20	16	?	?											

9	<p>根据图九，从 39 开始四个四个顺序地数，数到最后是什么数目？</p> <p>A 46 B 51 C 54 D 57</p>											
10	<p>比一比，哪一组的数量相等？</p> <div style="display: flex; justify-content: space-around;"> <div style="text-align: center;"> <p>A</p>  </div> <div style="text-align: center;"> <p>B</p>  </div> </div> <div style="display: flex; justify-content: space-around; margin-top: 10px;"> <div style="text-align: center;"> <p>C</p>  </div> <div style="text-align: center;"> <p>D</p>  </div> </div>											
11	<p>根据 83 的数目，圈出 8 的数位。</p> <p>A 个位 B 十位 C 一位数 D 二位数</p>											
12	<div style="text-align: center;">  <p>图十</p> </div> <p>根据图十，估一估橙的数量。</p> <p>A 多于 50 个橙 B 少于 20 个橙 C 多于 20 个橙 D 大约 50 个橙</p>											
13	<div style="text-align: center;"> <table border="1" style="margin: auto;"> <tr> <td>50</td><td>51</td><td>52</td><td>53</td><td>54</td><td>55</td><td>56</td><td>57</td><td>58</td><td>59</td><td>60</td> </tr> </table> <p>图十一</p> </div> <p>根据图十一，找出 53 的十位近似值。</p> <p>A 60 B 55 C 51 D 50</p>	50	51	52	53	54	55	56	57	58	59	60
50	51	52	53	54	55	56	57	58	59	60		
14	<p>同学们正在排队进课室。从前面数起，小丽是第七人；从后面数起，小丽是第 2 人。那儿共有几个学生在排队？</p> <p>A 6 B 7 C 8 D 9</p>											
15	<p>华文课本的第 71 至 82 页之间的纸不见了。数一数不见了多少张纸？</p> <p>A 5 B 4 C 3 D 2</p>											

此习题为 30.com.my 原创，除了出售牟利，老师学校，甚至补习中心都可以无限制使用

答案

甲组

1. D
2. B
3. C
4. D
5. A
6. C
7. A
8. B
9. C
10. D

乙组

1. A
2. C
3. A
4. D
5. B
6. D
7. D
8. B
9. B
10. B
11. B
12. C
13. D
14. C
15. A