

SJK (C) PEREMPUAN KLANG 巴生中华女校
三年级数学评审(试卷一)
(1/2017) 时间: 60 分钟

姓名: _____ ()

成绩: _____

班级: 3_____

日期: _____

这份试卷共有 40 个试题, 每一题都有选择 A、B、C、D, 其中只有一个选项是对的。选出对的答案, 然后在答案纸上把正确的答案字母涂黑。(40%)

- 将 2157 换成文字。
A) 二百四十七 B) 二千一百四十 C) 二千一百五十七 D) 两千四百
- 将一千七百三十四换成数字。
A) 1370 B) 1724 C) 1734 D) 1934
- 在 1637 中, 3 的数值是_____。
A) 3 B) 30 C) 300 D) 3000
- 在 1235 中, 2 的数位是_____。
A) 个位 B) 十位 C) 百位 D) 千位
- 以下哪个数目最小?
A) 3169 B) 3186 C) 3265 D) 3428
- 以下哪个数目中的数字“9”的数位是百位?
A) 2239 B) 3494 C) 4987 D) 9403
- 以下哪个数目中的 3 的数值最小?
A) 3890 B) 4351 C) 5430 D) 6713
- 下图显示一组数列。

7324, 7314, (P), 7294

P 的数目是

A) 7004 B) 7224 C) 7300 D) 7304
- 1699 和 1701 之间的数目是什么?
A) 1702 B) 1700 C) 1697 D) 1689

10. 哪项是五个五个逆序地数?

- A) 25, 30, 35, 40, 45
- B) 120, 125, 135, 150, 170
- C) 290, 285, 280, 275, 270
- D) 720, 730, 740, 750, 755

11. 一个一个地数, 试找出 798 之前和之后的各一个数目。


- A) 999, 1000
- B) 898, 899
- C) 797, 799
- D) 687, 689

12. 以下哪个顺序是正确的?


- A) 939, 949, 929, 919
- B) 381, 481, 389, 453
- C) 477, 377, 277, 177
- D) 132, 142, 152, 162

13. 以下哪组的和数最小?


A)



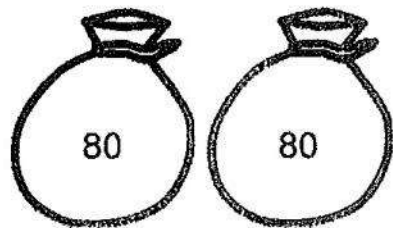
B)



C)



D)



14. 下图显示一张数目卡

8869

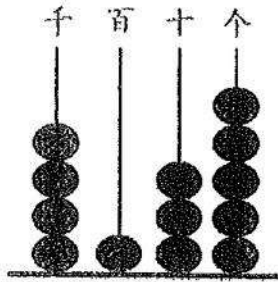
根据数位分析卡上的数目。

- A) $8000 + 800 + 80 + 9$
- B) $800 + 8000 + 90 + 60$
- C) 8 个千+ 8 个百+ 6 个十+9 个一
- D) 8 个千+ 8 个百+ 9 个十+9 个六

15. 明德华小共有 9805 位学生。把该学校的学生人数写成百位近似值。

- A) 9900
- B) 9815
- C) 9800
- D) 9810

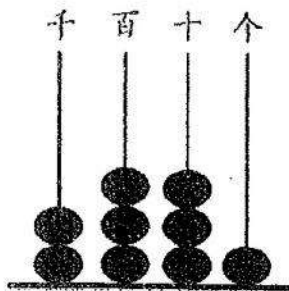
16. 下图显示一个算盘。



该算盘所代表的数目的十位近似值是多少?

- A) 4140 B) 4100 C) 4090 D) 4080

17. 下图显示一个算盘。



把该算盘所代表的数目写出千位近似值是多少?

- A) 2330 B) 2300 C) 2100 D) 2000

18. 3个千、4个百和3个十的总合是

- A) 343 B) 3330 C) 3430 D) 4343

19. 5个千+8个百+3个十和8个一=

- A) 5831 B) 5838 C) 5883 D) 8318

20. $417 + 83 = (\quad)$

- A) 600 B) 500 C) 400 D) 300

21. $542 + 173 = (\quad)$

- A) 815 B) 715 C) 615 D) 515

22. 下列哪组的和数最大?

- A) $429 + 79$ B) $341 + 81$
C) $237 + 107$ D) $244 + 93$

23. 找出 351 和 248 的和数。

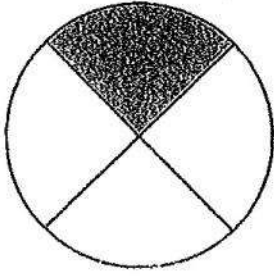
- A) 589 B) 599 C) 600 D) 610

24. $209 + 71 + 5 = (\quad)$
A) 492 B) 391 C) 285 D) 185
25. 怡诚售出 28 个苹果后, 还剩下 57 个苹果, 怡诚原有多少个苹果?
A) 95 B) 85 C) 75 D) 65
26. $(Q) + 352 = 795$
Q 的值是
A) 773 B) 667 C) 559 D) 443
27. $263 + (R) = 338$
R 的值是
A) 85 B) 75 C) 65 D) 55
28. 754 和 412 相差多少?
A) 342 B) 352 C) 442 D) 452
29. $458 - 325 = (\quad)$
A) 33 B) 133 C) 733 D) 783
30. $578 - 203 - 54 = (\quad)$
A) 651 B) 571 C) 421 D) 321
31. 铭泽原有 RM89, 他买了一个价值 RM58 的书包后, 他还剩多少钱?
A) RM11 B) RM30 C) RM20 D) RM31
32. 一个盒子里有 268 支铅笔, 心怡拿了 157 支铅笔。盒子里还剩多少支铅笔?
A) 11 B) 111 C) 211 D) 311
33. 以下哪项答案的值最大?
A) 5×10 B) 4×5 C) 2×8 D) 2×5
34. 明华的果园里种了 5 行的香蕉树, 每行有 4 棵, 果园里共有多少棵香蕉树?
A) 5 B) 15 C) 20 D) 25
35. $25 \div (\quad) = 5$
A) 6 B) 5 C) 4 D) 3
36. $(\quad) \div 4 = 8$
A) 32 B) 24 C) 20 D) 12

37. 老师把 50 位学生分成 10 组, 每组有多少位学生?

- A) 5 B) 6 C) 4 D) 3

38. 找出下图涂黑部分的分数。



- A) $\frac{1}{7}$ B) $\frac{1}{4}$ C) $\frac{1}{6}$ D) $\frac{1}{2}$

39. 以下哪个小数大于 0.8?

- A) 0.9 B) 0.7 C) 0.6 D) 0.5

40. $\text{RM}3.50 + \text{RM}4 + 60\text{sen} = (S)$

S 的值是

- A) RM8.10 B) RM13.50 C) RM7.10 D) RM8.20