

校本评估 1/2017  
第一学年: 数学试卷  
时间: 一小时

成绩: \_\_\_\_\_ %

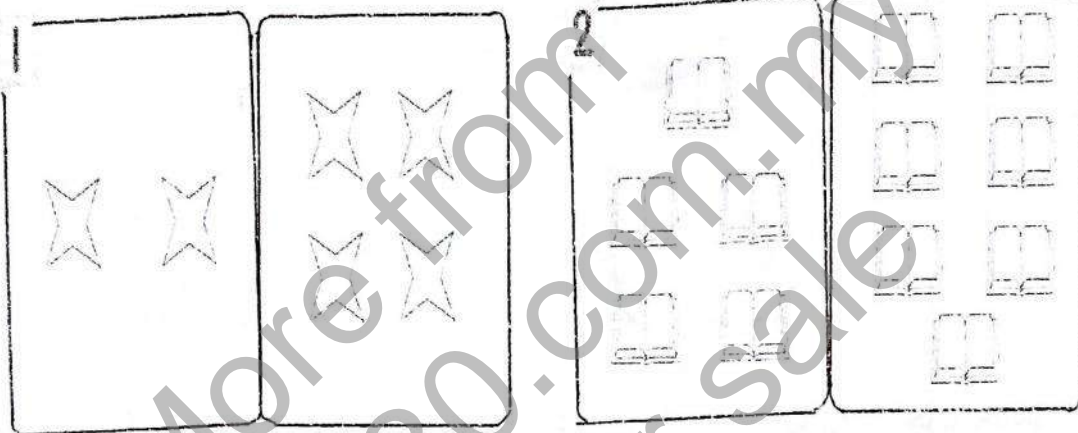
姓名: \_\_\_\_\_ ( )

家长签阅: \_\_\_\_\_

班级: 1

日期: -3-2017

A) 把数量比较多的一组涂上颜色。(4分)



B) 对的画(√), 错的画(X)。(12分)

1 五比四大。

2 三比二小。

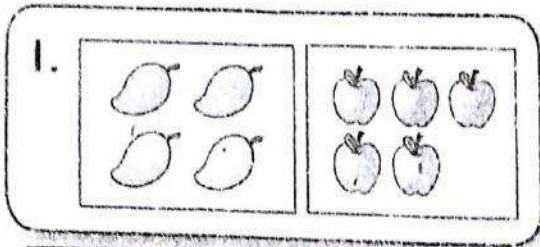
3 八比十小。

4 六比七大。


5 7比8多1。

6 9比8多。


C) 比一比, 圈出正确的答案。(6分)



( 一样多 ◆ 不一样多 )



( 一样多 ◆ 不一样多 )



( 一样多 ◆ 不一样多 )

D) 用文字和数字写出数目。(12分)


	数字	文字
1.		五
2.	4	

	数字	文字
3.	6	
4.		零


	数字	文字
5.		七
6.	10	

E) 数一数, 连一连。(8分)

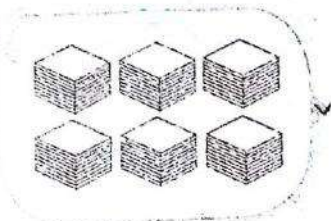
1



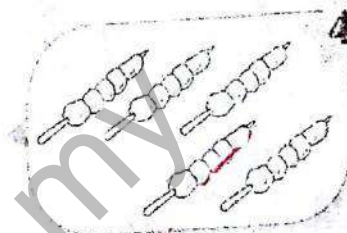
2



3



4




F) 比一比, 填上“多”或“少”。(4分)

1



5比4 ○ 1。

2




5比6 ○ 1。

G) 排列以下数目。(4分)

1   
5 7 4 8 6

顺序:


--	--	--	--	--


2   
9 7 6 10 8

逆序:


--	--	--	--	--

H) 填一填。(10分)

1   
4 6

2   
9 7

3   
4 2

4   
3 6

I) 圈出正确的答案。(12分)

1 3比4 多少1。

4 9比6 大小。







2 8比7 多少1。

5 5比7 大小。

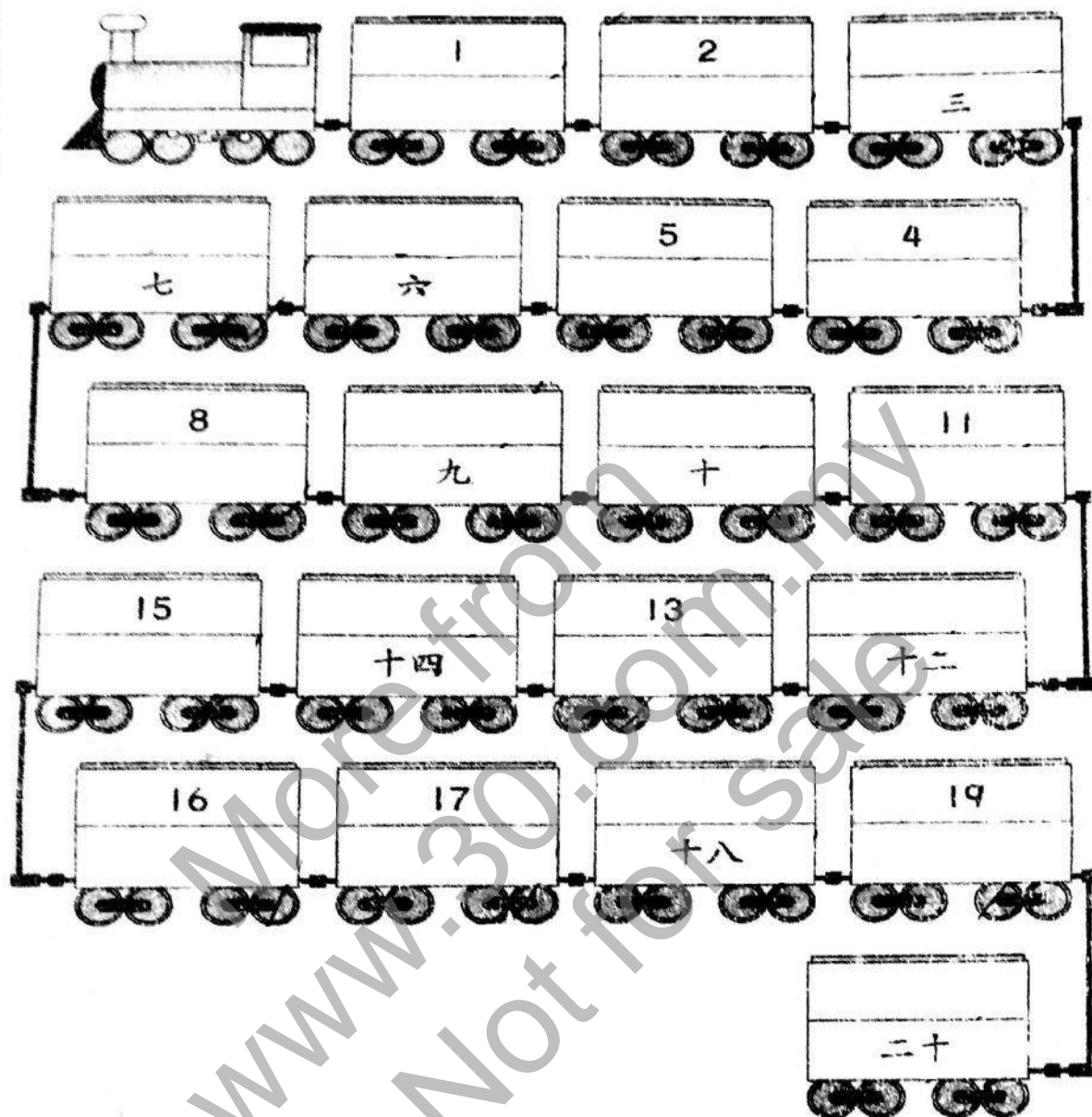
3 6比5 多少1。

6 2比8 大小。

J) 把相同的数目涂上相同的颜色。(8分)

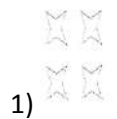


K) 写出文字或数字。(20分)



答案

A)



6) 十

E)

1) 9

2) 4

3) 6

4) 5

B)

1) ✓

2) ✗

3) ✓

4) ✗

5) ✗

6) ✓

E)

1) 多

2) 少

G)

1) 4, 5, 6, 7, 8

2) 10, 9, 8, 7, 6

C)

1) 不一样多

2) 一样多

3) 一样多

H)

1) 5

2) 8

3) 3

4) 4, 5

D)

1) 5

2) 四

3) 六

4) 0

5) 7

I)

1) 少

2) 多

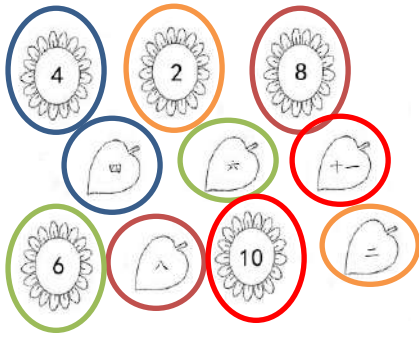
3) 多

4) 大

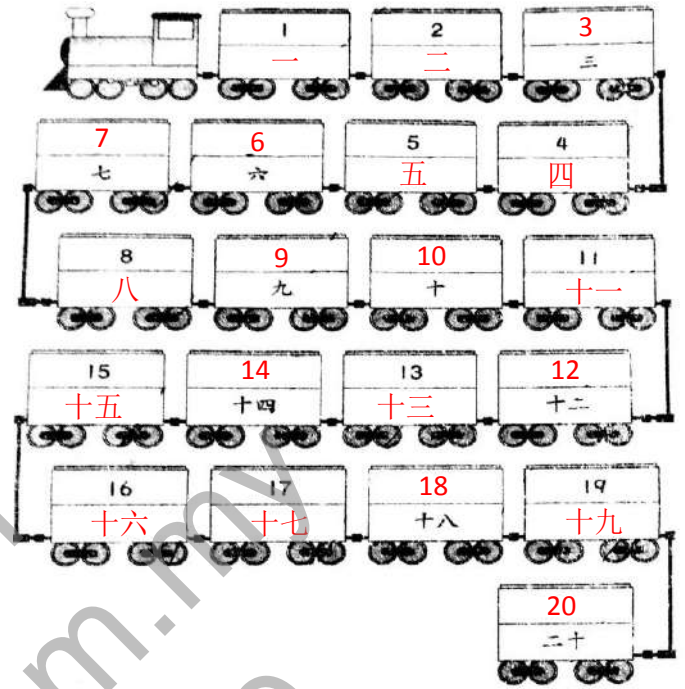
5) 小

6) 小

J)



K)



More from  
[www.30.com.my](http://www.30.com.my)  
Not for sale



扫描二维码（WeChat ID: sjkemy），关注“华小大小事”，更多好康等着你！



马来西亚最齐全在网上写作课程：《小作家课程》和《写作练习班》！只需一次付费，即可使用长达三年！而且内容会持续更新，不另加收费！

超值配套！最优惠的价格购买《小作家课程》和《写作练习班》：<https://30.com.my/package>

