

科目 MATA PELAJARAN: 数学 MATEMATIK

考期 TARIKH: 8-3-2017

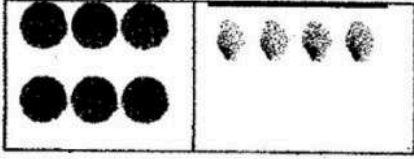
姓名 NAMA: \_\_\_\_\_ ( )

班级 TAHUN: 1 ( )





时间 MASA : 1 jam

A. 选择题 ( 12 x 2% )


1)	 <p>图中共有多少个苹果?</p> <p>A. 4      B. 5      C. 6</p>	2)	<p>35 的十位数是_____。</p> <p>A. 3      B. 5      C. 35</p>			
3)	<p>5 多 1 个 是 _____。</p> <p>A. 4      B. 6      C. 8</p>	4)	<p>0 ( ) 2, 在 ( ) 里应填上</p> <p>A. 相等    B. 多于    C. 少于</p>			
5)	<p>32 比 ( ) 小。</p> <p>A. 13    B. 23    C. 36</p>	6)	<p>45 的 4 代表_____。</p> <p>A. 4      B. 40      C. 45</p>			
7)	<p>以下哪项依照顺序排列?</p> <p>A. 9, 11, 12, 10</p> <p>B. 12, 11, 10, 9</p> <p>C. 9, 10, 11, 12</p>	8)	<table border="1" data-bbox="826 1352 1342 1420"> <tr> <td>28</td> <td>数位:( )</td> <td>数值:( )</td> </tr> </table> <p>( ) 里的正确答案是</p> <p>A. 个位, 8</p> <p>B. 个位, 3</p> <p>C. 十位, 8</p>	28	数位:( )	数值:( )
28	数位:( )	数值:( )				

9)	10 比 8 _____。 A. 多 1      B. 多 2      C. 多 3	10)	25, 26, 27, (    ), (    )。 (    ) 里的数目是 A. 29, 30      B. 28, 29 C. 30, 31
11)	以下哪项依照逆序排列? A. 19, 18, 17, 16, 15 B. 15, 16, 17, 18, 19 C. 18, 17, 16, 15, 19	12)	 A. 西瓜比木瓜多 2 B. 木瓜比西瓜多 2 C. 西瓜和木瓜一样多

B. 数一数 (4 x 4%)

	数字	文字
13		
14		
15		
16		

C. 圈一圈 (3 x 2%)



- 17) 上图的羊比较 (多, 少), 母鸡比较 (多, 少)。  
18) 小鸟和鱼儿的数量 (相等, 不相等)。  
19) 树上的苹果 (多于, 少于) 花儿。

D. 对的画 (√), 错的画 (×) (5 x 2%)

- 20) 3 比 6 大 ( )  
21) 7 比 4 多 3 ( )  
22) 5 多 3 是 9 ( )  
23) 10 少 2 是 8 ( )  
24) 13 和 15 之间是 14 ( )

E. 依照顺序或逆序排列数字 (4 x 2%)

25) 11, 13, 12, 17, 16  
顺序: \_\_\_\_\_

26) 8, 9, 4, 5, 6  
顺序: \_\_\_\_\_

27) 11, 12, 13, 14, 15

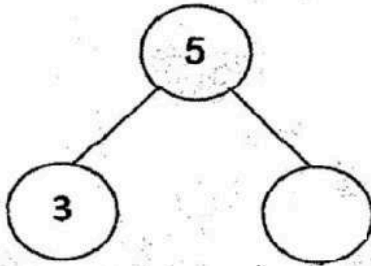
逆序: \_\_\_\_\_

28) 4, 3, 2, 5, 6

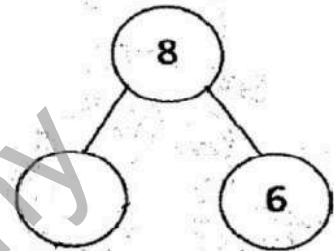
逆序: \_\_\_\_\_

F. 写出以下数目的组合 (4 x 2%)

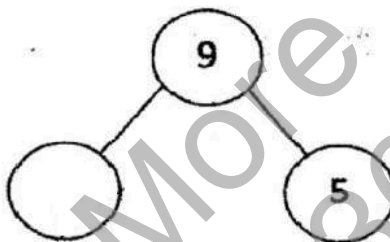
29)



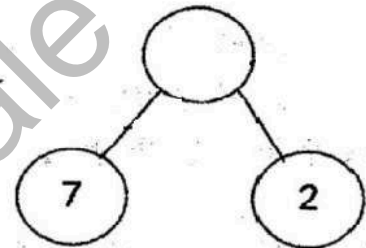
30)



31)



32)



G. 圈出画线数字的数位 (2 x 2%)

33)

<u>19</u>	十位
	个位

34)

<u>63</u>	十位
	个位

H. 圈出画线数字的数值 (2 x 2%)

35)

<u>90</u>	90
	0

36)

<u>27</u>	20
	7


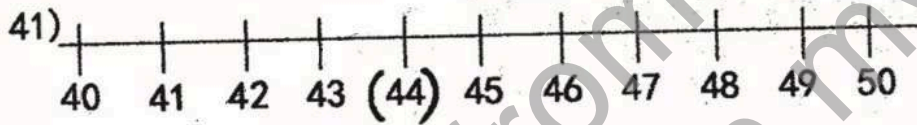
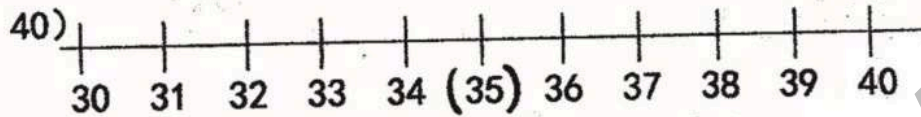
I. 填一填 (5%)

37) 15, 17, (      ), 21, 23

38) 60, 50, (      ), (      ), 20, 10

39) 45, 50, (      ), 60, 65, (      )

J. 圈出 ( ) 里数目的十位近似值 (3 x 2%)



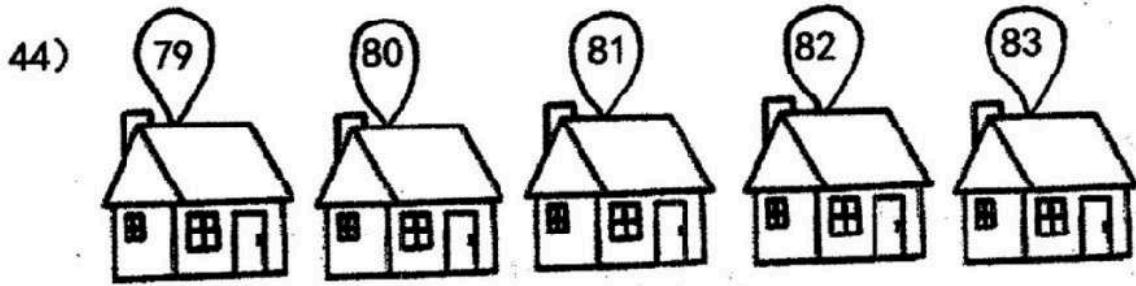
K. 应用题 (9%)



有 18 个蛋糕, 各标上 1-18 的数字。哪两个蛋糕被老鼠咬了一口?

答: 被老鼠咬了一口的蛋糕是 (      ) 和 (      )。

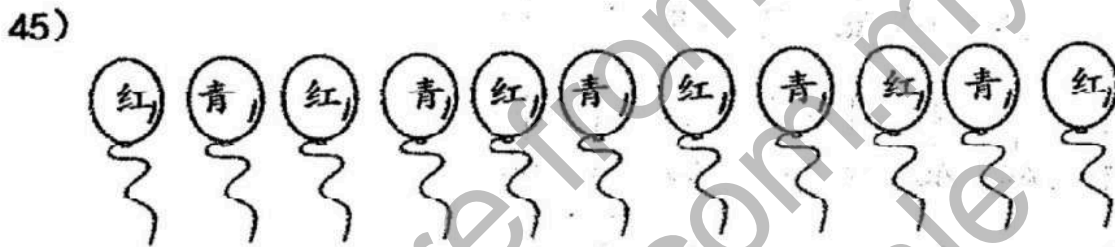
(2%)



上图显示一排房子和门牌号码，文明住在80号房子，从右边算起，文明住在第几所房子？

答：文明住在第（      ）所房子。 (2%)


---



弟弟把气球按照以上形式排列。从左到右算起，排在第九个的是红气球还是青气球？

答：是（      ）气球。 (2%)

---



上图显示巧克力饼干和牛油饼干，巧克力饼干和牛油饼干各有多少块？  
这些饼干共有多少块？

答：巧克力饼干（      ）块，牛油饼干（      ）块。

这些饼干共有（      ）块。 (3%)

(6)

答案

A)

1) B

2) A

3) B

4) C

5) C

6) B

7) C

8) A

9) B

10) B

11) A

12) A

B)

13) 18, 十八

14) 44, 四十四

15) 20, 二十

16) 6, 六

C)

17) 少, 多

18) 不想等

19) 少于

D)

20) ✗

21) ✓

22) ✗

23) ✓

24) ✓

E)

25) 11, 12, 13, 16, 17

26) 4, 5, 6, 8, 9

27) 15, 14, 13, 12, 11

28) 6, 5, 4, 3, 2

F)

29) 2

30) 2

31) 4

32) 9

G)

33) 十位

34) 个位

H)

35) 0

36) 20

J)

37) 19

38) 40, 30

39) 55, 70

J)

40) 40

41) 40

42) 80

K)

43) 9, 15

44) 4

45) 红

46) 7, 5

12

扫描二维码 (WeChat ID: sjkemy), 关注“华小大小事”, 更多好康等着你!



马来西亚最齐全的网上写作课程: 《小作家课程》和《写作练习班》! 只需一次付费, 即可使用长达三年! 而且内容会持续更新, 不另加收费!

超值配套! 最优惠的价格购买《小作家课程》和《写作练习班》: <https://30.com.my/package>

