


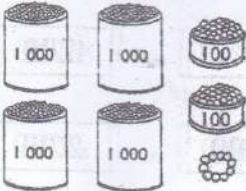

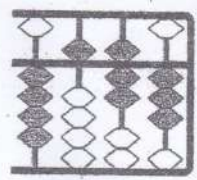


如果这考卷对您有帮助, 请考虑提供您所拥有的考卷, 让其他人也受惠
您可电邮至 30commy@gmail.com 或 PM 我们的 Facebook 专页: fb.com/sjkcmv

2017年三年级第一期考考试数学试卷

姓名: _____

班级: 3 () 分数: _____

(A) 看图写出数目。6%

1 	2 	3 
4 	5 	6 

(B) 以顺序和逆序重组数目。6%

1) $4294 * 4310 * 4286 * 4318 * 4302$

顺序: _____

2) $8867 * 8855 * 8873 * 8849 * 8861$

逆序: _____

3) $3723 * 6092 * 3940 * 6923 * 3903$

顺序: _____

如果这考卷对您有帮助，请考虑提供您所拥有的考卷，让其他人也受惠
 您可电邮至 30commy@gmail.com 或 PM 我们的 Facebook 专页: fb.com/sjkcmly

(C) 写出画线数字的数位和数值。^值 8%

	数目	数位	数值
1)	1 <u>4</u> 20		
2)	37 <u>4</u> 4		

	数目	数位	数值
3)	<u>7</u> 315		
4)	4 <u>0</u> 52		

(D) 填一填。9%

- 1) 2500, 8200, , 8200, ,
- 2) , 2400, 2300, 2200, ,
- 3) 8345, 8340, , 8330, ,

(E) 把比较大的数目涂上颜色。4%

1.	4963	4936
3.	5437	5374

2.	7099	8001
4.	9166	9066

(F) 完成以下数目的分析式。8%

- 1) 2784 = _____ 个千, _____ 个百, _____ 个十, _____ 个一
- 2) 8465 = _____ 个千, _____ 个百, _____ 个十, _____ 个一
- 3) 7923 = 7000 + _____
- 4) 9806 = _____

如果这考卷对您有帮助, 请考虑提供您所拥有的考卷, 让其他人也受惠
您可电邮至 30commy@gmail.com 或 PM 我们的 Facebook 专页: [fb.com/sjkcmv](https://www.facebook.com/sjkcmv)

(G) 写出以下数目的近似值。6%

	数目	十位近似值	百位近似值	千位近似值
1)	1476			
2)	8852			

(H) 以竖式计算以下各题。12%

1) $53 + 133 + 2408 =$	2) $5479 + 2499 =$
3) $4175 + 237 + 1084 =$	4) $3704 - 552 =$
5) $2817 - 65 - 499 =$	6) $7832 + 19 =$

(I) 写出正确的数目: 6%

- 1899 之前的两个数目。 _____
- 3579 之后的一个数目。 _____
- 6853 和 6857 之间的数目。 _____

(J) 圈出最适当的答案: 20%

1. 把 2480 写成文字。

A 二千四百八十

C 二千零四十八

B 二千四百十八

D 二百四十八

2. 哪个数目的百位近似值是 3800 ?

A 3856

C 3748

B 3812

D 3725

3. $7653 =$

A $7000 + 6000 + 50 + 3$

C $700 + 600 + 50 + 3$

B $7000 + 600 + 50 + 3$

D $7000 + 60 + 5 + 3$

4. 以下哪个数目中的数字 7 的数位是十位?

A 4718

C 7200

B 6074

D 8357

5. 以下哪项是依顺序排列的数目?

A 1214, 1224, 1234, 1204

C 8144, 8256, 8072, 8853

B 3708, 3702, 3696, 3684

D 6651, 6664, 6720, 6806

6. 2996, 3003, X, 3017, X 的值是

A 3006

C 3010

B 3008

D 3012

7. 工人从仓库搬走 655 箱果汁后, 还剩 1280 箱。仓库里原有多少箱果汁?

A 1935

C 625

B 1359

D 1539

8. 计算 4854 与 2965 的差。

A 2999

C 1889

B 1999

D 1888

9. 法蒂玛原有 3452 个纸星星, 她把 1785 个送给刘老师。法蒂玛还剩多少个星星?

A 1667

B 1777

C 2667

D 2777

10. $3808 - 1228 - 130 =$

A 2350

B 2450

C 2550

D 2650

(K) 解答下列应用题。(15%)

1) 文凯和文斌分别收集了 2 769 个和 3 081 个贝壳。
他们共收集了多少个贝壳?

答:

2) 铁罐里原有 3 860 颗弹子。伟良从罐里取出 2 450 颗弹子后, 还剩下多少颗弹子?

答:

3) 仓库里有 2 985 包糙米, 白米比糙米多 1 348 包。
仓库里共有多少包米?

答:

如果这考卷对您有帮助, 请考虑提供您所拥有的考卷, 让其他人也受惠
您可电邮至 30commy@gmail.com 或 PM 我们的 Facebook 专页: fb.com/sjkcmly

4) 佳佳文具店购入了 820 支蓝笔、680 支黑笔和 940 支红笔。该文具店购入了多少支笔?

答:

5) 体育馆里有 2 306 名女观众, 男观众比女观众多 548 名。体育馆里共有多少名观众?

答:

如对考题或答案有疑问, 欢迎到 Facebook 小组发帖询问: facebook.com/groups/sjkcmly

如果这考卷对您有帮助，请考虑提供您所拥有的考卷，让其他人也受惠
您可电邮至 30commy@gmail.com 或 PM 我们的 Facebook 专页: fb.com/sjkcmymy

答案

A 1.2126 2.4210 3.5246 4.4573 5.3704 6. 5457

B. 1. 4286,4294,4302,4310,4318

2,8873,8867,8861,8855,8849

3,3723,3903,3940,6092,6923

C. 1. 十位、, 20 3. 千位, 7000

2. 个位, 4 4. 百位, 0

D. 1.2500,2500.8200 2. 2500,2100,2000 3. 8335,8325,8320

E. 1. 4963 2.8001 3.5437 4.9166

F. 1) 2,7,8,4 2) 8,4,6,5 3)900+20+3 4)9000+800+6

G. 1. 1480,1500,1000 2. 8850,8900,9000

H. 1. 2594 2.7978 3.5496 4.3152 5.2253 6.7813

I. 1. 1898,1897 2.3580 3.6854,6855,6856

J. 1.A 2.B 3. B 4.B 5 D 6C 7A 8C 9A 10B

K. 1.5850 2.1410 3.5681 4.2440 5.5160