

三年级 单元一：10 000 以内的整数

试卷一

1. 把 4 630 写成文字。

- A 四百三十六
- B 四千六百零三
- C 四千六百二零
- D 四千六百三十

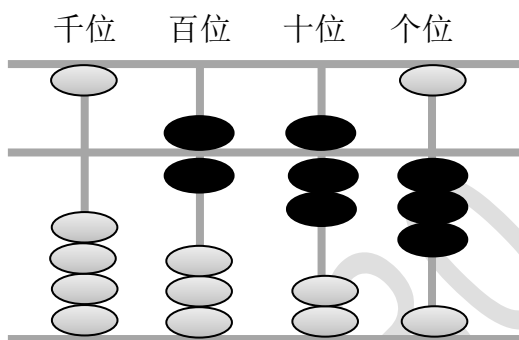
2. 下列哪个数目中，4 的数位是百位？

- A 2 348
- B 8 243
- C 3 428
- D 4 283

3. 在 7 133 中，7 的数值是\_\_\_\_\_。

- A 7 000
- B 700
- C 70
- D 7

4. 下图显示一个算盘。



上图中的算盘显示什么数目？

- A 238
- B 5 073
- C 673
- D 2 083

5. 以下哪项是 4 294 之前的数目？

- A 4 492
- B 4 924
- C 4 492
- D 4 249

6. 下图显示四张数目卡。

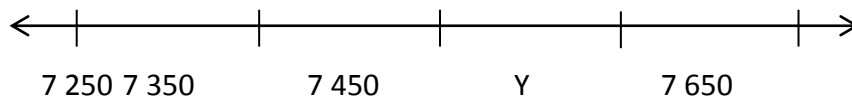


顺序排列以上数目。

- A 2 359, 2 210, 2 259, 2 158
- B 2 359, 2 259, 2 210, 2 158
- C 2 158, 2 210, 2 259, 2 359
- D 2 210, 2 259, 2 359, 2 158

此习题为 [30.com.my](http://30.com.my) 原创，除了出售牟利，老师学校，甚至补习中心都可以无限制使用

7. 下图显示一条数目线。



根据以上数列，Y 是多少？

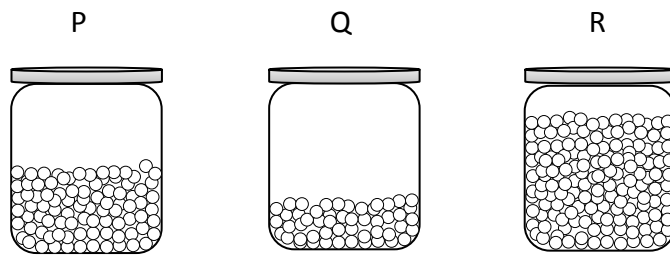
A 7 550

C 7 700

B 7 570

D 7 750

8. 下图显示三个装有不同数量珠子的罐子。



1 200 粒

以下哪项是合理的估计？

A Q 少于 1 200 粒，R 少于 1 200 粒

B Q 少于 1 200 粒，R 多于 1 200 粒


C Q 多于 1 200 粒，R 少于 1 200 粒

D Q 多于 1 200 粒，R 多于 1 200 粒

此习题为 [30.com.my](http://30.com.my) 原创，除了出售牟利，老师学校，甚至补习中心都可以无限制使用

## 试卷二

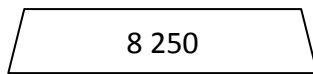
1. 下图显示一张数目卡。



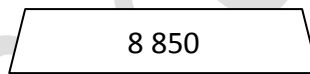
(a) 写出以上数目的文字。

(b) 写出 0 的数位。

2. 下图显示两张数目卡。



P



Q

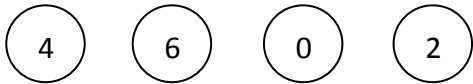
从 P 开始一百一百顺序地数，直到数到 Q。

3. 写出 7 024 的数位分析式。

4. 写出 5 285 的百位近似值。

此习题为 [30.com.my](http://30.com.my) 原创，除了出售牟利，老师学校，甚至补习中心都可以无限制使用

5. 下图显示四张数目卡。



(a) 用上图的数字卡组成一个最大的四位数。

(b) 以文字写出(a)的答案。

6. 下图显示四张数目卡。



逆序排列上图中的数目。

此习题为 [30.com.my](http://30.com.my) 原创，除了出售牟利，老师学校，甚至补习中心都可以无限制使用

## 答案

### 试卷一

- |      |      |
|------|------|
| 1. D | 5. D |
| 2. C | 6. C |
| 3. A | 7. A |
| 4. C | 8. B |

### 试卷二

- (a) 三千零八十五  
(b) 百位
- 8 250, 8 350, 8 450, 8 550, 8 650, 8 750, 8 850
- 7 个千、2 个十和 4 个一
- 5 300
- (a) 6 420  
(b) 六千四百二十
- 8 752, 8 725, 8 572, 8 527