

第二学年数学

试卷一

姓名: _____ ()

评分: _____

班级: 2 ()

日期: __ / /

家长签阅 _____

A) 仔细阅读后把正确答案的英文字母圈起来。10x1%= 10%

1) 什么数目介于 720 和 740 之间?

- A) 710 B) 730 C) 750

2) 以下横线上的数字的数值是多少?

785

- A) 800 B) 80 C) 8

3) 134, 75, 67 的总和是多少?

- A) 274 B) 275 C) 276

4) () - 129 = 340

空格里应填入什么数目?

- A) 470 B) 469 C) 468

5) 下列哪项的积最大?

- A) 6×5 B) 9×2 C) 6×4

6) $36 \div 4 = ?$

- A) 6 B) 8 C) 9


7) 下列哪项的分数最大?

- A) $\frac{1}{3}$ B) $\frac{1}{4}$ C) $\frac{1}{5}$

8) 将十分之五写成小数是 ()。

- A) 0.5 B) 0.6 C) 0.7

- 9) 把 0.4 写成文字是 ()。
- A) 四 B) 零点四 C) 十四
- 10) 写出珠算盘上的币值。



- A) RM 2.50 B) RM 6.55 C) RM 6.15




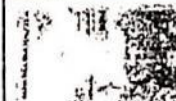
B) 把对的画 (√), 错的画 (X)。 $5 \times 1\% = 5\%$





1) $765 = 700 + 60 + 5$	
2) $435 + 276 = 611$	
3) $584 - 146 - 229 = 209$	
4) $76 - 39 - 14 = 23$	
5) $5 \times 0 = 5$	

C) 连一连, 完成以下算式。 $5 \times 1\% = 5\%$




- | | | | |
|------------------------|---|---|-----|
| 1) $4 \times 4 = ()$ | • | • | 16 |
| 2) $() - 142 = 391$ | • | • | 533 |
| 3) $() \times 5 = 25$ | • | • | 240 |
| 4) $906 - () = 103$ | • | • | 5 |
| 5) $230 + () = 470$ | • | • | 803 |

D) 圈出正确的数量。5X1%=5%

RM 68				
	1 张	(1 张, 2 张)	1 张	3 张

RM 96				
	1 张	(3 张, 4 张)	1 张	1 张

RM 74				
	1 张	1 张	(2 张, 3 张)	4 张

RM 33			
	2 张	(1 张, 2 张)	8 张

RM 78			
	7 张	1 张	(3 张, 8 张)

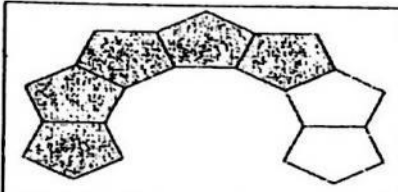
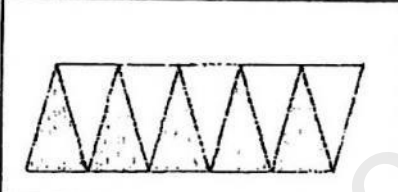
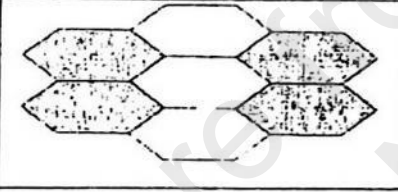

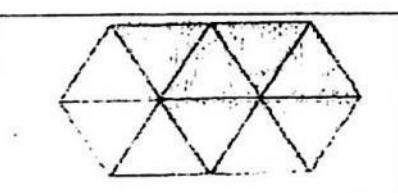
E) 圈出正确的答案。5x1%=5%

- 1) 0.5 比 0.2 (大, 小)
- 2) 372 比 237 (大, 小)
- 3) $\frac{1}{3}$ 比 $\frac{1}{6}$ (大, 小)
- 4) 0.3 比 0.6 (大, 小)
- 5) $\frac{1}{7}$ 比 $\frac{1}{2}$ (大, 小)

F) 把以下物品平分, 把正确的答案圈起来。5x1%=5%

- 1) 6个皮球, 2个2个地分组, 可分成 (3, 4) 组。
- 2) 20辆卡车, 4辆4辆地分组, 可分成 (4, 5) 组。
- 3) 10架电视机, 分成5架1组, 可分成 (2, 5) 组。
- 4) 16个鸡蛋, 平分放进4个篮子, 需要 (3, 4) 个篮子。
- 5) 把10朵花分成10朵1组, 共可分成 (1, 10) 组。

G) 根据分数或小数, 将以下图案连接到正确的答案。5x1%=5%

1)		:	0.5
2)		:	0.8
3)		:	$\frac{5}{7}$
4)		:	$\frac{4}{7}$
5)		:	0.2

第二学年数学

试卷二

姓名: _____ ()



评分: _____

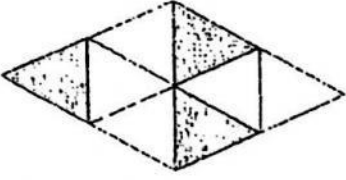
班级: 2 ()



日期: _____

家长签阅: _____

回答所有的问题, 必须清楚地写出所有的计算步骤。40%

1	写出 297 的十位近似值	1 分
2	$\begin{array}{r} 347 \\ - 59 \\ \hline \end{array}$	1 分
3	把八分之一写成数字。	1 分
4	<div style="display: flex; align-items: center;"> <div style="width: 100px; height: 20px; background-color: black; margin-right: 5px;"></div> <div style="border: 1px solid black; width: 100px; height: 20px; display: flex; justify-content: space-between;"> <div style="width: 25%;"></div> <div style="width: 25%;"></div> <div style="width: 25%;"></div> <div style="width: 25%;"></div> </div> </div> <p style="text-align: center; margin: 5px 0;">0.2</p> <div style="display: flex; align-items: center;"> <div style="width: 100px; height: 20px; background-color: black; margin-right: 5px;"></div> <div style="border: 1px solid black; width: 100px; height: 20px; display: flex; justify-content: space-between;"> <div style="width: 25%;"></div> <div style="width: 25%;"></div> <div style="width: 25%;"></div> <div style="width: 25%;"></div> </div> </div> <p style="text-align: center; margin: 5px 0;">0.4</p> <p>0.2 比 0.4 少 () 格。</p>	1 分
5	<div style="display: flex; justify-content: space-around; align-items: center;">  可换 () 张  </div>	1 分
6	() + 340 = 780	2 分

7	计算 8 和 5 的积。	2 分
8	$32 \div 4 = (\quad)$ $(\quad) \times 4 = 32$	2 分
9	<p>以数字和文字写出涂黑部分的分数</p>  <p>数字 : _____ 文字 : _____</p>	2 分
10	<p>完成以下的数目。</p> <p>0, 0.1, (), 0.3, (), 0.5</p>	2 分
11	24 个球, 分成 4 个一组, 共有 () 组。	2 分
12	$90 \text{ sen} - 20 \text{ sen} - 45 \text{ sen} = \underline{\hspace{2cm}}$	2 分
13	<p>以竖式计算以下除法, 并把答案写在横线上。</p> <p>$15 \div 5 = \underline{\hspace{2cm}}$</p>	2 分

14	<p>根据涂黑部分, 写出分数和小数。</p>  <p>分数 : _____ 小数 : _____</p>	2分
15	 <p>0 0.1 0.2 (X) 0.5 (Y)</p> <p>X = () Y = ()</p>	2分
16	<p>丽丽要买一件 RM 90 的裙子, 但她还少 RM 43.90, 她现有多少钱?</p> <div style="border: 1px solid black; height: 40px; width: 350px; margin-bottom: 10px;"></div> <p>答: 她现有 RM ()。</p>	3分
17	<p>小美把 4 本书放在一个箱子里, 她共用了 9 个箱。她一共收了多少本书?</p> <div style="border: 1px solid black; height: 40px; width: 350px; margin-bottom: 10px;"></div> <p>答: 她一共收了 () 书。</p>	3分
18	<p>阳光工厂里有 452 个员工, 其中 181 个是男工, 女工共有多少个?</p> <div style="border: 1px solid black; height: 40px; width: 350px; margin-bottom: 10px;"></div> <p>答: 女工共有 () 个。</p>	3分

19	<p>陈叔叔把 20 个苹果平分给他自己和 4 名孩子, 每人可获得多少个苹果?</p> <div data-bbox="231 369 861 504" style="border: 1px solid black; height: 60px; width: 400px; margin: 10px 0;"></div> <p>答: 每人可获得 () 个苹果。</p>	3 分						
20	<p>小新买了以下的物品, 他一共要付给店员多少钱?</p> <table border="1" data-bbox="247 660 989 817"><tr><td>校服</td><td>RM 16</td></tr><tr><td>铅笔</td><td>RM 9</td></tr><tr><td>书包</td><td>RM 32</td></tr></table> <div data-bbox="263 840 893 952" style="border: 1px solid black; height: 50px; width: 400px; margin: 10px 0;"></div> <p>答: 他一共要付给店员 RM ()。</p>	校服	RM 16	铅笔	RM 9	书包	RM 32	3 分
校服	RM 16							
铅笔	RM 9							
书包	RM 32							

答案

试卷一

A)

1. B
2. B
3. C
4. B
5. A
6. C
7. A
8. A
9. B
10. C

B)

1. \checkmark
2. \times
3. \checkmark
4. \checkmark
5. \times

C)

1. 16
2. 533
3. 5
4. 803
5. 240

D)

1. 1
2. 4
3. 2
4. 1
5. 3

E)

1. 大
2. 大
3. 大

4. 小

5. 小

F)

1. 3
2. 5
3. 2
4. 4
5. 1

G)

1. $\frac{5}{7}$
2. 0.5
3. $\frac{4}{7}$
4. 0.2
5. 0.8

试卷二

1. 300

2. 288

3. $\frac{1}{8}$

4. 2

5. 10

6. 440

7. 40

8. 8, 8

9. $\frac{3}{8}$, 八分之三

10. 0.2, 0.4

11. 6

12. 25 sen

13. 3

14. $\frac{7}{10}$, 0.7

15. $X = 0.4, Y = 0.7$

16. $RM\ 90 - RM\ 43.90 = RM\ 46.10$
(RM 46.10)

17. $9 \times 4 = 36$ (36)

18. $452 - 181 = 271$ (271)

19. $20 \div 5 = 4$ (4)

20. $RM\ 16 + RM\ 9 + RM\ 32 = RM\ 57$
(RM 57)