

二年级数学八月份考试


姓名: _____ ()


评分: _____

班级: 2()

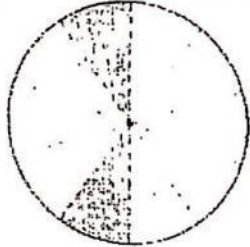

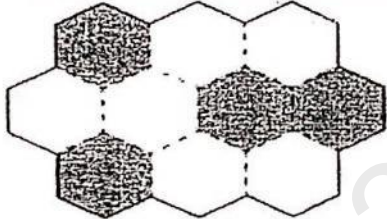
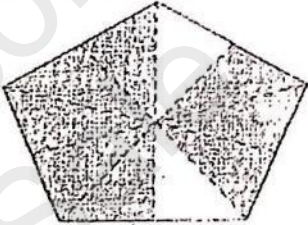

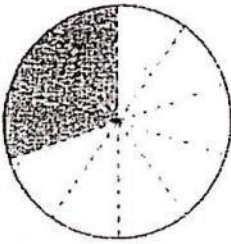
日期: ____/____/____

A) 仔细阅读后, 把正确的答案填在空格里。10X2=20%

1.	下列哪个小数比 0.4 小? A. 零点九 B. 零点六 C. 零点五 D. 零点二	
2.	下列哪项说明是正确的? A. 0.6 小过 0.9 B. 0.4 小过 0.1 C. 0.3 大过 0.4 D. 0.5 大过 0.8	
3.	$\frac{7}{10} =$ A. 0.1 B. 0.7 C. 0.2 D. 0.9	
4.	$\frac{1}{6}$ 比下列哪个分数小? A. $\frac{1}{7}$ B. $\frac{1}{5}$ C. $\frac{1}{9}$ D. $\frac{1}{10}$	
5.	 下列哪项代表上图的小数? A. 0.4 B. 0.3 C. 0.2 D. 0.1	

6.		把上图的涂黑部分写成分数。
	A. 八分之二	C. 八分之三
	B. 八分之一	D. 八分之四
7.	下列哪项是正确的?	
	A. $\frac{8}{10} =$ 八分之十	C. $\frac{1}{2} =$ 一分之二
	B. $\frac{2}{10} =$ 十分之二	D. $\frac{1}{4} =$ 四分之二
8.	$\frac{1}{8}$ 比哪个分数大?	
	A. $\frac{1}{7}$	C. $\frac{1}{2}$
	B. $\frac{1}{5}$	D. $\frac{1}{10}$
9.	RM1. 20 + RM2. 45 =	
	A. RM3. 65	C. RM5. 65
	B. RM3. 56	D. RM3. 60
10.	RM9. 35 - RM3. 20 =	
	A. RM6. 15	C. RM6. 55
	B. RM6. 50	D. RM6. 05

B) 根据涂黑部分, 以文字和数字写出分数。5X4=20%

例:		3.	
	十分之二	$\frac{2}{10}$	
1.		4.	
2.		5.	

C) 圈出正确的答案。5X1=5%

1) $\frac{1}{8}$ 比 $\frac{1}{3}$ (大 , 小)

2) $\frac{1}{7}$ 比 $\frac{1}{2}$ (大 , 小)

3) $\frac{1}{4}$ 比 $\frac{1}{6}$ (大 , 小)

4) $\frac{1}{4}$ 比 $\frac{1}{9}$ (大 , 小)

5) $\frac{1}{2}$ 比 $\frac{1}{3}$ (大 , 小)

D) 把较大的小数涂上颜色。5x2=10%

1.	0.1	0.3
----	-----	-----

2.	0.5	0.9
----	-----	-----

3.	0.4	0.8
----	-----	-----



4.	0.7	0.3
----	-----	-----


5.	0.8	0.6
----	-----	-----

E) 以竖式算一算。5X2=10%

1) RM28 + RM14 =	4) RM2 - RM1.80 =
2) RM6.80 + 85 sen =	5) RM50 - RM17 - RM5 =
3) RM3.50 + 70 sen =	

F) 写出纸币的数量。2X2=4%

1) RM70 = 张  + 2 张 

2) RM60 = 张 

G) 圈出比较小值的小数。5X2=10%

1) (0.3 , 0.7)



2) (0.1 , 0.5)



3) (0.4 , 0.6)



4) (0.9 , 0.4)

5) (0.8 , 0.2)

H) 写出正确的币值。3x2=6%

1) 1张  + 2张  =

2) 1张  + 5张  =

3) 8张  + 3枚  =

1) 应用题 3x5=15%

1.	文文有 30 sen, 妈妈又给了他 50 sen。她现在共有多少钱? _____	
	答: 她现在共有 ()。	
2.	一件衣服价值 RM30, 一件裙子价值 RM22。这两样物品的价格相差多少? _____	
	答: 这两样物品的价格相差 ()。	
3.	沙米有 RM90。她买了一件价值 RM45 的衣服和一包价值 RM9 的食物。他还剩多少钱? _____	
	答: 他还剩 ()。	
4.	薇薇有 RM100。她用了 RM35, 还剩下多少钱? _____	
	答: 他还剩 ()。	
5.	一支笔的价格是 RM2.50。一本故事书比它贵 RM5.90。这本故事书的价格是多少? _____	
	答: 这本故事书的价格是 ()。	

答案

A)

1. D
2. A
3. B
4. B
5. B
6. B
7. B
8. D
9. A
10. A

B)

1. 十分之四 $4/10$
2. 十分之七 $7/10$
3. 十分之六 $6/10$
4. 十分之八 $8/10$
5. 十分之三 $3/10$

C)

1. 小
2. 小
3. 大
4. 大
5. 大

D)

1. 0.3
2. 0.9
3. 0.8
4. 0.7
5. 0.8

E)

1. RM 42
2. RM 7.65 / 765 sen
3. RM 4.20 / 420 sen
4. RM 0.20
5. RM 28

F)

1. 1
2. 6

G)

1. 0.3
2. 0.1
3. 0.4
4. 0.4
5. 0.2

H)

1. RM 70
2. RM 100
3. RM 81.50

I)

1. 80 sen
2. RM 8
3. RM 36
4. RM 65
5. RM 8.40