

第二学年数学

姓名: _____ () 评分: _____ %

班级: 2 () 日期: ()

家长签阅: _____

A 仔细阅读后, 把正确答案的英文字母圈起来。(10 X 2% = 20%)

1) $50 + 70 =$

A 12 B 350 C 35 D 120

2) 7 张 RM 5 是多少钱?

A RM 35 B RM 75 C RM 12 D RM 57

3) 2 张 RM 1 可以换成多少枚 20 仙?

A 5 B 10 C 20 D 2

4) $46 - 14 - 15 =$

A 32 B 23 C 60 D 17

5) 下列哪个小数比 0.7 大?

A 零点九 B 零点六 C 零点三 D 零点四

6) 把 十分之七 写成小数。

A 0.1 B 0.7 C 0.5 D 0.3

7) 下列哪项是正确的?

A 0.2 大过 0.7 B 0.4 小过 0.1

C 0.8 大过 0.5 D 0.5 小过 0.3

8) 下列哪个分数比六分之一小?

- A 七分之一 B 二分之一 C 四分之一 D 五分之一

9) 下列哪项答案的值最小?

- A $8 \div 2$ B $50 \div 10$ C $27 \div 3$ D $6 \div 1$

10) 下列哪项商数是正确的?

A $20 \div 10 = 20$ B $0 \div 5 = 1$

C $12 \div 4 = 3$ D $8 \div 4 = 4$

B 在括弧里填上正确的答案。 (9 X 2% = 18%)

1	$18 \div 2 = (\quad)$	2	$(\quad) \div 3 = 0$
3	$0 \div 4 = (\quad)$	4	$(\quad) \div 6 = 4$
5	$28 \div 4 = (\quad)$	6	$40 \div (\quad) = 8$
7	$6 \times 3 = (\quad)$	8	$8 \times (\quad) = 16$
9	$10 \times 5 = (\quad)$		

C 哪个小数的值最大, 把它涂上颜色。 (4 X 2% = 8%)

1.	0.3	0.6	2.	0.1	0.3
----	-----	-----	----	-----	-----

3.	0.7	0.5	4.	0.4	0.2
----	-----	-----	----	-----	-----

D 以竖式计算以下各题, 并把答案写在横线上 (4 X 3% = 12%)

1	RM 5.00 + RM 1.50 = _____	2	RM 3 + 60 sen = _____
3	RM 6 - 80 sen = _____	4	85 sen - 15 sen = _____

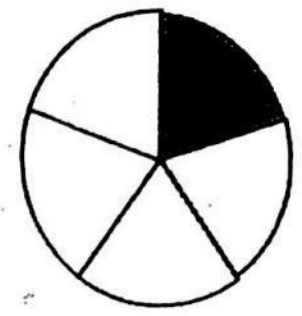





E 把分数写成小数。 (5 X 2% = 10%)

例	$\frac{3}{10} = 0.3$	1	$\frac{8}{10} =$
2	$\frac{9}{10} =$	3	$\frac{6}{10} =$
4	$\frac{1}{10} =$	5	$\frac{5}{10} =$

F 圈出正确的答案。 (5 X 2% = 10%)

1.	$\frac{1}{4}$ 比 $\frac{1}{2}$ (大, 小)	2.	$\frac{1}{3}$ 比 $\frac{1}{4}$ (大, 小)
3.	$\frac{1}{2}$ 比 $\frac{1}{6}$ (大, 小)	4.	$\frac{1}{8}$ 比 $\frac{1}{3}$ (大, 小)
5	$\frac{1}{3}$ 比 $\frac{1}{6}$ (大, 小)		

G 根据涂黑部分, 以文字和数字写出分数。(5 X 2% = 10%)

<p>例.</p>  <p>五分之一 $\frac{1}{5}$</p>	<p>1</p>  <p><input type="text"/> <input type="text"/></p>
<p>2</p>  <p><input type="text"/> <input type="text"/></p>	<p>3</p>  <p><input type="text"/> <input type="text"/></p>
<p>4</p>  <p><input type="text"/> <input type="text"/></p>	<p>5</p>  <p><input type="text"/> <input type="text"/></p>

H 应用题。 (4 X 3% = 12%)

1	20 人分乘 4 辆汽车, 每辆汽车有多少人? <hr/>	
	答: 每辆汽车有 () 人。	
2	奶奶把 3 个苹果分给妹妹一个人, 妹妹有多少个苹果? <hr/>	
	答: 妹妹有 () 个苹果。	
3	哥哥有 RM 7.20 , 妈妈又给他 RM 1.80。哥哥共有多少钱? <hr/>	
	答: 哥哥共有 () 。	
4	芷嫣有 RM 10, 佳尉的钱比芷嫣少 RM 2.50。佳尉有多少钱? <hr/>	
	答: 佳尉有 () 。	

答案

A

1. D
2. A
3. B
4. D
5. A
6. B
7. C
8. A
9. A
10. C

B

1. 9
2. 0
3. 0
4. 24
5. 7
6. 5
7. 18
8. 2
9. 50

C

1. 0.6
2. 0.3
3. 0.7
4. 0.4

D

1. RM 6.50
2. RM 3.60
3. RM 5.20
4. 70 sen

E

1. 0.8
2. 0.9
3. 0.6
4. 0.1
5. 0.5

F

1. 小
2. 大
3. 大
4. 小
5. 大

G

1. 八分之四 $\frac{4}{8}$
2. 六分之一 $\frac{1}{6}$
3. 二分之一 $\frac{1}{2}$
4. 十分之五 $\frac{5}{10}$
5. 九分之五 $\frac{5}{9}$

H

1. $20 \div 4 = 5$
2. $3 \div 1 = 3$
3. $\text{RM } 7.20 + \text{RM } 1.80 = \text{RM } 9.00$
4. $\text{RM } 10 - \text{RM } 2.50 = \text{RM } 7.50$