

2 年級數學考試

姓名: _____

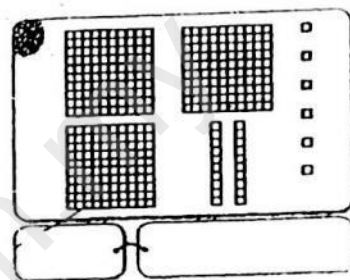
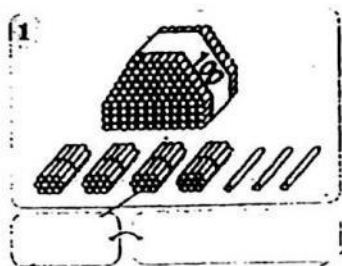
班級: _____

(). 5. 2014

成績:

等級: A/B/C/D/E

A. 以數字和文字寫出以下物體的數量。(4%)



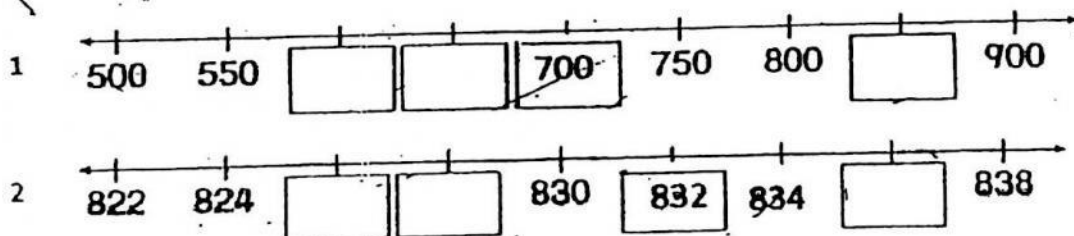
B. 寫出畫線數位與數值。(4%)

	數位	數值
1. 6 <u>3</u> 0		
2. 9 <u>7</u> 8		

C. 寫出以下數目的十位和百位近似值。(8%)

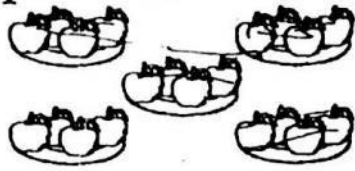
	十位近似值	百位近似值
1. 4 2 3		
2. 7 9 9		
3. 5 1 0		
4. 8 0 7		

E. 填上正確的答案。(6%)



F. 填上正确的答案 (4%)

1.



$$(\quad) + (\quad) + (\quad) + (\quad) + (\quad) = (\quad)$$

$$(\quad) \times (\quad) = (\quad)$$

2.



$$(\quad) + (\quad) + (\quad) + (\quad) = (\quad)$$

$$(\quad) \times (\quad) = (\quad)$$



G. 以竖式算一算 (12%)

1. $550 + 267 = (\quad)$	5. $786 - 571 - 138 = (\quad)$
2. $174 + 336 + 471 =$	6. $(\quad) - 620 = 159$
3. $(\quad) + 39 = 632$	7. $563 - (\quad) = 227$

H. 完成以下各题 (8%)

1. $3 \times 4 = \underline{\quad}$ 2. $8 \times 0 = \underline{\quad}$ 3. $\underline{\quad} \times 5 = 30$
4. $9 \times \underline{\quad} = 90$ 5. $\underline{\quad} \times \underline{\quad} = 21$
6.
$$\begin{array}{r} \square \\ \times \quad 5 \\ \hline 45 \end{array}$$
7.
$$\begin{array}{r} 2 \\ \times \quad \square \\ \hline 14 \end{array}$$
8.
$$\begin{array}{r} \square \\ \times 10 \\ \hline 30 \end{array}$$

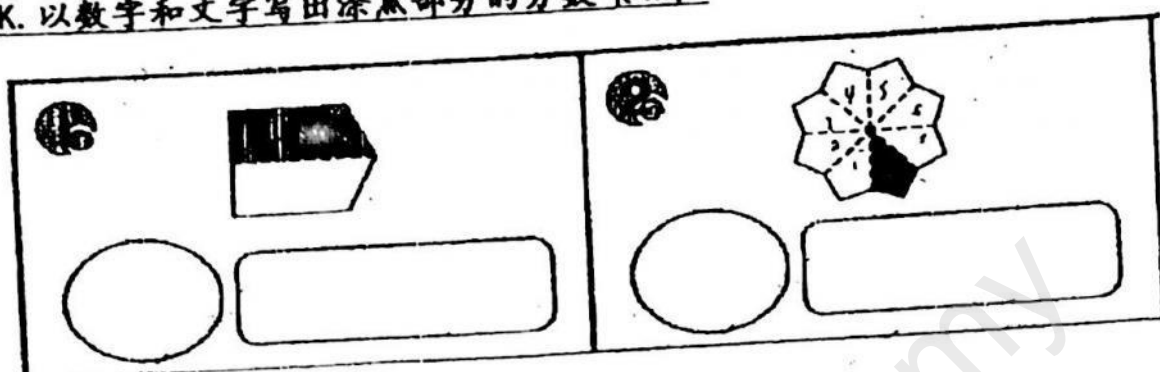
I. 圈一圈, 然后写出除法算式。 (4%)

<p>1. 把 32 个红毛丹平分给 8 个小孩。</p>  <p style="text-align: center;"><input type="text"/> \div <input type="text"/> = <input type="text"/></p>	<p>2. 把山竹分成 9 个一组。</p>  <p style="text-align: center;"><input type="text"/> \div <input type="text"/> = <input type="text"/></p>
--	--

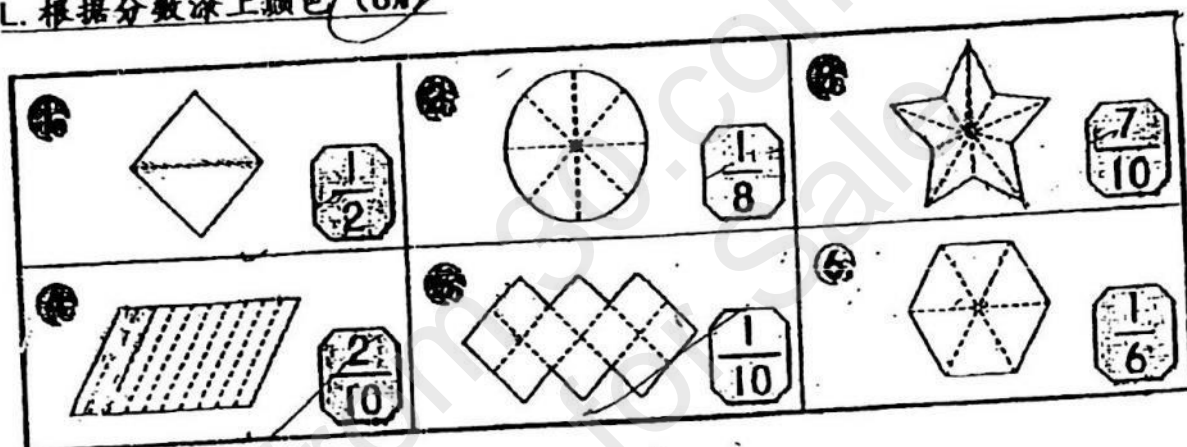
J. 完成下列各题 (8%)

1. $12 \div 2 = \underline{\quad}$ 2. $10 \div 10 = \underline{\quad}$ 3. $24 \div \underline{\quad} = 4$
4. $\underline{\quad} \div 3 = 9$ 5. $6 \div \underline{\quad} = 6$
6.
$$\begin{array}{r} \square \\ 5 \overline{) 25} \\ \underline{25} \\ 0 \end{array}$$
7.
$$\begin{array}{r} \square \\ 4 \overline{) 8} \\ \underline{8} \\ 0 \end{array}$$
8.
$$\begin{array}{r} 7 \\ 5 \overline{) \square} \\ \underline{\square} \\ 0 \end{array}$$

K. 以数字和文字写出涂黑部分的分数 (4%)



L. 根据分数涂上颜色 (6%)




M. 将正确的答案涂上颜色 (3%)

1. $\frac{1}{3}$ 比 $\frac{1}{9}$ 大 小。
2. $\frac{1}{7}$ 比 $\frac{1}{8}$ 大 小。
3. $\frac{1}{4}$ 比 $\frac{1}{2}$ 大 小。


N. 把涂黑部分的小数圈起来 (4%)

1.



0.3 0.7

2.



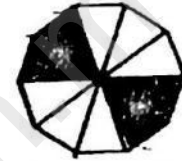
0.8 0.1

3.



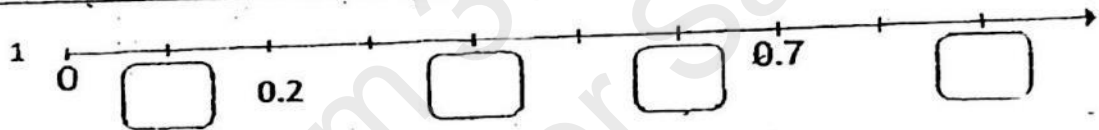
0.6 0.9

4.



0.3 0.4

O. 把正确的小数填进格子里 (4%)



P. 圈出正确的答案 (3%)

- 1 0.3 比 0.2 大 小
- 2 0.7 比 0.5 大 小
- 3 0.4 比 0.8 大 小

Q. 应用题 (18%)

1. 阿里卖出 463 个苹果和 128 个梨子。他共卖出多少个水果?

2. 家家杂货店有 910 包白糖, 幸幸杂货店的白糖比家家杂货店少 234 包。幸幸杂货店有多少包白糖?

3. 思琪一个星期吃 7 个苹果, 4 个星期内她共吃了多少个苹果?

4. 李老师把 15 支铅笔平分给 3 个同学。每个同学分得多少支铅笔?

5. 架子上有 10 套小说, 每套有 6 册。架子上有多少册小说?	
6. 1 个盒子可以装 4 个玩具熊, 9 个盒子共可装多少个玩具熊?	

出题:

家长签阅: _____

答案

A.

1. 143, 一百四十三
2. 326, 三百二十六

B.

1. 个位, 0
2. 十位, 70

C.

1. 420, 400
2. 800, 800
3. 510, 500
4. 810, 800

E.

1. 600, 650, 850
2. 826, 828, 836

F.

1. $4 + 4 + 4 + 4 + 4 = 20$
 $5 \times 4 = 20$
2. $2 + 2 + 2 + 2 = 8$
 $4 \times 2 = 8$

G.

1. 817
2. 77
3. 981
4. 779
5. 593
6. 336

H.

1. 12
2. 0
3. 6
4. 10
5. 7, 3
6. 9
7. 7
8. 3

I.

1. $32 \div 8 = 4$
2. $27 \div 9 = 3$

J.

1. 6
2. 1
3. 6
4. 27
5. 1
6. 5
7. 2
8. 35, 35

K.

1. $\frac{1}{2}$, 二分之一
2. $\frac{1}{8}$, 八分之一

M.

1. 大
2. 大
3. 小

N.

1. 0.3
2. 0.8
3. 0.6
4. 0.4

O.

1. 0.1
2. 0.4
3. 0.6
4. 0.9

P.

1. 大
2. 大
3. 小

Q.

1. $463 + 128 = 591$
2. $910 - 234 = 676$
3. $7 \times 4 = 28$
4. $15 \div 3 = 5$
5. $10 \times 6 = 60$
6. $9 \times 4 = 36$