

安顺三民华小第二校
SJK (C) SAN MIN NO. 2, TELUK INTAN, PERAK.

四年级历史年中评审
SEJARAH TAHUN 4
PEPERIKSAAN PERTENGAHAN TAHUN / 2016
时间 / MASA : 1 小时 / 1 JAM

姓名 :

日期 :


班级 :

成绩 :

A) 画线连一连以下历史遗物的名称。

(6 %)

1.




Ⓐ

Ⓐ

a) 登嘉楼“东山鼓”

2.



Ⓑ

Ⓑ

b) 霹靂州“智人”

3.




Ⓒ

Ⓒ

c) 树皮木锤

4.



Ⓓ

Ⓓ

d) 《马来纪年》手稿

5.




Ⓔ

Ⓔ

e) 砂拉越州尼亚洞

6.



Ⓕ

Ⓕ

f) 吉打州布秧谷佛塔

B) 填一填。 (16%)

1. 历史让我们_____过去所发生的事情，并_____我们不可以犯同样的错误。
2. _____让我们获知古代的_____如何生存与生活。
3. 身为马来西亚人民，我们必须了解我国的历史，这样才能培养_____。
4. 过去的历史成为我们未来发展的重要_____。
5. 我们可以通过历史，清楚得知过去社会的_____与_____。

参考	生活	爱国精神	成就
了解	警惕	古代文物	人类

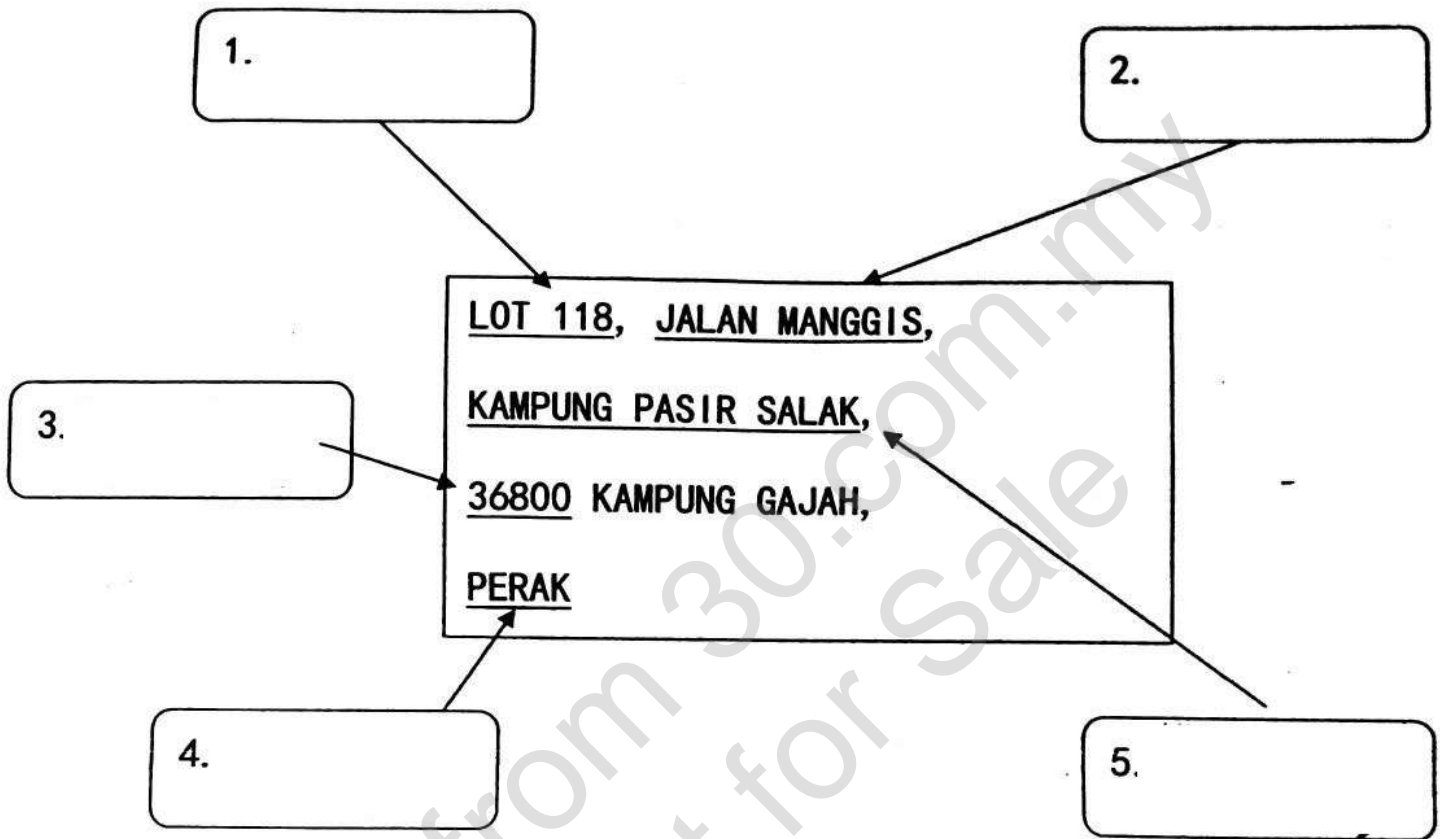
C) 根据学校的行政组织结构表，把代表校长和副校长职责的字母填写在○里。 (8%)

A 处理课外活动	C 处理有关学校业务和行政事务
B 协调学校所有的学术事项	D 处理所有有关学生的福利与安全事项



D) 根据以下地址, 填写正确的答案。 (10%)

路名 门牌 地区 邮区编号 州属



E) 写一写, 将以下的文化遗产分类。 (12%)

葫芦笙	苏马绍舞	哥巴雅	古筝	旗袍	婆罗多舞
-----	------	-----	----	----	------

传统舞蹈

传统乐器

传统服装

1. _____

2. _____

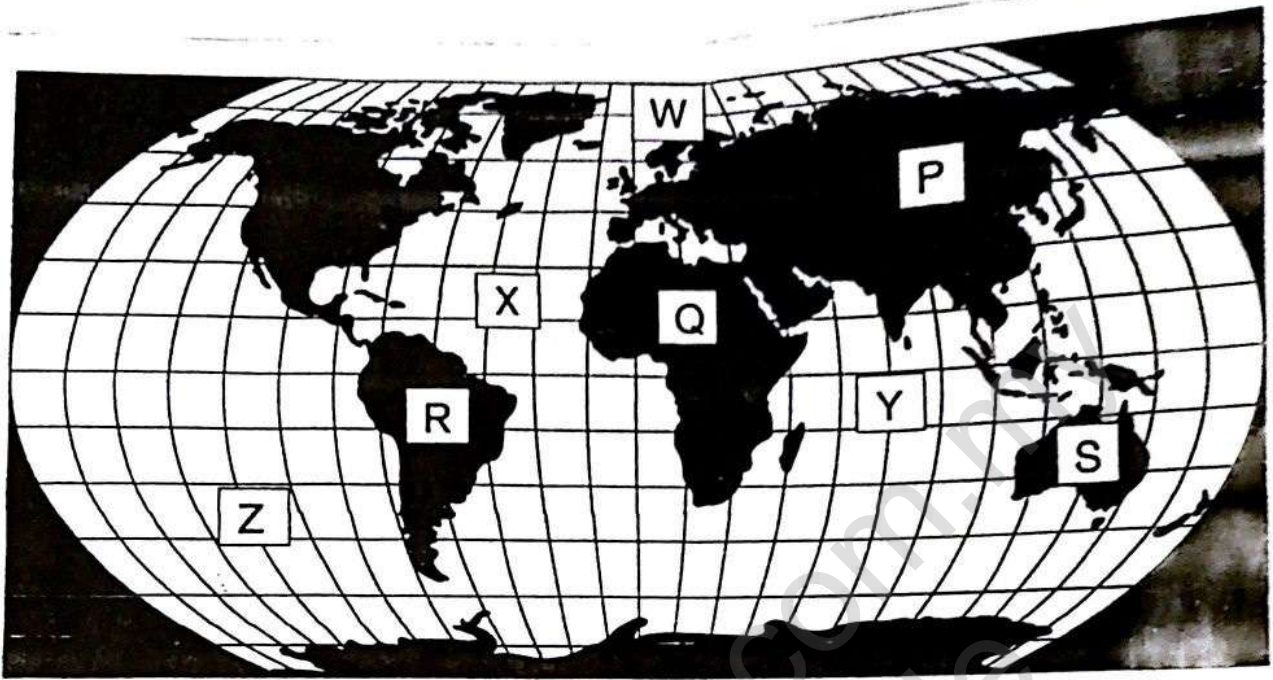
1. _____

2. _____

1. _____

2. _____

F) 写出大陆和海洋的名称。 (8%)



大洋洲	非洲	亚洲	南美洲
北冰洋	南太平洋	北大西洋	印度洋

大陆

海洋

P:		W:	
Q:		X:	
R:		Y:	
S:		Z:	

4. 以下哪一项不是历史遗迹？
- A. 砂拉越的尼亚洞
B. 吉打的布秧古佛塔
C. 沙巴的登柯拉克山
D. 吉隆坡双峰塔
5. 化石是古代动物或植物的遗留物。它属于哪一种资料来源？
- A. 第一手资料来源
B. 第二手资料来源
C. 口述
D. 文献
6. 哪项不是七大洲之一？
- A. 欧洲
B. 北美洲
C. 北极洲
D. 南极洲
7. 哪项不是我国的文化遗产？
- A. 战舞
B. 伊娘舞
C. 芭蕾舞
D. 苏马绍舞
8. _____ 负责新生入学和转学等手续。
- A. 学生事务副校长
B. 课外活动副校长
C. 行政副校长
D. 校长
9. 地方闻人都具有什么共同点？
- A. 为地方发展及其他方面做出贡献
B. 都是老师
C. 不具影响力
D. 都是老师
10. 哪项对于冰河时代的定义是正确的？
- A. 冰河时代是冰块融化的时代
B. 冰河时代是开始结冰的时代
C. 冰河时代是冰雪覆盖地球表面的时代
D. 冰河时代是冰块破碎的时代

安顺三民华小四年级历史试卷 答案

A.

1. a
2. b
3. d
4. c
5. f
6. e

传统服装

1. 歌巴雅
2. 旗袍

B.

1. 了解，警惕
2. 古代文物，人类
3. 爱国精神
4. 参考
5. 生活，成就

F.

P: 亚洲

Q: 非洲

R: 南美洲

S: 大洋洲

C.

1. C
2. B
3. D
4. A

W: 北冰洋

X: 北大西洋

Y: 印度洋

D.

1. 门牌
2. 路名
3. 邮区编号
4. 州属
5. 地区

Z: 南太平洋

E.

传统舞蹈

1. 苏马绍舞
2. 婆罗多舞

G.

1. 上升
2. 桑达板块
3. 马来群岛
4. 马六甲海峡

传统乐器

1. 葫芦笙
2. 古筝

H.

1. ✓
2. ✓
3. X
4. X
5. ✓
6. ✓

I.

1. C
2. A
3. C
4. D
5. A
6. C
7. C
8. A
9. A
10. C

More from 30.com.my
Not for Sale