

二年级数学试卷 (二)

时间: 1 小时

姓名: _____ ()

成绩: _____

班级: 2 ()

日期: 14-7-2017

试卷共有 15 题。回答所有试题, 并把所有计算步骤写在考卷上。如果遗漏任何重要的计算步骤, 将被扣分。

753

1a. 以文字写出以上数目的值。(2分)

答案: _____

1b. 写出 7 在以上数目中的数位。(2分)

答案: _____

1c. 5 个 5 个顺序的数, 753 之后的数目是多少?(2分)

答案: _____

MS1/MA2/T2/2017

第 2 题 (a) 与 (b) 看下图的数目卡。

175	351	292
-----	-----	-----

a. 以上数目卡中, 哪一个数目的百位近似值是 300? (2 分)

答案: _____

b. 写出以上数目卡中:

i) 最大的数目: _____ (1 分)


ii) 最小的数目: _____ (1 分)

3. 以直式算一算: (4 分)

a) $224 + 595 =$




b) $809 - 276 =$



MS2/MA2/T2/2017

4.



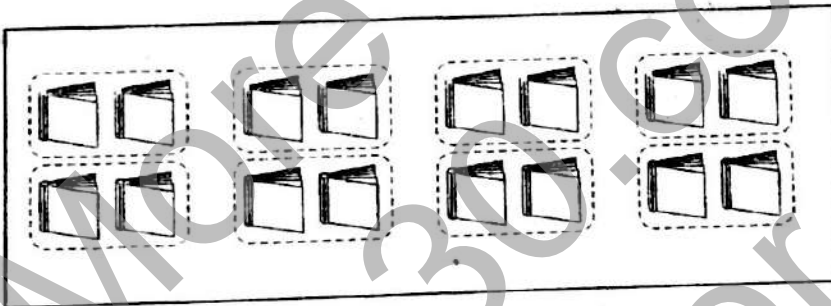
a) 根据以上的图片, 写出乘法算式。(2分)

答案: _____

b) 写出正确的答案。(2分)

i) $3 \times 4 = (\quad)$ ii) $5 \times 0 = (\quad)$

5.



a) 根据以上的图片, 写出除法算式。(2分)

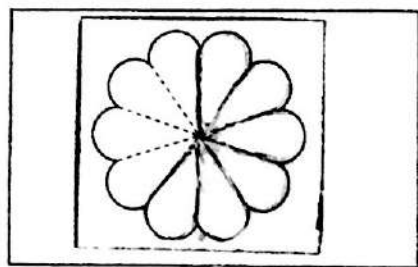
答案: _____

b) 写出正确的答案。(2分)

i) $14 \div 2 = (\quad)$ ii) $(\quad) \div 10 = 9$

MS3/MA2/T2/2017

6.



a) 根据小数零点六把上图涂上颜色。(2分)

b) 以数字写出上图涂了颜色部分的小数。(1分)

答案: _____

7.

0.6	0.9	0.2	0.4
-----	-----	-----	-----

a) 根据以上小数卡, 写出最大的小数。(1分)

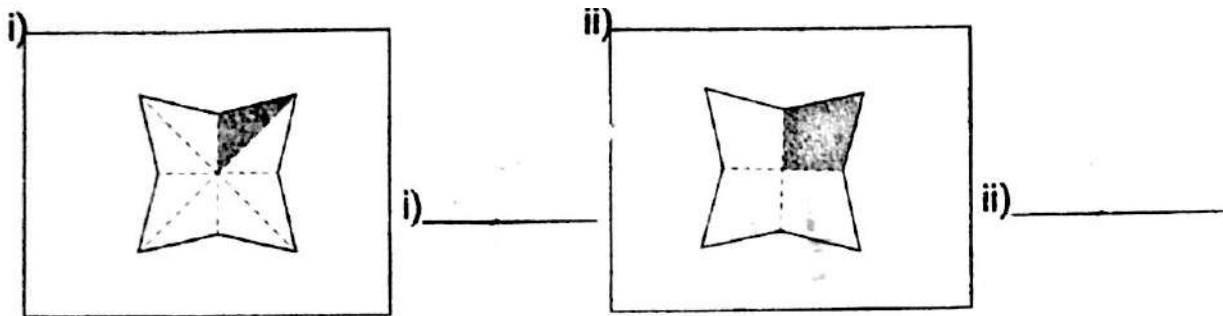
答案: _____

b) 把小数 0.4 变换成分数。(2分)

答案: _____

MS4/MA2/T2/2017

3.a) 写出涂黑部分的分数。(2分)



8b) 根据以上两个分数, 写出比较小的分数。(2分)

答案: _____


8c) 圈出对的答案。(2分)

$\frac{1}{4}$ 比 $\frac{1}{10}$ (大 , 小)。

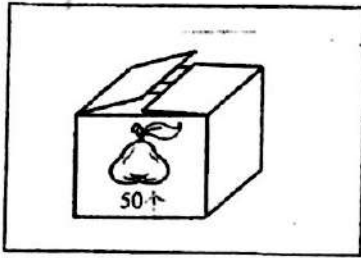
第9题请读以下情况。

爸爸每天早上和下午都喝一杯咖啡。

9. 爸爸在一个星期里喝了多少杯咖啡?(3分)



10



a) 妈妈将上图的水果分装成 10 个一袋。可装成多少袋? (2 分)

b) 妈妈把其中 2 袋水果送给外婆。外婆可分得多少个水果? (2 分)

a)

b)

11

第 11 题请读以下情况:

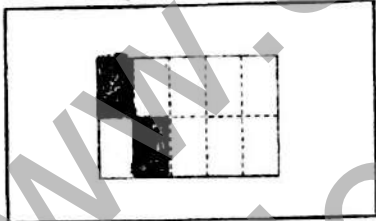
艾美折了 138 颗纸星星, 姐姐比艾美多折了 80 颗。

a) 姐姐有多少颗纸星星? (2 分)

b) 艾美和姐姐共折了多少颗纸星星?(3分)

a)

b)

<p>12</p>	<p>第 12 题请读以下情况。</p> <div style="border: 1px solid black; padding: 10px; margin: 10px 0;">开心面包店的架子上有 567 个小面包。</div> <p>a) 当天早上, 开心面包店卖了 285 个小面包。 架子上还有多少个小面包? (2 分)</p> <p>b) 下午, 开心面包店的老板准备了 2 个袋子各 装了 40 个小面包送去友爱老人院。现在开心 面包店的架子上还有多少个小面包? (3 分)</p>	<p>a)</p> <p>b)</p>
<p>13</p>	<p>第 13 题请读以下情况。</p> <div style="border: 1px solid black; padding: 10px; margin: 10px 0;">妈妈买了一个蛋糕, 她把蛋糕切成十块。</div> <div style="text-align: center; margin: 10px 0;"></div> <p>根据上图阴影的部分, (以分数写出) 哥哥吃了 _____ 的蛋糕。(2 分)</p>	

MS7/MA2/T2/2017

14	田老师把 18 个小球平均放入红色与青色的篮子里。每个篮子里有多少个小球? (2分)	
15	<p>第 15 题请读以下情况。</p> <div data-bbox="296 607 1046 808" style="border: 1px solid black; padding: 5px;"><p>妈妈在蛋糕店买了 3 盒小蛋糕。每盒里有 10 个小蛋糕。</p></div> <p>a) 妈妈共买了多少个小蛋糕? (2分)</p> <p>b) 妈妈把小蛋糕平分给子文和他的 5 个好朋友。问他们每一个人可分得多少个小蛋糕? (3分)</p>	<p>a)</p> <p>b)</p>

MSB/MA2/T2/2017