

2017 年第二学年第一学期数学评审

姓名: _____ ()

成绩: _____

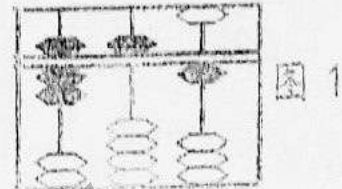
班级: 2 ()

日期: _____

A 选择题。(20%)

1 从图 1 找出珠算盘所代表的数目

- A 701 B 711 C 751



2 把 745 写成文字。

- A 七百四十五 B 七百五十四 C 七百五十

3 426 比 () 小

- A 406 B 416 C 460



4 从图 2 找出 X 所代表的数目。


- A 14 B 15 C 16

5 () + 411 = 855

- A 422 B 444 C 437

6 从图 3 找出正确的乘法算式。

- A 2×7
B 3×7
C 2×8



7 830 是哪个数目的十位近似值。

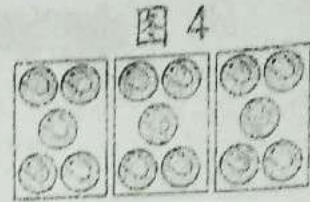
- A 841 B 834 C 836

8 从图 4 找出正确的除法算式。

A $18 \div 3 = 6$

B $20 \div 4 = 5$

C $15 \div 3 = 5$



9

608 , 152 , 49

找出最大和最小数目的和。

A 593

B 657

C 660

10 $4 \times \square = 28$

\square 里应填上什么数目?

A 3

B 5

C 7

B 根据数位或数值分析数目。(4%)

11 数位分析: $861 = (\quad)$ 个百 + (\quad) 个十 + (\quad) 个一

12 数值分析: $273 = (\quad) + (\quad) + (\quad)$

C 写出下列各数目的近似值。(4%)

13 356 的十位近似值 _____

14 551 的百位近似值 _____

D 排列以下数目。(4%)

15 629 , 313 , 730 , 574

顺序: _____

16 411 , 376 , 213 , 507

逆序: _____

E 写出画线数字的数位和数值。(2%)

	数目	数位	数值
17	<u>2</u> 4 8		
18	9 <u>5</u> 0		

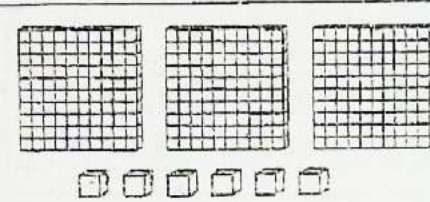
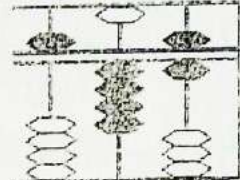
F 填一填。(6%)

19 _____ = 400 + 90 + 5

20 317, (), 321, (), 325

21 380, 390, (), 410, ()

G 以文字或数字写出数目。(4%)





<p>22</p> 	<p>23</p> 
<p>数字:</p>	<p>文字:</p>

H 圈出正确的答案。(4%)

24 263 比 230 (大, 小)

25 (780, 738) 比 755 小

I 看图完成下列各题。(10%)

<p>26</p>  <p>() X () = ()</p>
<p>27</p>  <p>() X () = ()</p>
<p>28</p>  <p>() ÷ () = ()</p>
<p>29</p>  <p>() ÷ () = ()</p>
<p>30 找出最大和最小数目的差</p> <div style="display: flex; justify-content: space-around; align-items: center;"> <div style="border: 1px solid black; border-radius: 50%; padding: 5px;">252</div> <div style="border: 1px solid black; border-radius: 50%; padding: 5px;">680</div> <div style="border: 1px solid black; border-radius: 50%; padding: 5px;">193</div> </div>

J 算一算，以竖式作答。(20%)

31	$658 + 123 = (\quad)$	32	$528 - 279 = (\quad)$
33	$413 \div (\quad) = 780$	34	$24 \div 2 = (\quad)$
35	$202 + 41 + 53 = (\quad)$	36	$8 \times 4 = (\quad)$
37	$(\quad) - 314 = 229$	38	$40 \div 5 = (\quad)$
39	$10 \times 8 = (\quad)$	40	$460 - 105 - 72 = (\quad)$

K 应用题。(20%)

41 智明小学有 654 个学生, 育文小学有 294 个学生, 这两所小学共有多少个学生?

答: () 个

42 张伯伯的农场里有 125 只牛, 452 只羊和 121 只鹅。他的农场里共有多少只家禽?

答: () 只

43 盒子里有 320 块积木, 弟弟弄不见了 89 块。盒子里还剩多少块积木?

答: () 块

44 1 个篮子可装 8 个榴槤, 2 个篮子可装多少个榴槤?

答: () 个

45 伟胜和 4 个朋友收集了 25 个铝罐, 平均每人收集了多少个铝罐?

答: () 个

46	水果摊有 546 个梨子和 228 个西瓜。这两种水果的数量相差多少个? <input data-bbox="231 257 853 358" type="text"/>	
答: () 个		
47	一个盒子里有 6 块巧克力, 4 个盒子共有多少块巧克力? <input data-bbox="231 649 869 750" type="text"/>	
答: () 块		
48	明明鞋店里摆放了 63 双凉鞋, 19 双皮鞋和 7 双球鞋。这间鞋店里共有多少双鞋子? <input data-bbox="239 1086 869 1187" type="text"/>	
答: () 双		
49	批发商有 758 支牙刷, 昨天卖出 500 支牙刷, 今天又卖出 116 支牙刷。批发商还剩多少支牙刷? <input data-bbox="247 1523 885 1624" type="text"/>	
答: () 支		
50	老师把 60 个学生分成 10 组, 每一组有多少个学生? <input data-bbox="239 1904 885 2004" type="text"/>	
答: () 个		

答案

- A) 18) 十位, 50
- 1) C
- 2) A E)
- 3) B 19) 495
- 4) C 20) 319, 323
- 5) B 21) 400, 420
- 6) A
- 7) B G)
- 8) C 22) 306
- 9) B 23) 546
- 10) C
- H)
- B) 24) 大
- 11) 8, 6, 1 25) 738
- 12) 200, 70, 3
- I)
- C) 26) 4, 5, 20
- 13) 360 27) 6, 10, 60
- 14) 600 28) 20, 2, 10
- 29) 15, 5, 3
- D) 30) $680 - 193 = 487$
- 15) 313, 574, 629, 730
- 16) 507, 411, 376, 213 J)
- 31) 781
- E) 32) 249
- 17) 百位, 200 33) 367

34) 12

35) 296

36) 32

37) 543

38) 8

39) 80

40) 283

K)

41) $654 + 294 = 948$

42) $125 + 452 + 121 = 698$

43) $320 - 89 = 231$

44) $2 \times 8 = 16$

45) $25 \div 5 = 5$

46) $546 - 226 = 320$

47) $4 \times 6 = 24$

48) $63 + 19 + 7 = 89$

49) $738 - 500 - 116 = 122$

50) $60 \div 10 = 6$

扫描二维码 (WeChat ID: sjkcmy), 关注“华小大小事”, 更多好康等着你!



马来西亚最齐全在网上写作课程: 《小作家课程》和《写作练习班》! 只需一次付费, 即可使用长达三年! 而且内容会持续更新, 不另加收费!

超值配套! 最优惠的价格购买《小作家课程》和《写作练习班》: <https://30.com.my/package>

