

三年级数学 单元十五: 数据表示

试卷一

1. 下表显示 3D 班学生的喜欢的食物。

喜欢的食物	学生人数
海鲜炒饭	12
叉烧饭	5
咖喱面	8
鱼丸面	10

喜欢吃咖喱面的学生有多少人?

- A 5
B 8
C 10
D 12

2. 下表显示礼堂里的学生的年级。

年级	学生人数
一年级	21
二年级	10
三年级	13
四年级	17

哪个年级的学生最少?

- A 一年级
B 二年级
C 三年级
D 四年级

3. 下表显示动物园里的游客人数。

游客	人数
男成人	16
女成人	22
儿童	17

动物园里一共有多少位游客?

- A 55
B 22
C 17
D 16

4. 下表显示开心蛋糕店卖出的不同种类蛋糕的数量。

蛋糕的口味	卖出的数量 (个)
草莓	
黑森林	
日本芝士	

开心蛋糕店一共卖出多少个蛋糕?

- A 9
B 12
C 13
D 34

5. 下表显示宠物店里各种宠物的数量。

宠物	数量 (只)
小狗	
小猫	
仓鼠	
小兔子	

哪种宠物的数量最多?

- A 小狗
 B 小猫
 C 仓鼠
 D 小兔子
6. 下表显示书架上不同种类的书的数量。

书的种类	数量 (本)
漫画	
小说	
参考书	

书架上一共有多少本漫画?

- A 9
 B 13
 C 16
 D 21
7. 下表显示三个课室里的椅子的数量。

课室	椅子的数量 (张)
L	
M	
N	

三个课室里一共有多少张椅子?

- A 4
 B 7
 C 10
 D 21
8. 下表显示杂货店卖出的饮料的数量。


饮料	记数符号	卖出的数量 (瓶)
牛奶		8
汽水	P	7
果汁		14

以下哪项代表 P?






- A ||
 B ||||
 C |||| ||
 D |||| |||| ||

试卷二

下图显示一组学生最喜欢的水果。根据下图, 回答所有问题。



1. 根据各种水果的种类, 完成以下的表格。

水果的种类	 苹果	 草莓	 西瓜	 樱桃	 香蕉
记数符号					
数量					

- 有多少个学生喜欢樱桃?
- 哪个水果最多学生喜欢?
- 哪个水果最少学生喜欢?
- 哪两个水果被一样数量的学生喜欢?
- 这个组里一共有多少个学生?

答案

试卷一

- | | |
|------|------|
| 1. B | 5. A |
| 2. B | 6. C |
| 3. A | 7. D |
| 4. D | 8. C |

试卷二

1.

水果的种类	苹果	草莓	西瓜	樱桃	香蕉
记数符号					
数量	8	7	7	5	4

- 5 个
- 苹果
- 香蕉
- 草莓和西瓜
- $8 + 7 + 7 + 5 + 4 = 31$