

2016年四年级数学年终评审试卷 (二)

时间: 1 小时

姓名: _____ ()

成绩:

班级: 4 ()

日期: 14.10.2016

这份试卷有 15 题试题, 总共 60 分。学生必须回答所有试题并写出计算步骤。

1) RM9 801.42

(2分)

文字: _____

令吉的近似值: _____

2) 完成以下数列。

(2分)

25, 50, 75, 100, (), ()

1, 1, 2, 3, 5, 8, (), ()

3) 0.01, 0.1, 0.001, 0.101, 1.1

(2分)

逆序排列上述的数目。

4) 找出 P 和 Q。

$$P + 789 = 1000$$

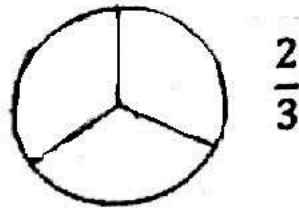
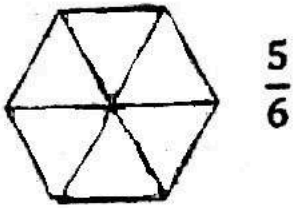
(2分)

Q 比 P 多三倍。

(2分)

(1分)

5) a) 涂上颜色。



b) 找出上述两个分数的差数。

(2分)

c) 以假分数和带分数写出上述两个分数的和数。

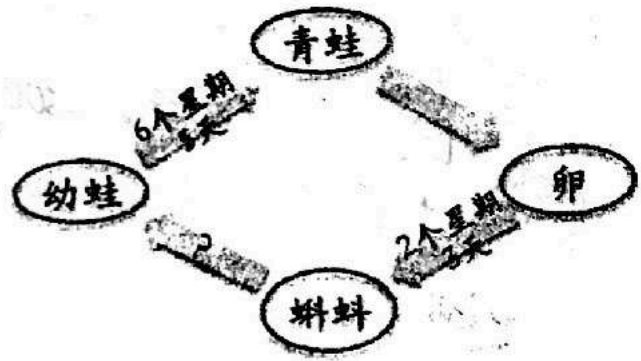
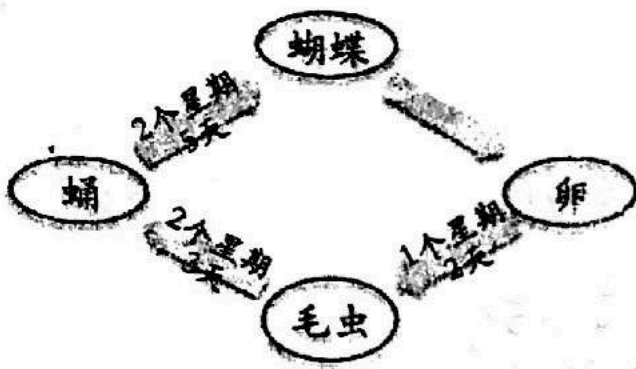
(3分)

6) 连一连。

1.803
0.7
0.09
0.12

$\frac{700}{1000}$
12%
$1\frac{803}{1000}$
9%

7) 以下图表显示蝴蝶和青蛙的生命周期。



a) 蝴蝶的生命周期共多久?

(2分)

b) 青蛙的生命周期是16个星期。


从蝌蚪变成幼蛙的阶段需要多少时间?

(2分)

c) 蝴蝶和青蛙的生命周期相差多少?

(2分)

8)




a) 把左图涂成 $\frac{25}{100}$ 。

b) $\frac{25}{100}$ 的最简分数是 _____。

c) $\frac{25}{100}$ 的小数等于 _____。

d) $\frac{25}{100}$ 的百分比是 _____。

9)



a) 蛋糕的质量是 _____ kg。 (1分)

b) 以克写出质量。 _____ (1分)

c) 妈妈一共烘了8个相同的蛋糕, 总质量是多少?

(2分)

d) 如果妈妈以RM116.80 卖出所有蛋糕, 一个蛋糕的价钱是多少? (2分)

10) 下图显示学校里各地标的位置。

5				课室	
4		食堂			
3			办公室		
2					
1	图书馆				
	A	B	C	D	E

a) 把礼堂写在 (B, 2) 里。

(1分)

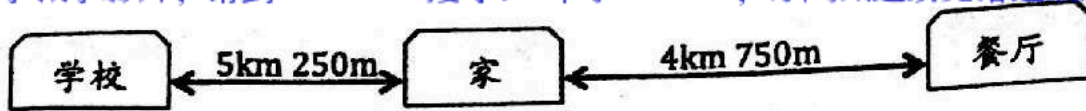
b) 办公室的位置是 _____。

(1分)

c) 试写出如何从图书馆走到食堂。

(2分)

11)



a) 学校与餐厅之间的距离共多少?

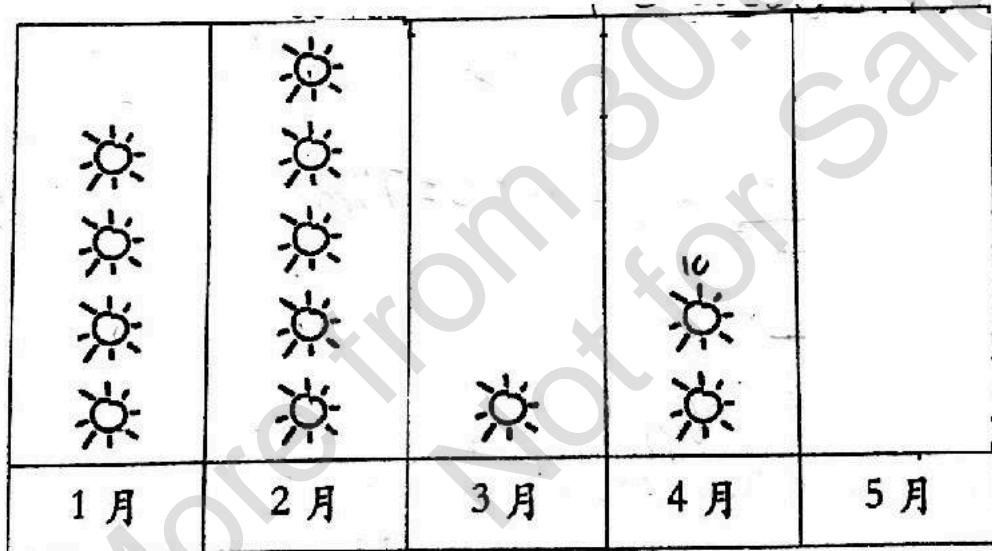
(2分)

b) 小伟放学后都会从家里骑自行车到餐厅帮忙。

小伟在一个星期里来回需骑多远的路程?

(3分)

12)



☀ 代表 5 次晴天

a) 这个象形统计图的标题是

。(1分)

b) 4月共有 () 次晴天。

(1分)

c) 1月的晴天比 () 少。

(1分)

d) 2月和3月相差了 () 次晴天。

(1分)

e) 如果这五个月共共有 75 次晴天, 试为 5 月份画上适量的太阳。

(1分)

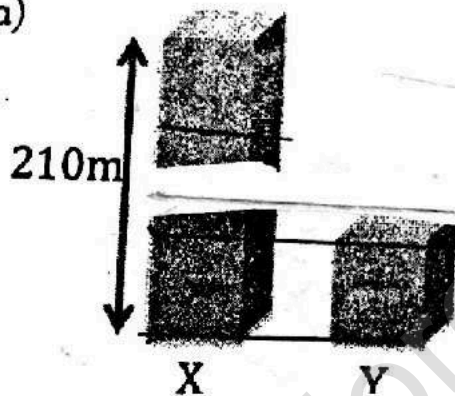
- 13) 一篮苹果连同篮子的质量共是 $1\text{kg}600\text{g}$, 篮子的质量是 500g 。店员再放入 $1\text{kg}700\text{g}$ 的苹果后, 篮子里苹果的质量是多少? (3分)

- 14) 一家出版社将 23 200 本杂志平均装入 100 个箱子里。

6 个箱子里有多少本杂志?

(3分)

15) a)



左图显示两栋大厦。估计大厦 Y 的高度。(2分)

- b) 丽娜随手翻开数学课本书后, 把看到的两个页数加起来并得到 39。

试问丽娜翻开看到的两页是什么页数?

(2分)

SJKC Desa Jaya

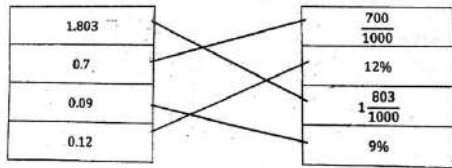
Maths Paper 2 (Answer)

- 1) 九千八百零一令吉四十二仙
RM 9801
- 2) 125,150 ; 13,21
- 3) 1.1 , 0.101,0.1,0.01,0.001
- 4) P= 211 ; Q = 633
- 5) (a)




(b) $\frac{1}{6}$

(c) 假分数: $\frac{9}{6}$ 带分数: $1\frac{1}{2}$



- 6)
- 7) (a) 6 星期 3 天
(b) 6 星期 6 天
(c) 4 星期 4 天



- 8) (a)
(b) $\frac{1}{4}$
(c) 0.25
(d) 25%


- 9) (a) 2.5kg
(b) 2500g
(c) 20kg
(d) RM14.60

- 10) (a)

5					课室
4		食堂			
3				办公室	
2		礼堂			
1	图书馆				
	A	B	C	D	E

- (b) (D,3)
- (c) 走上三格，走右一格

- 11) (a) 10km
(b) 66km 500m
- 12) (a) 5 月份里的晴天次数
(b) 10
(c) 2 月
(d) 20



- (e)
- 13) 2kg800g
- 14) 1392
- 15) (a) 70m
(b) 39