

帝沙再也国民型华文学校 (二校)

四年级历史评审 (2.2)

时间: 一小时

姓名: _____ ()

班级: 4()

日期: 13. 10. 2016

A. 选择题-选出正确的答案, 并把答案字母写在格子里。 (20%)

1. 地方闻人都具有什么共同点?
 - A 不具影响力
 - B 为地方发展及其他方面做出贡献
 - C 积极做环保
 - D 都是老师

2. 史前时代的日常工具是怎样被发明出来的?
 - I 随时代变迁逐渐改良而成
 - II 发挥创新的精神
 - III 顺应周遭环境
 - IV 随心所欲发明的
 - A I, II 和 III
 - B I, II 和 IV
 - C I, III 和 IV
 - D II, III 和 IV

3. 哪项是马六甲王朝遗留下来的统治系统?
 - I 以法律为主的统治系统
 - II 首个使用苏丹称号的王朝
 - III 与多个国家建立邦交
 - IV 井然有序的行政系统
 - A I 和 II
 - B II 和 III
 - C II, III 和 IV
 - D I, II, III 和 IV

4. 正确排序马来社会的阶层地位。

P 苏丹

Q 奴隶

A P, R, Q, S

B P, S, Q, R

C P, Q, R, S

D P, R, S, Q

R 王室成员

S 平民百姓

5.

成立于6世纪的吉兰丹河附近, 由乔答摩创立。

以上说明是指哪个马来王朝?

A 赤土

B 山都望

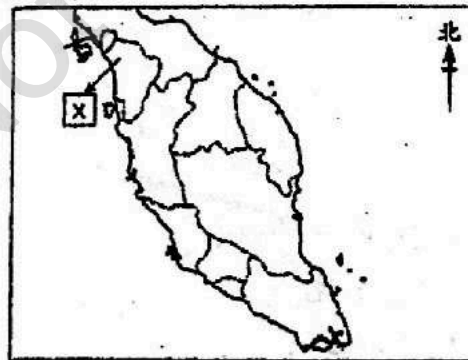
C 木歪

D 刚迦王国

6. 哪项搭配是正确的?

	大臣	职责
A	宰相	管制国内的治安
B	海军统帅	维持海域的安全
C	天猛公	辅佐及劝谏苏丹
D	财务大臣	苏丹的私人顾问

7. 哪项有关 X 王朝的说明是正确的?



I X王朝是刚迦王国

II X王朝的主要经济是耕田

III X王朝成立于5世纪

IV X王朝位于布秧谷河流域

A I, II 和 III

B I, III 和 IV

C II, III 和 IV

D I, II, III 和 IV

8. 哪项不是敦霹雳在马六甲辉煌时期所扮演的角色?
- I 管理国家财务
 - II 建议苏丹信奉回教
 - III 委任王妃
 - IV 与周边强国建立友好关系
- A I, II 和 III
B I, III 和 IV
C II, III 和 IV
D I, II, III 和 IV
9. 哪个史前时代的人类用青铜制成工具, 开始发展农牧业?
- A 中石器时代
 - B 旧石器时代
 - C 新石器时代
 - D 青铜器时代
10. 为何暹罗会二度攻打马六甲?
- A 为了第一次的失败而复仇
 - B 为了杀死敦霹雳
 - C 为了扩大暹罗的管辖地
 - D 为了推翻马六王朝
11. 不珍惜地球资源和不爱护自然环境将会导致以下结果, 除了
- A 鸟语花香
 - B 地球能源枯竭
 - C 物种灭绝
 - D 温室效应日愈严重
12. 使人类不断进步的重要因素是什么?
- A 学习的机会
 - B 知识水平
 - C 创新精神
 - D 制作工具的材料
13. 史前人类的努力不懈和创新精神, 非常值得我们
- A. 学习 B. 忽略 C. 无视 D. 遗忘
14. 我国位于七大洲中的哪一洲?
- A 非洲 C 大洋洲
 - B 欧洲 D 亚洲

15. 如果地球遭受到最严重的污染:
- A 人们的健康会大受影响
 - B 高山将逐渐变成平地
 - C 能收回的垃圾将大量增加
 - D 蓄水池的水位将不断上升
16. 地球上的陆地和海洋是怎样形成的?
- A 冰块凝固
 - B 河水结冰
 - C 气温降低
 - D 冰川移动
17. 哪个时代的人类把尸体埋葬在用石块造成的坟墓里?
- A 旧石器时代
 - B 青铜器时代
 - C 新石器时代
 - D 中石器时代
18. 前来马六甲经商的商人遭海盗袭击, 谁要负责解决这件事?
- A 平民百姓
 - B 海军统帅
 - C 财务大臣
 - D 宰相
19. 哪项不是马六甲的外语名字?
- A Gasper Correa
 - B Mulaqah
 - C Amalaka
 - D Malagas
20. 在敦霹雳被委任为宰相之前, 宰相是谁?
- A 汉惹拔
 - B 敦阿里
 - C 汉都亚
 - D 敦姑社

B. 填写正确的答案。(20%)

- 拜里米苏拉出生于 _____ 年, 是 _____ 的国王。
- _____ 是 14 世纪崛起的早期马来王朝, 当地居民都以捕鱼为主要的经济活动。
- _____ 是马来群岛中的一个岛。
- 敦霹雳运用 _____ 来扩大马六甲王朝的 _____, 建立成一个帝国。
- 毕治是英国的 _____, 提供 _____ 有关该州行政管理方面的咨询。
- 历史隧道里置放了 42 个我国历史发展的 _____, 同时也展示了 _____ 及传统服装等文物。

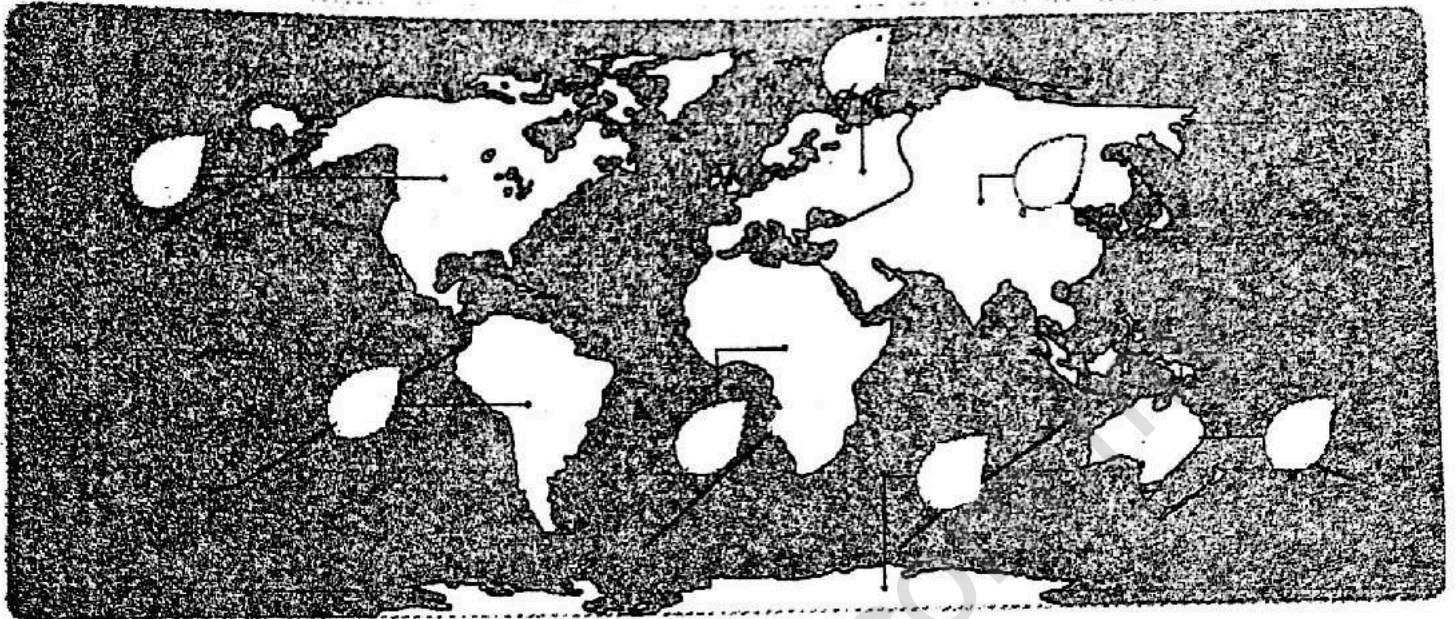
苏丹	1344	势力	陶器	巨港
苏门达腊	参政司	立体图景	淡马锡	智慧

C. 是非题: 正确的说明画√; 错误的则画 X。(10%)

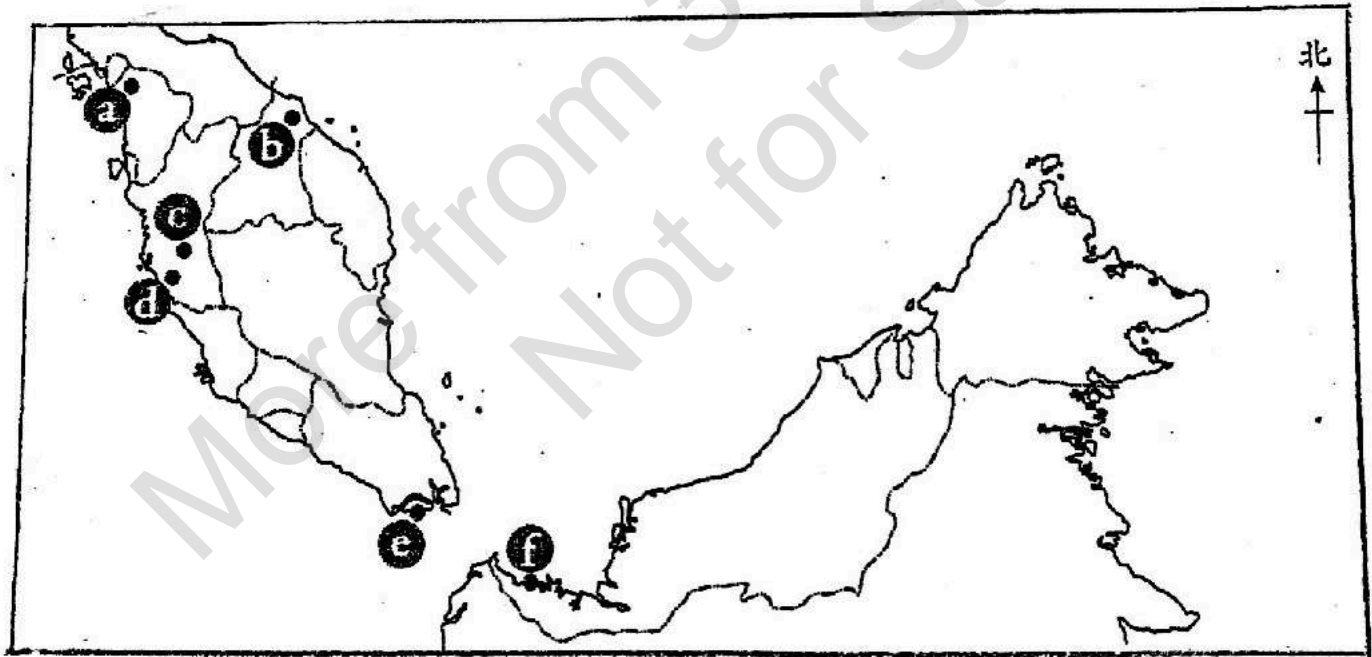
- 居住在低洼地区的居民因靠近河流或湖泊, 非常适合农耕。..... ()
- 如果没有冰川移动就不会有陆地和海洋的发生。..... ()
- 接受大臣与使者的参拜, 可突显苏丹的主权地位。..... ()
- 在宪法的维护下, 所有州属及人民都享有同等的和平与权利。... ()
- 国家原则第五条是效忠于君国, 它强调人民必须效忠于统治者。...()
- 南中国海坐落在马来半岛西边。.....()
- 人类的创新精神使各种发明越来越进步。.....()
- 东北季候风刮起时, 会造成非常大的海浪。.....()
- 敦勿沙 (Tun Besar) 是敦霹雳的儿子。..... ()
- 柔佛州是史前时代最多居民点的地方。.....()

D. 在地图上填写代表大陆的字母。(7%)

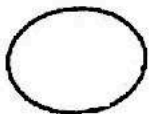
P 北美洲 **Q** 南美洲 **R** 欧洲 **S** 非洲 **T** 亚洲 **U** 大洋洲 **V** 南极洲



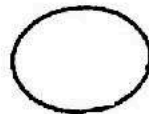
根据以下地图所在的位置的代号，搭配早期马来王朝的名称。(3%)



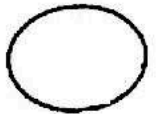
赤土




山都望




老吉打



木歪



淡马锡



刚迦王国

